

บทที่ 3

วิธีดำเนินการวิจัย

การวิจัยเรื่อง การสร้างบทเรียนแบบโปรแกรมวิชาคณิตศาสตร์ เรื่อง "ฟังก์ชันตรีโกณมิติ" สำหรับระดับมัธยมศึกษาตอนปลาย ผู้วิจัยได้ดำเนินการวิจัยเป็นขั้น ๆ ดังนี้

1. ศึกษาเทคนิคและวิธีการสร้างบทเรียนแบบโปรแกรม

ผู้วิจัยได้ศึกษาเทคนิคและวิธีการเขียนบทเรียนแบบโปรแกรมจากหนังสือหลายเล่ม และจากการทดลองสร้างบทเรียนแบบโปรแกรมนิตเส้นตรง ในการศึกษาวิชามูลสารการวิจัยทางพฤติกรรม (Fundamental of Behavioral Research) หลังจากได้ศึกษาอย่างละเอียดแล้ว ผู้วิจัยจึงได้ตัดสินใจเลือกสร้างบทเรียนแบบโปรแกรมนิตเส้นตรง ในเนื้อหาที่กำหนดไว้ ทั้งนี้เพราะบทเรียนแบบโปรแกรมชนิดเส้นตรงเป็นบทเรียนที่นิยมกันมากที่สุด ใช้ง่ายที่สุด และมีวิธีการไม่ยุ่งยาก เหมาะสมกับนักเรียนไทยซึ่งยังไม่คุ้นเคยกับบทเรียนแบบโปรแกรมและเหตุผลที่สำคัญอีกอย่างคือ ยังไม่มีตำราบทเรียนแบบโปรแกรมเรื่องฟังก์ชันตรีโกณมิติที่เป็นภาษาไทยมาก่อน

2. ศึกษาเนื้อหาวิชาเรื่อง ฟังก์ชันตรีโกณมิติ

ผู้วิจัยได้ศึกษาเนื้อหาและวิธีสอนเกี่ยวกับเรื่องฟังก์ชันตรีโกณมิติจากหนังสือหลาย ๆ เล่ม ทั้งที่เป็นภาษาไทยและภาษาต่างประเทศ โดยยึดตามหลักสูตรของสถาบันส่งเสริมการสอนวิทยาศาสตร์และเทคโนโลยี นอกจากนี้ยังได้รับคำแนะนำจากอาจารย์ผู้ควบคุมการวิจัยเป็นอย่างดี

3. กำหนดวัตถุประสงค์ทั่วไปและวัตถุประสงค์เชิงพฤติกรรม

เมื่อได้ขอบเขตของเนื้อหาแล้ว ผู้วิจัยได้เรียงลำดับเนื้อหาตามความเหมาะสม หลังจากนั้นก็ได้กำหนดวัตถุประสงค์ทั่วไป และวัตถุประสงค์เชิงพฤติกรรมขึ้น ตามขอบเขตของเนื้อหาที่กำหนดไว้

วัตถุประสงค์ทั่วไป และวัตถุประสงค์เชิงพฤติกรรม เรื่องฟังก์ชันตรีโกณมิติ
ผู้วิจัยกำหนดขึ้นมีดังนี้

1. เพื่อให้นักเรียนรู้จักวงกลมหนึ่งหน่วย (Unit Circle)

1.1 นักเรียนสามารถสรุปได้ว่าลักษณะของวงกลมหนึ่งหน่วย คือ

ก. มีจุดศูนย์กลางที่จุด $(0,0)$ และมีรัศมียาว 1 หน่วย

ข. เส้นรอบวงยาว 2π หน่วย

ค. เส้นรอบวงตัดแกน X ที่จุด $(1,0)$ และ $(-1,0)$

ง. เส้นรอบวงตัดแกน Y ที่จุด $(0,1)$ และ $(0,-1)$

จ. มีแกน X และแกน Y เป็นแกนสมมาตร

ฉ. ความสัมพันธ์ $\{(x,y) \in \mathbb{R} \times \mathbb{R} \mid x^2 + y^2 = 1\}$

(ก. 26) (แบบสอบข้อ 2)

1.2 ถ้ากำหนดให้จุด (x, y) อยู่บนเส้นรอบวงของวงกลมหนึ่งหน่วย

นักเรียนสามารถบอกได้ว่า $x^2 + y^2 = 1$ (ก. 14 - 17)

(แบบสอบ ข้อ 1, 3)

1.3 ที่จุด (x, y) บนเส้นรอบวงของวงกลมหนึ่งหน่วย ถ้ากำหนด

ค่าของ x หรือ y นักเรียนสามารถหาค่าที่เหลือได้โดยใช้ความ

สัมพันธ์ $x^2 + y^2 = 1$ (ก. 18 - 19) (แบบสอบข้อ 4)

2. เพื่อให้นักเรียนรู้จักการแทนจำนวนจริงด้วยความยาวของส่วนโค้งของวงกลม
หนึ่งหน่วย

2.1 ถ้ากำหนดให้ θ เป็นจำนวนจริงใด ๆ นักเรียนสามารถบอกได้ว่า

ก. การแทน θ ด้วยความยาวของส่วนโค้งของวงกลมหนึ่งหน่วย

คือการวัดส่วนโค้งของวงกลมหนึ่งหน่วยจากจุด $(1, 0)$ ให้

ส่วนโค้งยาว θ หน่วย (ก. 34)

ข. ถ้า θ เป็นจำนวนจริงบวก ต้องแทนด้วยความยาวของส่วนโค้งของ

วงกลมหนึ่งหน่วยซึ่งวัดทวนเข็มนาฬิกา (ก. 37)

ค. ถ้า θ เป็นจำนวนจริงลบ ต้องแทนด้วยความยาวของส่วนโค้งของ

วงกลมหนึ่งหน่วยซึ่งวัดตามเข็มนาฬิกา (ก. 37)

- ง. ถ้า $|a| = 2\pi$ แล้วจะต้องแทน θ ด้วยส่วนโค้งของวงกลมหนึ่งหน่วย ยาวเท่ากับ 1 รอบ (ก. 40)
- จ. ถ้า $|a| < 2\pi$ แล้วจะต้องแทน θ ด้วยส่วนโค้งของวงกลมหนึ่งหน่วย ยาวน้อยกว่า 1 รอบ (ก. 41)
- ฉ. ถ้า $|a| > 2\pi$ แล้วจะต้องแทน θ ด้วยส่วนโค้งของวงกลมหนึ่งหน่วยยาวมากกว่า 1 รอบ (ก. 41)
- 2.2 ถ้าแทนจำนวนจริง θ ด้วยความยาวของส่วนโค้งของวงกลมหนึ่งหน่วย นักเรียนสามารถบอกได้ว่าจุดปลายความยาวส่วนโค้งของ θ คือจุดปลายของส่วนโค้งที่ยาว θ หน่วย (ก. 47)
- 2.3 ถ้า θ เป็นจำนวนจริงบวก นักเรียนสามารถสรุปได้ว่า จำนวนจริงที่มีจุดปลายความยาวส่วนโค้งเป็นจุดเดียวกันกับ θ เมื่อแทนด้วยความยาวของส่วนโค้งของวงกลมหนึ่งหน่วยคือ จำนวนจริง $n(2\pi) + \theta$ เมื่อ n เป็นจำนวนเต็มบวก (ก. 5) (แบบสอบข้อ 5)
- 2.4 ถ้า θ เป็นจำนวนจริงลบ นักเรียนสามารถสรุปได้ว่า จำนวนจริงที่มีจุดปลายความยาวส่วนโค้งเป็นจุดเดียวกันกับ θ เมื่อแทนด้วยความยาวของส่วนโค้งของวงกลมหนึ่งหน่วย คือ จำนวนจริง $n(-2\pi) + \theta$ เมื่อ n เป็นจำนวนเต็มบวก (ก. 59)
- 2.5 นักเรียนสามารถสร้างรูปแสดงการแทนจำนวนจริง $0, \frac{\pi}{6}, \frac{\pi}{4}, \frac{\pi}{3}, \frac{\pi}{2}, \frac{3\pi}{2}$ และ 2π ด้วยความยาวของส่วนโค้งของวงกลมหนึ่งหน่วย ได้ (ก. 67, 72, 78, 83, 89) (แบบสอบข้อ 6)
- 2.6 ถ้าแทนจำนวนจริง θ ด้วยความยาวของส่วนโค้งของวงกลมหนึ่งหน่วย นักเรียนสามารถบอกได้ว่า จุดปลายความยาวส่วนโค้งของ θ อยู่ในควอดรันต์ที่เท่าไร (ก. 73 - 75) (แบบสอบข้อ 11)
- 2.7 นักเรียนสามารถบอกโคออร์ดิเนตของจุดปลายความยาวส่วนโค้งของ $0, \frac{\pi}{6}, \frac{\pi}{4}, \frac{\pi}{3}, \frac{\pi}{2}, \frac{3\pi}{2}$ และ 2π เมื่อแทนจำนวนจริงเหล่านี้ด้วยความยาวของส่วนโค้งของวงกลมหนึ่งหน่วยได้ (ก. 77, 95) (แบบสอบข้อ

3. เพื่อให้นักเรียนรู้จักฟังก์ชันไซน์และฟังก์ชันโคไซน์

3.1 ถ้า θ เป็นจำนวนจริงใด ๆ และเมื่อแทน θ ด้วยความยาวของส่วนโค้งของวงกลมหนึ่งหน่วย ทำให้จุดปลายความยาวส่วนโค้งของ θ มีโคออร์ดิเนตเป็น (x, y) นักเรียนสามารถบอกได้ว่า

ก. ฟังก์ชัน sine คือเซตของคู่ลำดับ (θ, y)

ข. ฟังก์ชัน cosine คือเซตของคู่ลำดับ (θ, x)

(ก.101)

3.2 นักเรียนสามารถบอกได้ว่า

ก. ถ้า (θ, y) อยู่ใน sine เขียนแทนด้วย $\sin \theta = y$
หรือเขียนสั้น ๆ ว่า $\sin \theta = y$

ข. ถ้า (θ, x) อยู่ใน cosine เขียนแทนด้วย
 $\cos \theta = x$ หรือเขียนสั้น ๆ ว่า $\cos \theta = x$

(ก.107)

3.3 นักเรียนสามารถสรุปได้ว่า

ก. โดเมนของฟังก์ชันไซน์และฟังก์ชันโคไซน์คือเซตของจำนวนจริง

ข. เรนจ์ของฟังก์ชันไซน์และฟังก์ชันโคไซน์คือจำนวนจริงที่มีค่าระหว่าง 1 ถึง -1 (ก.106) (แบบสอบข้อ 14)

3.4 ถ้า θ เป็นจำนวนจริง ซึ่งมี (x, y) เป็นโคออร์ดิเนตของจุดปลายความยาวส่วนโค้งของ θ เมื่อแทน θ ด้วยความยาวของส่วนโค้งของวงกลมหนึ่งหน่วย นักเรียนสามารถบอกได้ว่า
 $\sin \theta = y$ และ $\cos \theta = x$ (ก.110) (แบบสอบข้อ 12)

3.5 ถ้าแทนจำนวนจริง α และ θ ด้วยความยาวของส่วนโค้งของวงกลมหนึ่งหน่วย ทำให้จุดปลายความยาวส่วนโค้งของ α และ θ เป็นจุดเดียวกัน นักเรียนสามารถบอกได้ว่า

$$\sin \theta = \sin \alpha \quad \text{และ} \quad \cos \theta = \cos \alpha$$

(ก.116 - 118) (แบบสอบข้อ 50)

3.6 ถ้า θ เป็นจำนวนจริง และแทน θ ด้วยความยาวของส่วนโค้งของวงกลมหนึ่งหน่วย นักเรียนสามารถสรุปได้ว่า

ก. ถ้าจุดปลายความยาวส่วนโค้งอยู่ในควอดรันต์ที่ 1 แล้ว $\sin \theta$ มีเครื่องหมายบวก และ $\cos \theta$ มีเครื่องหมายบวก

ข. ถ้าจุดปลายความยาวส่วนโค้งอยู่ในควอดรันต์ที่ 2 แล้ว $\sin \theta$ มีเครื่องหมายบวก และ $\cos \theta$ มีเครื่องหมายลบ

ค. ถ้าจุดปลายความยาวส่วนโค้งอยู่ในควอดรันต์ที่ 3 แล้ว $\sin \theta$ มีเครื่องหมายลบ และ $\cos \theta$ มีเครื่องหมายลบ

ง. ถ้าจุดปลายความยาวส่วนโค้งอยู่ในควอดรันต์ที่ 4 แล้ว $\sin \theta$ มีเครื่องหมายลบ และ $\cos \theta$ มีเครื่องหมายบวก (ก.123)

(แบบสอบข้อ 13)

3.7 นักเรียนสามารถบอกความแตกต่างระหว่าง $\cos^2 \theta$ และ $\cos \theta^2$ ได้ว่า $\cos^2 \theta$ หมายถึง $(\cos \theta)^2$ หรือ $(\cos \theta)(\cos \theta)$ ส่วน $\cos \theta^2$ หมายถึง cosine ของจำนวนจริง θ^2

(ก.127 - 128)

3.8 นักเรียนสามารถบอกความแตกต่างระหว่าง $\sin^2 \theta$ และ $\sin \theta^2$ ได้ว่า $\sin^2 \theta$ หมายถึง $(\sin \theta)^2$ หรือ $(\sin \theta)(\sin \theta)$ ส่วน $\sin \theta^2$ หมายถึง sine ของจำนวนจริง θ^2 (ก.129 - 130)

3.9 นักเรียนสามารถสรุปความสัมพันธ์ระหว่างฟังก์ชันไซน์และฟังก์ชันโคไซน์ได้คือ $\cos^2 \theta + \sin^2 \theta = 1$ (ก.132)

(แบบสอบข้อ 16)

3.10 ถ้ากำหนดค่า $\sin \theta$ หรือ $\cos \theta$ ให้ นักเรียนสามารถหาค่าของฟังก์ชันที่เหลือได้โดยใช้ความสัมพันธ์ $\cos^2 \theta + \sin^2 \theta = 1$

(ก.133 - 136) (แบบสอบข้อ 15)

4. เพื่อให้นักเรียนรู้จักการใช้วงกลมหนึ่งหน่วยหาค่าฟังก์ชันไซน์และฟังก์ชันโคไซน์ของจำนวนจริง $0; \frac{\pi}{6}, \frac{\pi}{4}, \frac{\pi}{3}, \frac{\pi}{2}, \pi, \frac{3\pi}{2}$ และ 2π

4.1 นักเรียนสามารถบอกค่าฟังก์ชันไซน์และฟังก์ชันโคไซน์ของ $0, \frac{\pi}{6}, \frac{\pi}{4}, \frac{\pi}{3}, \frac{\pi}{2}, \pi, \frac{3\pi}{2}$ และ 2π ได้ โดยการแทนจำนวนจริงเหล่านี้ด้วยความยาวของส่วนโค้งของวงกลมหนึ่งหน่วย

(ก. 138 - 142, 144 - 146)

4.2 นักเรียนสามารถสรุปค่าฟังก์ชันไซน์และฟังก์ชันโคไซน์ของ

$0, \frac{\pi}{6}, \frac{\pi}{4}, \frac{\pi}{3}, \frac{\pi}{2}, \pi, \frac{3\pi}{2}$ และ 2π ได้ (ก. 143, 147)

(แบบสอบข้อ 17 - 21)

4.3 นักเรียนสามารถหาค่าของจำนวนซึ่งประกอบด้วยฟังก์ชันไซน์และฟังก์ชันโคไซน์ของ $0, \frac{\pi}{6}, \frac{\pi}{4}, \frac{\pi}{3}, \frac{\pi}{2}, \pi, \frac{3\pi}{2}$ หรือ 2π ได้

(ก. 148 - 150) (แบบสอบข้อ 22)

5. เพื่อให้นักเรียนรู้จักการแสดงค่าฟังก์ชันไซน์และฟังก์ชันโคไซน์ของจำนวนจริงใดๆ ในเทอมของค่าของฟังก์ชันของจำนวนจริงตั้งแต่ 0 ถึง $\frac{\pi}{2}$

5.1 ถ้า θ เป็นจำนวนจริงบวก นักเรียนสามารถสรุปโดยใช้คุณสมบัติสมมาตรของวงกลมหนึ่งหน่วยได้ว่า

ก. $-\theta$ เป็นจำนวนจริงลบ

ข. $\sin(-\theta) = -\sin \theta$ และ

$\cos(-\theta) = \cos \theta$ (ก. 155) (แบบสอบข้อ 23)

5.2 ถ้า θ เป็นจำนวนจริงบวก และนักเรียนรู้ค่าของ $\sin \theta$ หรือ

$\cos \theta$ นักเรียนสามารถบอกค่าของ $\sin(-\theta)$ หรือ

$\cos(-\theta)$ ได้ (ก. 157 - 158) (แบบสอบข้อ 27)

5.3 ถ้า θ เป็นจำนวนจริงซึ่ง $\theta > 2\pi$ นักเรียนสามารถบอกได้ว่า

ก. $\theta = n(2\pi) + \alpha$ เมื่อ n เป็นจำนวนเต็มบวก และ

$0 \leq \alpha < 2\pi$

ข. $\sin \theta = \sin \alpha$ และ

$$\cos \theta = \cos \alpha \quad (\text{ก.161})$$

5.4 ให้ θ เป็นจำนวนจริงซึ่ง $\theta > 2\pi$ และ $\theta = n(2\pi) + \alpha$ เมื่อ n เป็นจำนวนเต็มบวก และ $0 \leq \alpha < 2\pi$ ถ้านักเรียนรู้ค่าของ $\sin \alpha$ หรือ $\cos \alpha$ นักเรียนสามารถบอกค่าของ $\sin \theta$ หรือ $\cos \theta$ ได้ (ก.162 - 164)

(แบบสอบข้อ 29)

5.5 ถ้า θ เป็นจำนวนจริงบวกซึ่ง $\theta < 2\pi$ และเมื่อแทน θ ด้วยความยาวของส่วนโค้งของวงกลมหนึ่งหน่วย ทำให้จุดปลายความยาวส่วนโค้งของ θ อยู่ในควอดรันต์ที่ 2 นักเรียนสามารถสรุปโดยใช้คุณสมบัติสมมาตรของวงกลมหนึ่งหน่วยได้ว่า

ก. $0 < \pi - \theta < \frac{\pi}{2}$

ข. $\sin \theta = \sin(\pi - \theta)$ และ

$$\cos \theta = -\cos(\pi - \theta) \quad (\text{ก.170})$$

5.6 ให้ θ เป็นจำนวนจริงบวกซึ่ง $\theta < 2\pi$ และเมื่อแทน θ ด้วยความยาวของส่วนโค้งของวงกลมหนึ่งหน่วย ทำให้จุดปลายความยาวส่วนโค้งของ θ อยู่ในควอดรันต์ที่ 2 ถ้านักเรียนรู้ค่าของ $\sin(\pi - \theta)$ หรือ $\cos(\pi - \theta)$ นักเรียนสามารถบอกค่าของ $\sin \theta$ หรือ $\cos \theta$ ได้

(ก.172 - 173) (แบบสอบข้อ 24)

5.7 ถ้า θ เป็นจำนวนจริงบวกซึ่ง $\theta < 2\pi$ และเมื่อแทน θ ด้วยความยาวของส่วนโค้งของวงกลมหนึ่งหน่วย ทำให้จุดปลายความยาวส่วนโค้งของ θ อยู่ในควอดรันต์ที่ 3 นักเรียนสามารถสรุปโดยใช้คุณสมบัติสมมาตรของวงกลมหนึ่งหน่วยได้ว่า

ก. $0 < \theta - \pi < \frac{\pi}{2}$

ข. $\sin \theta = -\sin(\theta - \pi)$

$$\cos \theta = -\cos(\theta - \pi) \quad (\text{ก.178})$$

5.8 ให้ θ เป็นจำนวนจริงบวกซึ่ง $\theta < 2\pi$ และเมื่อแทน θ ด้วยความยาวของส่วนโค้งของวงกลมหนึ่งหน่วย ทำให้จุดปลายความยาวส่วนโค้งของ θ อยู่ในควอดรันต์ที่ 3 ถ้านักเรียนรู้ค่าของ $\sin(\theta - \pi)$ หรือ $\cos(\theta - \pi)$ นักเรียนสามารถบอกค่าของ $\sin \theta$ หรือ $\cos \theta$ ได้
(ก.180 - 181) (แบบสอบข้อ 25 - 26)

5.9 ถ้า θ เป็นจำนวนจริงบวกซึ่ง $\theta < 2\pi$ และเมื่อแทน θ ด้วยความยาวของส่วนโค้งของวงกลมหนึ่งหน่วย ทำให้จุดปลายความยาวส่วนโค้งของ θ อยู่ในควอดรันต์ที่ 4 นักเรียนสามารถสรุปโดยใช้คุณสมบัติสมมาตรของวงกลมหนึ่งหน่วยได้ว่า

$$\text{ก. } 0 < 2\pi - \theta < \frac{\pi}{2}$$

$$\text{ข. } \sin \theta = -\sin(2\pi - \theta)$$

$$\cos \theta = \cos(2\pi - \theta)$$

5.10 ให้ θ เป็นจำนวนจริงบวกซึ่ง $\theta < 2\pi$ และเมื่อแทน θ ด้วยความยาวของส่วนโค้งของวงกลมหนึ่งหน่วย ทำให้จุดปลายความยาวส่วนโค้งของ θ อยู่ในควอดรันต์ที่ 4 ถ้านักเรียนรู้ค่าของ $\sin(2\pi - \theta)$ หรือ $\cos(2\pi - \theta)$ นักเรียนสามารถบอกค่าของ $\sin \theta$ หรือ $\cos \theta$ ได้
(ก.188 - 189)

5.11 ถ้า θ เป็นจำนวนจริง นักเรียนสามารถแสดงค่าฟังก์ชันไซน์และฟังก์ชันโคไซน์ของ θ ให้อยู่ในรูปค่าของฟังก์ชันไซน์และฟังก์ชันโคไซน์ของจำนวนจริงตั้งแต่ 0 ถึง $\frac{\pi}{2}$
(ก.171, 179, 187, 190 - 191) (แบบสอบข้อ 28)

6. เพื่อให้ให้นักเรียนรู้จักฟังก์ชันตรีโกณมิติ

6.1 ให้ θ เป็นจำนวนจริงใดๆ นักเรียนสามารถสรุปได้ว่า

ก. ถ้า $\cos \theta \neq 0$ แล้ว $\tan \theta = \frac{\sin \theta}{\cos \theta}$ และ $\sec \theta = \frac{1}{\cos \theta}$

ข. ถ้า $\sin \theta \neq 0$ แล้ว $\cot \theta = \frac{\cos \theta}{\sin \theta}$ และ $\operatorname{cosec} \theta = \frac{1}{\sin \theta}$

(ก.199) (แบบสอบขอ 30)

6.2 ถ้านักเรียนรูค่าของ $\sin \theta$ หรือ $\cos \theta$ นักเรียนสามารถบอกค่าฟังก์ชันตรีโกณมิติโคจรบทั้งหกฟังก์ชัน (ก.200 - 202) (แบบสอบขอ 31, 33 - 36)

6.3 ถ้านักเรียนรูค่าของ $\sin \theta$ หรือ $\cos \theta$ นักเรียนสามารถหาค่าของจำนวนซึ่งประกอบด้วยฟังก์ชันตรีโกณมิติของจำนวนจริง θ ได้ (ก.204 - 205)

6.4 นักเรียนสามารถสรุปความสัมพันธ์ระหว่างฟังก์ชันตรีโกณมิติได้คือ

ก. $\tan \theta \cdot \cot \theta = 1$

ข. $\sin \theta \cdot \operatorname{cosec} \theta = 1$

ค. $\cos \theta \cdot \sec \theta = 1$

ง. $1 + \tan^2 \theta = \sec^2 \theta$

จ. $\cot^2 \theta + 1 = \operatorname{cosec}^2 \theta$

(ก.212) (แบบสอบขอ 32)

7. เพื่อให้ให้นักเรียนรู้จักฟังก์ชันตรีโกณมิติของมุม

7.1 นักเรียนสามารถบอกนิยามของมุมในวิชาตรีโกณมิติได้ว่ามุมในวิชาตรีโกณมิติเกิดจากการหมุนส่วนของเส้นตรงในแนวนอนซึ่งเรียกว่าด้านเริ่มต้นของมุม โดยใช้จุดปลายสุดทางซ้ายของด้านเริ่มต้นเป็นจุดหมุน และมีลูกศรแสดงการหมุนด้วย เมื่อส่วนของเส้นตรงนี้หยุด ณ ที่ใดก็ตามจะทำให้เกิดมุม เรียกส่วนของเส้นตรงนี้ว่าด้านสิ้นสุดของมุม และเรียกจุดหมุนว่า



จุดยอดของมุม (ก.213)
(แบบสอบข้อ 37)

7.2 นักเรียนสามารถบอกได้ว่า

ก. มุมบวก คือมุมที่เกิดจากการหมุนส่วนของเส้นตรงซึ่งเป็นค่านเริ่มต้นของมุมในทิศทางทวนเข็มนาฬิกา

ข. มุมลบ คือมุมที่เกิดจากการหมุนส่วนของเส้นตรงซึ่งเป็นค่านเริ่มต้นของมุมในทิศทางตามเข็มนาฬิกา (ก.214 - 215)

7.3 นักเรียนสามารถบอกได้ว่า $1^\circ = 60'$ และ $1' = 60''$
(ก.216)

7.4 ถ้าวัดขนาดของมุม A โดยใช้หน่วยในการวัดมุมเป็นองศา นักเรียนสามารถบอกขนาดของมุม A เป็นองศา ดิบคา และ วิลิบคาได้ (ก.217 - 218) (แบบสอบข้อ 40)

7.5 นักเรียนสามารถบอกได้ว่ามุมที่มีขนาด 1 เรเดียน คือมุมที่จุดศูนย์กลางของวงกลม ซึ่งรองรับด้วยส่วนโค้งของวงกลมที่ยาวเท่ากับรัศมีของวงกลม (ก.219)

7.6 นักเรียนสามารถบอกความสัมพันธ์ระหว่างหน่วยการวัดมุมเป็นองศา และหน่วยการวัดมุมเป็นเรเดียนได้คือ

$$180^\circ = \pi \text{ เรเดียน} \quad (\text{ก.221})$$

7.7 ถ้ากำหนดให้มุม A มีขนาดเป็นเรเดียน นักเรียนสามารถบอกขนาดของมุม A เป็นองศาได้ โดยใช้ความสัมพันธ์ $180^\circ = \pi$ เรเดียน (ก.222 - 223) (แบบสอบข้อ 38)

7.8 ถ้ากำหนดให้มุม A มีขนาดเป็นองศา นักเรียนสามารถบอกขนาดของมุม A เป็นเรเดียนได้ โดยใช้ความสัมพันธ์ $180^\circ = \pi$ เรเดียน (ก.224 - 225) (แบบสอบข้อ 39)

7.9 นักเรียนสามารถบอกได้ว่า มุมในตำแหน่งมาตรฐาน คือมุมที่จุดยอดอยู่ที่จุด $(0,0)$ และค่านเริ่มต้นของมุมทาบไปตามแกน X ทางบวก (ก.226) (แบบสอบข้อ 41)

7.10 นักเรียนสามารถสรุปได้ว่าฟังก์ชันตรีโกณมิติของมุมที่มีขนาด θ เรเดียน มีค่าเท่ากับฟังก์ชันตรีโกณมิติของจำนวนจริง θ (ก.230)

7.11 ถ้านักเรียนรูค่าฟังก์ชันตรีโกณมิติของจำนวนจริง θ นักเรียนสามารถบอกค่าฟังก์ชันตรีโกณมิติของมุมที่มีขนาด θ เรเดียนได้ (ก.231 - 234) (แบบสอบข้อ 42 - 45)

8. เพื่อให้ให้นักเรียนรู้จักฟังก์ชันตรีโกณมิติของมุมของสามเหลี่ยมมุมฉาก

8.1 ถ้าสามเหลี่ยม ABC มีมุม C เป็นมุมฉาก นักเรียนสามารถสรุปค่าฟังก์ชันตรีโกณมิติของมุม A ของสามเหลี่ยม ABC โดยใช้วงกลมหนึ่งหน่วย และคุณสมบัติของสามเหลี่ยมคล้ายได้ว่า

$$\sin A = \frac{\text{ด้านตรงข้ามมุม A}}{\text{ด้านตรงข้ามมุมฉาก}} ; \operatorname{cosec} A = \frac{\text{ด้านตรงข้ามมุมฉาก}}{\text{ด้านตรงข้ามมุม A}}$$

$$\cos A = \frac{\text{ด้านประชิดมุม A}}{\text{ด้านตรงข้ามมุมฉาก}} ; \sec A = \frac{\text{ด้านตรงข้ามมุมฉาก}}{\text{ด้านประชิดมุม A}}$$

$$\tan A = \frac{\text{ด้านตรงข้ามมุม A}}{\text{ด้านประชิดมุม A}} ; \cot A = \frac{\text{ด้านประชิดมุม A}}{\text{ด้านตรงข้ามมุม A}}$$

(ก.247)

8.2 ถ้ากำหนดความยาวของด้านทั้งสามด้านของสามเหลี่ยม ABC ซึ่งมีมุม C เป็นมุมฉาก นักเรียนสามารถบอกค่าฟังก์ชันตรีโกณมิติของมุม A ได้ครบทั้งหกฟังก์ชัน (ก.248) (แบบสอบข้อ 46 - 48)

8.3 ถ้ากำหนดความยาวของด้านหนึ่งของสามเหลี่ยม ABC ซึ่งมีมุม C เป็นมุมฉาก ถ้านักเรียนรูค่าฟังก์ชันตรีโกณมิติของมุม A นักเรียนสามารถบอกความยาวของด้านที่เหลือของสามเหลี่ยม ABC ได้ (ก.249) (แบบสอบข้อ 49)

4. สร้างแบบสอบเพื่อทดสอบก่อนและหลังการเรียนบทเรียนแบบโปรแกรม

ผู้วิจัยได้สร้างแบบสอบจำนวน (80) ข้อ ตามวัตถุประสงค์เชิงพฤติกรรม

ที่กำหนดไว้ เพื่อใช้เป็นเครื่องมือวัดประสิทธิภาพของบทเรียน และได้นำแบบสอบที่สร้างขึ้นนี้ไปทดสอบกับนักศึกษาชั้นประกาศนียบัตรวิชาชีพการศึกษาศึกษา ปีที่ 2 ปีการศึกษา 2519

ของวิทยาลัยครูสวนกุหลาบ กรุงเทพมหานคร จำนวน 100 คน ซึ่งเคยเรียนเรื่องฟังก์ชันตรีโกณมิติมาแล้วในภาคเรียนที่หนึ่ง และนำผลการสอบมาวิเคราะห์ ดังนี้

4.1 หาค่าความเชื่อมั่น (Reliability) ของแบบสอบทั้งฉบับ โดยวิธีของคูเคอร์ ริชาร์ดสัน 21 (Kuder Richardson 21)¹ ซึ่งคำนวณจากสูตรดังนี้

$$\text{จากสูตร } r_{KR21} = \frac{n}{n-1} \left(1 - \frac{M \cdot (n-M)}{n (SD)^2} \right)$$

เมื่อ r_{KR21} = ความเชื่อมั่นของแบบสอบ

n = จำนวนข้อของแบบสอบ

M = มัธยิมเลขคณิตของคะแนน

$(SD)^2$ = ความแปรปรวนของแบบสอบ

การหามัธยิมเลขคณิตของคะแนน² คำนวณจากสูตรดังนี้

$$\text{จากสูตร } M = \frac{\sum fx}{N}$$

เมื่อ M = มัธยิมเลขคณิตของคะแนน

$\sum fx$ = ผลรวมของคะแนนของนักเรียนทั้งหมด

N = จำนวนนักเรียนทั้งหมด

การหาความแปรปรวนของแบบสอบ³ คำนวณจากสูตร ดังนี้

$$\text{จากสูตร } (SD)^2 = \frac{\sum fx^2 - \frac{(\sum fx)^2}{N}}{N - 1}$$

เมื่อ $(SD)^2$ = ความแปรปรวนของแบบสอบ

¹Georgia Sachs Adams, Measurement and Evaluation in Education, Psychology and Guidance (New York: Holt Rinehart, and Winston, 1966), p. 87.

²Frederick C. Mills, Introduction to Statistics (New York: Henry Holt and Company, 1956), p. 90.

³Robert Parsons, Statistical Analysis : A Decision Making Approach (London : Harper Et Row. Publishers, 1974), p. 89.

X = คะแนนของนักเรียนแต่ละคน

N = จำนวนนักเรียนทั้งหมด

4.2 วิเคราะห์แบบสอบแต่ละข้อ โดยหาค่าความยาก (p) และค่าอำนาจจำแนก (r) โดยใช้เทคนิค⁴ และเปิดตารางวิเคราะห์ข้อของ จุง เต ฟาน (Chung Teh Fan)⁵ เพื่อเลือกแบบสอบเฉพาะข้อที่มีค่าความยาก ตั้งแต่ .20 - .80 และมีค่าอำนาจจำแนกตั้งแต่ .20 ขึ้นไป จำนวน 50 ข้อ มาใช้ในการวิจัยครั้งนี้



ศูนย์วิจัยทรัพยากร
จุฬาลงกรณ์มหาวิทยาลัย

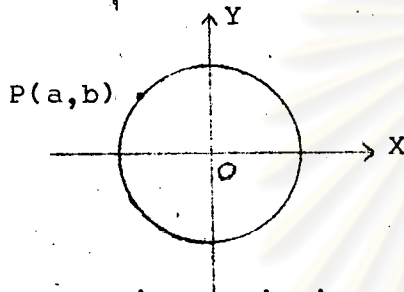
⁴ ชาวาล แพร์ทกุล, เทคนิคการวัดผล (พิมพ์ครั้งที่ 4 พระนคร: ไทววัฒนาพานิช, 2509), หน้า 281 - 318.

⁵ Chung Teh Fan, Item Analysis Table (Princeton New Jersey: Education Testing Service, 1952), pp. 1 - 31.

แบบสอบวิชาคณิตศาสตร์ เรื่องฟังก์ชันตรีโกณมิติ

คำสั่ง : เลือกคำตอบที่ถูกต้องที่สุด เพียงคำตอบเดียว โดยทำเครื่องหมาย x ลงในกระดาษคำตอบให้ตรงกับตัวอักษร ก, ข, ค หรือ ง

1. ข้อใดเป็นข้อสรุปของวงกลมหนึ่งหน่วย ?



ก. $a^2 - b^2 = 1$

ข. $b^2 = 1 - a^2$

ค. $a^2 + b^2 = r^2$

ง. $a^2 + b^2 = x^2 + y^2$

2. จุดโคออร์ดิเนตที่วงกลมหนึ่งหน่วยตัดแกน x มีค่าเท่าไร ?

ก. (1,0) และ (-1,0)

ค. (0,1) และ (0,-1)

ข. (1,0) และ (0,-1)

ง. (0,1) และ (-1,0)

3. จุดโคออร์ดิเนตในข้อใดอยู่บนเส้นรอบวงของวงกลมหนึ่งหน่วย ?

ก. $(\frac{1}{2}, -\frac{1}{2})$

ค. $(-\frac{1}{2}, -\frac{\sqrt{3}}{2})$

ข. $(\frac{1}{3}, \frac{\sqrt{3}}{3})$

ง. $(-\frac{1}{\sqrt{2}}, \frac{2}{\sqrt{2}})$

4. จุด $(3x, 4x)$ อยู่บนเส้นรอบวงของวงกลมหนึ่งหน่วย x เท่ากับเท่าไร ?

ก. $\pm \frac{1}{3}$

ค. $\pm \frac{1}{2}$

ข. $\pm \frac{1}{5}$

ง. $\pm \frac{1}{4}$

5. ถ้า θ และ α เป็นจำนวนจริงบวก ซึ่งเมื่อแทน θ และ α ด้วยความยาวของส่วนโค้งของวงกลมหนึ่งหน่วย ทำให้มีจุดปลายความยาวส่วนโค้งเป็นจุดเดียวกัน

α เท่ากับจำนวนจริงในข้อใด ?

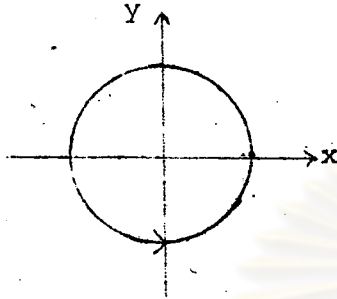
ก. $\theta + 2\pi r$

ค. $\theta + 4\pi$

ข. $\theta + 3\pi r$

ง. $\theta + 3\pi$

6. จากรูปแสดงการแทนจำนวนจริง θ ด้วยความยาวของส่วนโค้งของวงกลมหนึ่งหน่วย
 θ เท่ากับจำนวนจริงในข้อใด ?



- ก. π
 ข. $-\frac{\pi}{2}$
 ค. $-\frac{3\pi}{2}$
 ง. $\frac{3\pi}{2}$

7. ถ้าแทน π ด้วยความยาวของส่วนโค้งของวงกลมหนึ่งหน่วย จุดปลายความยาวส่วนโค้งของ π มีโคออร์ดิเนตเท่ากับเท่าไร ?

- ก. $(-1, 0)$
 ข. $(1, 0)$
 ค. $(0, -1)$
 ง. $(0, 1)$

8. ถ้าแทน $\frac{\pi}{4}$ ด้วยความยาวของส่วนโค้งของวงกลมหนึ่งหน่วย จุดปลายความยาวส่วนโค้งของ $\frac{\pi}{4}$ มีโคออร์ดิเนตเท่ากับเท่าไร ?

- ก. $(\frac{1}{\sqrt{2}}, -\frac{1}{\sqrt{2}})$
 ข. $(-\frac{1}{\sqrt{2}}, \frac{1}{\sqrt{2}})$
 ค. $(\sqrt{2}, \sqrt{2})$
 ง. $(\frac{1}{\sqrt{2}}, \frac{1}{\sqrt{2}})$

9. ถ้าแทน $\frac{\pi}{3}$ ด้วยความยาวของส่วนโค้งของวงกลมหนึ่งหน่วย จุดปลายความยาวส่วนโค้งของ $\frac{\pi}{3}$ มีโคออร์ดิเนตเท่ากับเท่าไร ?

- ก. $(\frac{\sqrt{3}}{2}, \frac{1}{2})$
 ข. $(\frac{1}{2}, \frac{\sqrt{3}}{2})$
 ค. $(\frac{\sqrt{3}}{2}, -\frac{1}{2})$
 ง. $(\frac{1}{2}, -\frac{\sqrt{3}}{2})$

10. ถ้าแทน $\frac{\pi}{6}$ ด้วยความยาวของส่วนโค้งของวงกลมหนึ่งหน่วย จุดปลายความยาวส่วนโค้งของ $\frac{\pi}{6}$ มีโคออร์ดิเนตเท่ากับเท่าไร ?

- ก. $(\frac{\sqrt{3}}{2}, -\frac{1}{2})$
 ข. $(\frac{1}{2}, -\frac{\sqrt{3}}{2})$
 ค. $(\frac{1}{\sqrt{2}}, \frac{\sqrt{3}}{2})$
 ง. $(\frac{\sqrt{3}}{2}, \frac{1}{\sqrt{2}})$

11. ถ้าแทน 6 ด้วยความยาวของส่วนโค้งของวงกลมหนึ่งหน่วย แล้วจุดปลายความยาว ส่วนโค้งของ 6 อยู่ในควอดรันต์ที่เท่าไร ?

ก. 1

ค. 3

ข. 2

ง. 4

12. ถ้าแทนจำนวนจริง θ ด้วยความยาวของส่วนโค้งของวงกลมหนึ่งหน่วย แล้วจุดปลาย ความยาวส่วนโค้งของ θ มีโคออร์ดิเนตเท่ากับข้อใด ?

ก. $(\sin \theta, \cos \theta)$

ค. $(\theta, \sin \theta)$

ข. $(\cos \theta, \sin \theta)$

ง. $(\theta, \cos \theta)$

13. $\sin 5$ มีเครื่องหมายเท่ากับในข้อใด ?

ก. บวก

ค. บวกและลบ

ข. ลบ

ง. เป็นศูนย์

14. ลักษณะที่สำคัญของฟังก์ชันไซน์และฟังก์ชันโคไซน์คือข้อใด ?

ก. โคไซน์ของฟังก์ชันคือเซตของจำนวนจริงบวก

ข. เรนจ์ของฟังก์ชันคือเซตของจำนวนจริงลบ

ค. โคไซน์ของฟังก์ชันคือเซตของจำนวนจริง

ง. เรนจ์ของฟังก์ชันคือเซตของจำนวนจริงที่น้อยกว่า 1

15. ถ้า $\csc \theta = 1$ และแทน θ ด้วยความยาวของส่วนโค้งของวงกลมหนึ่งหน่วย แล้ว โคออร์ดิเนตของจุดปลายความยาวส่วนโค้งของ θ เท่ากับเท่าไร ?

ก. $(1, -1)$

ค. $(1, 0)$

ข. $(-1, 1)$

ง. $(0, 1)$

16. ข้อใดเป็นคำคอบที่ถูกต้อง ?

ก. $\cos^2 \theta + \sin^2 \alpha = 1$

ค. $\cos \theta^2 + \sin \theta^2 = 1$

ข. $\cos^2 \alpha + \sin^2 \theta = 1$

ง. $\cos^2 \theta + \sin^2 \theta = 1$

17. $\sin \pi$ มีค่าเท่าไร ?

ก. 0

ค. 1

ข. .50

ง. -1

18. ค่าของ $\cos \frac{3\pi}{2}$ คือข้อใด ?

ก. $\cos \pi$

ค. $\sin 2\pi$

ข. $\cos 2\pi$

ง. $\sin \frac{3\pi}{2}$

19. ค่าของ $\sin \frac{\pi}{6}$ คือข้อใด ?

ก. $\sin \frac{\pi}{3}$

ค. $\cos \frac{\pi}{6}$

ข. $\cos \frac{\pi}{3}$

ง. $\sin \frac{\pi}{4}$

20. $\cos \frac{\pi}{4}$ มีค่าเท่าไร ?

ก. $\frac{1}{2}$

ข. $\frac{\sqrt{3}}{2}$

ค. $\frac{1}{\sqrt{2}}$

21. ค่าของ $\sin 0$ คือข้อใด ?

ก. $\cos 0$

ค. $\sin \pi$

ข. $\cos \pi$

ง. $\sin \frac{\pi}{2}$

22. $\sin \frac{\pi}{6} \sin 2\pi - \cos \frac{\pi}{2} \cos \frac{\pi}{4} + \cos \frac{\pi}{3}$ เท่ากับเท่าไร ?

ก. $\frac{1}{2}$

ค. $\frac{\sqrt{3}}{2}$

ข. $\frac{1}{\sqrt{2}}$

ง. 1

23. ข้อใดคือข้อที่ถูกต้อง ?

ก. $\sin (-5) = \sin 5$

ค. $\cos (-5) = \sin 5$

ข. $\sin (-5) = -\sin 5$

ง. $\cos (-5) = -\cos 5$

24. $\cos \frac{5\pi}{6}$ มีค่าเท่าไร ?

ก. $-\frac{\sqrt{3}}{2}$

ค. $\frac{1}{2}$

ข. $\frac{\sqrt{3}}{2}$

ง. $-\frac{1}{2}$

25. $\sin \frac{4\pi}{3}$ มีค่าเท่าไร ?

ก. $-\frac{1}{2}$

ค. $-\frac{\sqrt{3}}{2}$

ข. $\frac{1}{2}$

ง. $\frac{\sqrt{3}}{2}$

26. $\cos \frac{5\pi}{4}$ มีค่าเท่าไร ?

ก. $\frac{1}{2}$

ค. $\frac{1}{\sqrt{2}}$

ข. $-\sqrt{2}$

ง. $-\frac{1}{\sqrt{2}}$

27. $\sin \left(-\frac{\pi}{3}\right)$ มีค่าเท่าไร ?

ก. $\frac{\sqrt{3}}{2}$

ค. $\frac{1}{2}$

ข. $-\frac{\sqrt{3}}{2}$

ง. $-\frac{1}{2}$

28. ข้อใดเป็นการเขียน $\sin(-5)$ ให้อยู่ในรูปค่าของฟังก์ชันไซน์ของจำนวนจริงที่มีค่าตั้งแต่ 0 ถึง $\frac{\pi}{2}$?

ก. $\sin(2\pi - 5)$

ค. $\sin(-2\pi - 5)$

ข. $-\sin(2\pi - 5)$

ง. $-\sin(\pi - 5)$

29. ถ้ากำหนดให้ $\sin \frac{\pi}{5} = 0.5878$ แล้วค่าของ $\sin \frac{21\pi}{5}$ เท่ากับเท่าไร ?

ก. 0.4122

ค. 0.5878

ข. -0.4122

ง. -0.5878

30. ถ้า $\tan \theta = \frac{\sin \theta}{\cos \theta}$ แล้วข้อที่ถูกคือข้อใด ?

ก. $\cos \theta \neq 0$

ค. $\cos \theta = 0$

ข. $\sin \theta \neq 0$

ง. $\sin \theta = 0$

31. ถ้า $\sin \theta = a$ และ $\cos \theta = b$ แล้ว $\cot \theta$ คือข้อใด ?

ก. $\frac{1}{b}$

ค. $\frac{a}{b}$

ข. $\frac{1}{a}$

ง. $\frac{b}{a}$

32. ข้อที่ถูกคือข้อใด ?

ก. $\tan \theta \cot \alpha = 1$

ค. $\tan^2 \theta = \sec^2 \theta - 1$

ข. $\cos^2 \alpha = \sin^2 \alpha - 1$

ง. $1 + \cot^2 \alpha = \operatorname{cosec}^2 \theta$

33. $\tan \frac{\pi}{4}$ มีค่าเท่าไร ?

ก. -1

ค. 0

ข. 1

ง. หาค่าไม่ได้

34. $\sec \frac{5\pi}{2}$ มีค่าเท่าไร ?

ก. 0

ค. -1

ข. 1

ง. หาค่าไม่ได้

35. $\tan \left(-\frac{\pi}{3}\right)$ มีค่าเท่าไร ?

ก. $-\sqrt{3}$

ค. $-\frac{1}{\sqrt{3}}$

ข. $\sqrt{3}$

ง. $\frac{1}{\sqrt{3}}$

36. $\operatorname{cosec} \left(-\frac{\pi}{4}\right)$ มีค่าเท่าไร ?


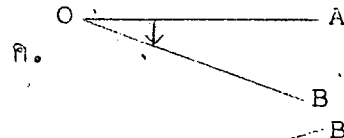
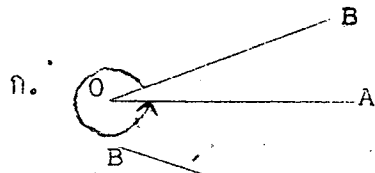
ก. $-\frac{1}{\sqrt{2}}$

ค. $-\sqrt{2}$

ข. $\frac{1}{\sqrt{2}}$

ง. $\sqrt{2}$

37. ข้อใดแสดงความหมายของมุมในวิชาตรีโกณมิติได้ถูกต้องที่สุด?



38. ถ้ามุม A กว้าง $-\frac{11\pi}{5}$ เรเดียน แล้วมุม A จะเป็นกี่องศา?

ก. -594 องศา

ค. -198 องศา

ข. -794 องศา

ง. -396 องศา

39. ถ้าสามเหลี่ยมหน้าจั่วรูปหนึ่งมีมุมยอดกว้าง 36° แล้วมุมที่ฐานกางมุมจะเท่าไร?

ก. $\frac{\pi}{5}$ เรเดียน

ค. $\frac{3\pi}{5}$ เรเดียน

ข. $\frac{2\pi}{5}$ เรเดียน

ง. $\frac{4\pi}{5}$ เรเดียน

40. ข้อใดเท่ากับ $30\frac{5}{8}$ องศา

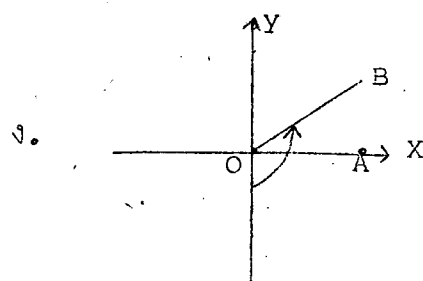
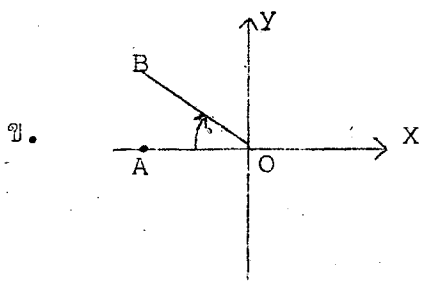
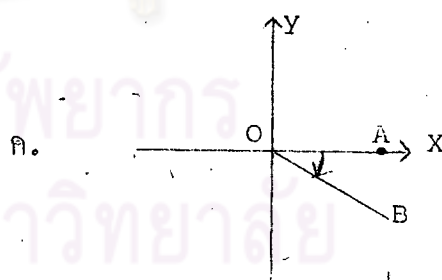
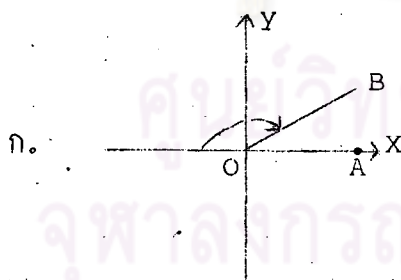
ก. $30^\circ 5' 48''$

ค. $30^\circ 6' 15''$

ข. $30^\circ 48' 5''$

ง. $30^\circ 15' 6''$

41. ข้อใดแสดงความหมายของมุมในตำแหน่งมาตรฐานได้ถูกต้องที่สุด?



42. $\sin 120^\circ$ มีค่าเท่าไร ?

ก. $-\frac{\sqrt{3}}{2}$

ค. $-\frac{1}{2}$

ข. $\frac{\sqrt{3}}{2}$

ง. $\frac{1}{2}$

43. $\sec (-30^\circ)$ มีค่าเท่าไร ?

ก. $-\frac{2}{\sqrt{3}}$

ค. -2

ข. $\frac{2}{\sqrt{3}}$

ง. 2

44. $\cos 0^\circ$ มีค่าเท่าไร ?

ก. 1

ค. 0

ข. -1

ง. หาค่าไม่ได้

45. $\cot 30^\circ \tan 60^\circ - \sec^2 45^\circ$

เท่ากับเท่าไร ?

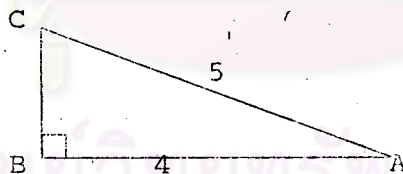
ก. 2

ค. 0

ข. 3

ง. 1

จงใช้รูปข้างล่างนี้ตอบคำถามข้อ 46-48



46. $\sin A$ มีค่าเท่าไร ?

ก. $\frac{3}{5}$

ค. $\frac{4}{5}$

ข. $\frac{3}{4}$

ง. $\frac{4}{3}$

47. $\cos C$ มีค่าเท่าไร ?

ก. $\frac{3}{5}$

ค. $\frac{4}{5}$

ข. $\frac{3}{4}$

ง. $\frac{5}{3}$

48. $\tan A$ มีค่าเท่าไร ?

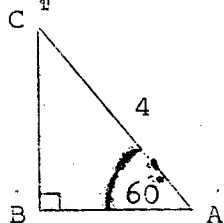
ก. $\frac{5}{3}$

ค. $\frac{4}{3}$

ข. $\frac{4}{5}$

ง. $\frac{3}{4}$

49. จากรูป AB ยาวเท่ากับเท่าไร ?



ก. $2\sqrt{3}$

ค. 3

ข. 2

ง. $4\sqrt{3}$

50. ถ้า $\sin \theta = \frac{1}{\sqrt{2}}$ แล้ว θ เท่ากับจำนวนจริงในข้อใด ?

ก. $2\pi + \frac{\pi}{4}$

ค. $\pi + \frac{\pi}{4}$

ข. $2\pi - \frac{\pi}{4}$

ง. $-\frac{\pi}{4}$

ศูนย์วิทยทรัพยากร
จุฬาลงกรณ์มหาวิทยาลัย

5. สร้างบทเรียนแบบโปรแกรมเรื่องฟังก์ชันตรีโกณมิติ

ผู้วิจัยได้เขียนบทเรียนแบบโปรแกรม เรื่องฟังก์ชันตรีโกณมิติ ตาม วัตถุประสงค์ทั่วไป และวัตถุประสงค์เชิงพฤติกรรมที่กำหนดไว้ โดยใช้เทคนิค และวิธีการ เขียนตามที่ได้ศึกษามาแล้ว หลังจากได้แก้ไขบทเรียนโดยได้รับคำแนะนำจากอาจารย์ผู้ควบคุมการวิจัยแล้ว จึงนำบทเรียนไปทดลองหาประสิทธิภาพ โดยทำ เป็นลำดับขั้นดังนี้

5.1 ขั้นหนึ่งคน 2 ครั้ง ผู้วิจัยได้ทดลองกับนักเรียน ระดับมัธยมศึกษาปีที่ 4 ปีการศึกษา 2519 โรงเรียนสตรีนันทบุรี จังหวัดนนทบุรี เป็น ครั้งแรก และครั้งที่สองเป็นนักเรียนระดับมัธยมศึกษาปีที่ 4 ปีการศึกษา 2519 โรงเรียนสตรีวัดอัมพรสวรรค์ กรุงเทพมหานคร ซึ่งนักเรียนทั้งสองคนที่ใช้ ทดลองมีระดับสติปัญญาปานกลาง โดยพิจารณาจากคะแนนเฉลี่ยในภาคเรียน ที่หนึ่ง เพื่อปรับปรุงแก้ไขบทเรียนในด้านการใช้ภาษา การเรียงลำดับกรอบ และอื่น ๆ ที่เห็นว่าควรจะต้องปรับปรุง ในการทดลองครั้งแรกใช้เวลาหลังจากเลิกเรียน คือระหว่างเวลา 18.00 - 20.00 น. เป็นเวลา 6 วัน และครั้งที่สองใช้เวลา ก่อนเวลาเรียน คือระหว่างเวลา 09.00 - 11.00 น. เป็นเวลา 6 วัน โดยการ ทดลองตามลำดับดังนี้

- วันที่ 1 ผู้วิจัยสอนความรู้พื้นฐานเรื่องเซต ความสัมพันธ์ และฟังก์ชัน
- วันที่ 2 ผู้วิจัยสอนความรู้พื้นฐานเรื่องจำนวนจริง และทำแบบสอบ ก่อนการ เรียบทเรียนแบบโปรแกรม
- วันที่ 3 - 5 เรียบทเรียนแบบโปรแกรม
- วันที่ 6 ทำแบบสอบหลังการ เรียบทเรียนแบบโปรแกรม

5.2 ขั้นกลุ่มเล็ก หลังจากได้ปรับปรุงแก้ไขบทเรียนแบบโปรแกรม จากการทดลองขั้นหนึ่งคนเรียบร้อยแล้ว ผู้วิจัยได้นำบทเรียนไปทดลองกับนักเรียน ระดับมัธยมศึกษาปีที่ 4 ปีการศึกษา 2519 โรงเรียนสตรีวัดอัมพรสวรรค์ กรุงเทพมหานคร จำนวน 10 คน โดยทดลองระหว่างเวลา 09.00 - 11.00 น. เป็น เวลา 6 วัน และดำเนินการทดลองทำนองเดียวกันกับการทดลองขั้นหนึ่งคน

5.3 ชั้นภาคสนาม หลังจากได้ปรับปรุงแก้ไขบทเรียนในชั้นกลุ่มเล็ก ผู้วิจัยได้นำบทเรียนไปทดลองกับนักศึกษาชั้นประกาศนียบัตรวิชาการศึกษา

ปีที่ 1 ปีการศึกษา 2519 ของวิทยาลัยครูเทพสตรี จังหวัดลพบุรี จำนวน 100 คน เพื่อหาประสิทธิภาพของบทเรียนแบบโปรแกรม โดยทดลองเป็นเวลา 3 วัน คือ วันที่ 10 - 11 กุมภาพันธ์ 2519 ระหว่างเวลา 18.30 - 20.30 น. และวันที่ 12 กุมภาพันธ์ 2519 ระหว่างเวลา 09.00 - 12.00 น. และ 14.00 - 15.00 น. และดำเนินการทดลองตามลำดับขั้นดังนี้

วันที่ 1 ทำแบบสอบก่อนการเรียนบทเรียนแบบโปรแกรม และ
เรียนบทเรียนแบบโปรแกรม

วันที่ 2 เรียนบทเรียนแบบโปรแกรม

วันที่ 3 เรียนบทเรียนแบบโปรแกรม และทำแบบสอบหลังการ
เรียนบทเรียนแบบโปรแกรม

จากผลการทดลองชั้นภาคสนาม ผู้วิจัยได้นำข้อมูลมาวิเคราะห์

ดังนี้

5.3.1 หาค่าความเชื่อมั่นของแบบสอบที่นำมาใช้ในการวิจัยครั้งนี้
อีกครั้ง โดยใช้วิธีของคูเคอร์ ริชาร์ดสัน 21

5.3.2 หาประสิทธิภาพของบทเรียนแบบโปรแกรม โดยการคำนวณ

หาคะแนนมาตรฐาน 90/90

90 ตัวแรก คำนวณจากสูตร

$$\text{คะแนนที่นักเรียนทำบทเรียนถูกคิดเฉลี่ยเป็นร้อยละ} = \frac{C}{N} \times \frac{100}{A}$$

เมื่อ A = คำตอบทั้งหมดในบทเรียน

C = ผลรวมของคำตอบถูกของนักเรียนทุกคน

N = จำนวนนักเรียนทั้งหมด

90 ตัวหลัง คำนวณจากสูตร

$$\text{คะแนนที่นักเรียนทำแบบสอบถูกคิดเฉลี่ยเป็นร้อยละ} = \frac{S}{T} \times \frac{100}{T}$$

เมื่อ T = คะแนนเต็มของแบบสอบ

S = คะแนนรวมของนักเรียนทุกคนที่ทำแบบทดสอบถูก

N = จำนวนนักเรียนทั้งหมด

5.3.3 หาความก้าวหน้าในการเรียนหลังการเรียนบทเรียนนี้ โดยการทดสอบความแตกต่างระหว่างคะแนนของการสอบก่อนการเรียนและหลังการเรียนบทเรียนแบบโปรแกรม โดยใช้ z - test ⁶

$$\text{จากสูตร } z = \frac{\sum d}{\sqrt{\frac{n \sum d^2 - (\sum d)^2}{n - 1}}}$$

เมื่อ d = ผลต่างระหว่างคะแนนก่อนและหลังการเรียนบทเรียนแบบโปรแกรม

n = จำนวนนักเรียนทั้งหมด

ศูนย์วิทยทรัพยากร
จุฬาลงกรณ์มหาวิทยาลัย

⁶W. Allen Wallis and Harry V. Robert, Statistics : A

New Approach (Illinois: The Free Press, 1956), derived from p. 421.

บทเรียนแบบโปรแกรม เรื่อง "ฟังก์ชันตรีโกณมิติ"


คำแนะนำในการใช้บทเรียน

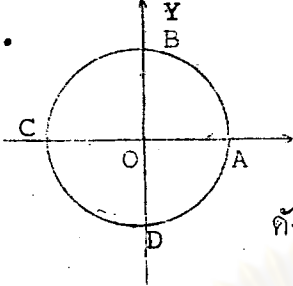
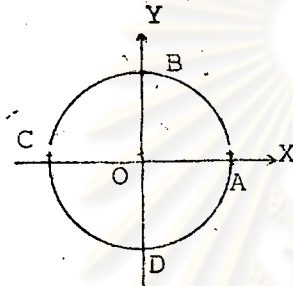
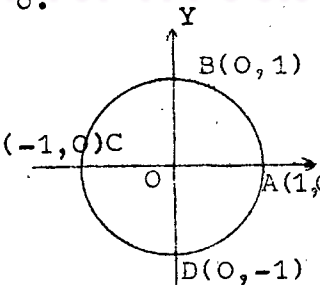
1. ให้นักเรียนเปิดคำตอบซึ่งอยู่ทางซ้ายมือด้วยกระดาษที่แจกให้
2. อ่านข้อความในแต่ละกรอบโดยละเอียดและติดตาม เมื่ออ่านจบกรอบหนึ่ง ๆ แล้วจงตอบคำถาม โดยการเติมคำหรือข้อความ ลงในช่องว่างที่กำหนดให้
3. ตรวจสอบคำตอบของนักเรียนได้จากเฉลยที่อยู่ด้านซ้ายหน้ากรอบถัดไป ถ้านักเรียนตอบถูกต้องแล้วให้ทำกรอบต่อไป
4. ขอให้นักเรียนคิดหาคำตอบเอง อย่าไปลอกเฉลยมาตอบ ถ้านักเรียนคิดได้ คำตอบไม่ตรงกับเฉลยก็ไม่ใช่ไร ให้ขีดทับคำตอบเดิม ไม่ต้องไขว่คว้าจนครบแล้วอ่านคำอธิบายซ้ำอีก เขียนคำตอบใหม่ใต้อำตอบเดิม
5. ให้นักเรียนทำทุกกรอบ เรียงตามลำดับ อย่าข้ามกรอบใดกรอบหนึ่ง
6. คำถามในแต่ละกรอบไม่ใช่ข้อสอบ แต่เป็นคำถามที่ต้องการให้นักเรียนคิดและเรียนรู้ ซึ่งเหมือนกับครูถามนักเรียนในขณะที่ครูอธิบายในห้องเรียน นั่นเอง
7. นักเรียนจะต้องอ่านข้อความทุกวรรคทุกตอน ซึ่งแทนคำอธิบายของครูแล้วคิดและเขียนตอบ คำอธิบายในบางกรอบ จะสรุปกฎเกณฑ์ไว้ ซึ่งนักเรียนจะต้องนำมาใช้ตอบคำถามในกรอบต่อ ๆ ไป
8. เมื่อจบบทเรียนแล้ว จะมีแบบสอบถามให้นักเรียนทำเพื่อวัดความเข้าใจของนักเรียนอีกครั้งหนึ่ง

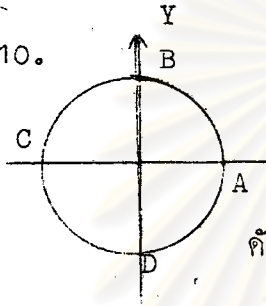
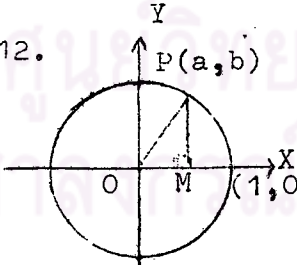
ฟังก์ชันตรีโกณมิติ

1. วงกลมหนึ่งหน่วย

	<p>1. <u>วงกลมหนึ่งหน่วย</u> คือวงกลมที่มีจุดศูนย์กลางที่จุดเริ่มต้น และมีรัศมียาว 1 หน่วย</p> <p><u>จุดเริ่มต้น</u> คือจุดที่มีโคออร์ดิเนตเป็น (0,0) ดังนั้นจึงกล่าวได้ว่าวงกลมหนึ่งหน่วยคือวงกลมที่มีจุดศูนย์กลางที่จุดโคออร์ดิเนต (____) และมีรัศมียาว 1 _____</p>
<p>0,0 หน่วย</p>	<p>2. ความยาว 1 หน่วย คือระยะทางที่ยาว 1 หน่วยของหน่วยที่ใช้วัดความยาว เช่น:- ความยาว 1 นิ้ว, 1 ฟุต ฯลฯ ดังนั้นความยาว 1 ไมล์, 1 หลา, 1 เมตร และ 1 เซนติเมตร เรียกว่าความยาว _____</p>
<p>1 หน่วย</p>	<p>3. เนื่องจากความยาว 1 หน่วยมีขนาดต่าง ๆ กัน เช่น 1 นิ้ว, 1 เซนติเมตร, 1 ฟุต ฯลฯ ดังนั้นจึงกล่าวได้ว่า</p> <p>ก. วงกลมหนึ่งหน่วยทุกวงมีขนาดเท่ากันหมด _____ (ใช่/ไม่ใช่)</p> <p>ข. วงกลมหนึ่งหน่วยมีขนาดต่าง ๆ กัน ขึ้นอยู่กับความยาวของหน่วยที่ใช้เป็นรัศมี _____ (ใช่/ไม่ใช่)</p>
<p>ไม่ใช่ ใช่</p>	<p>4. ก. วงกลมที่มีจุดศูนย์กลางที่จุด (0,1) และมีรัศมียาว 1 นิ้ว</p> <p>ข. วงกลมที่มีจุดศูนย์กลางที่จุด (0,0) และมีรัศมียาว 1 เซนติเมตร</p> <p>ค. วงกลมที่มีจุดศูนย์กลางที่จุด (0,0) และมีรัศมียาว 2 นิ้ว จากวงกลมในข้อ ก., ข. และ ค. ดังกล่าวข้างต้น วงกลมในข้อใดเป็นวงกลมหนึ่งหน่วย _____</p>



<p>ข.</p>	<p>5. </p> <p>จากรูป เป็นวงกลมหนึ่งหน่วย โคออร์ดิเนตของจุด O คือ _____ OA, OB, OC และ OD คือ _____ ของวงกลมหนึ่งหน่วย</p> <p>ดังนั้น $OA=OB=OC=OD=$ _____ หน่วย</p>
<p>(0,0)</p> <p>รัศมี</p> <p>1</p>	<p>6. </p> <p>จากรูป เป็นวงกลมหนึ่งหน่วยเนื่องจาก $OA=OB=OC=OD=$ _____ หน่วย ดังนั้น</p> <p>โคออร์ดิเนตที่จุด A, $x =$ _____ และ $y =$ _____</p> <p>โคออร์ดิเนตที่จุด B, $x =$ _____ และ $y =$ _____</p> <p>โคออร์ดิเนตที่จุด C, $x =$ _____ และ $y =$ _____</p> <p>โคออร์ดิเนตที่จุด D, $x =$ _____ และ $y =$ _____</p>
<p>1 1 0</p> <p>0 - 1</p> <p>-1 0</p> <p>0 -1</p>	<p>7. จากกรอบท 6</p> <p>นั่นคือจะสรุปได้ว่า</p> <p>โคออร์ดิเนตของ A คือ (_____)</p> <p>โคออร์ดิเนตของ B คือ (_____)</p> <p>โคออร์ดิเนตของ C คือ (_____)</p> <p>โคออร์ดิเนตของ D คือ (_____)</p>
<p>1,0</p> <p>0,1</p> <p>-1,0</p> <p>0,-1</p>	<p>8. </p> <p>จากรูป เป็นวงกลมหนึ่งหน่วยจะเห็นได้ว่า</p> <p>ก. วงกลมหนึ่งหน่วยตัดแกน x ที่จุดโคออร์ดิเนต(_____)และ(_____)</p> <p>ข. วงกลมหนึ่งหน่วยตัดแกน y ที่จุดโคออร์ดิเนต(_____)และ(_____)</p>

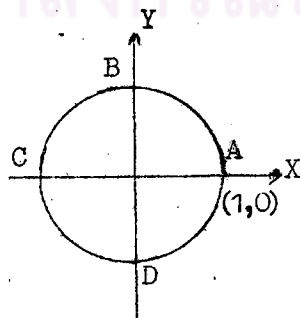
$1, 0 \quad -1, 0$ $0, 1 \quad 0, -1$	<p>9. ถ้าวงกลมมีรัศมียาว r หน่วยแล้ว เส้นรอบวงของวงกลมยาว $2\pi r$ หน่วย</p> <p>แฉวงกลมหนึ่งหน่วยมีรัศมียาว $\underline{\hspace{2cm}}$ หน่วย</p> <p>ดังนั้นเส้นรอบวงของวงกลมหนึ่งหน่วยยาว $\underline{\hspace{2cm}} \times 1$ หน่วย</p> <p>$= \underline{\hspace{2cm}}$ หน่วย</p>
<p>1</p> <p>2π</p> <p>2π</p>	<p>10. </p> <p>จากรูป เป็นวงกลมหนึ่งหน่วย, CA และ BD เรียกว่าเส้น <u> </u> ของวงกลมหนึ่งหน่วย</p> <p>CA เป็นเส้นตรงเดียวกับแกน <u> </u></p> <p>BD เป็นเส้นตรงเดียวกับแกน <u> </u></p> <p>ดังนั้นจะสรุปได้ว่าแกน x และแกน y <u> </u> (เป็น/ไม่เป็น)</p> <p>เส้นตรงเดียวกับเส้นผ่าศูนย์กลางของวงกลมหนึ่งหน่วย</p>
<p>ผ่าศูนย์กลาง</p> <p>x</p> <p>y</p> <p>เป็น</p>	<p>11. เนื่องจากวงกลมทุกวงมีเส้นผ่าศูนย์กลางเป็นแกนสมมาตร และทราบแล้วว่า แกน x และแกน y เป็นเส้นตรงเดียวกับเส้นผ่าศูนย์กลางของวงกลมหนึ่งหน่วย</p> <p>ดังนั้นจะสรุปได้ว่า แกน x และแกน y เป็นแกน <u> </u> ของวงกลมหนึ่งหน่วย</p>
<p>สมมาตร</p>	<p>12. </p> <p>จากรูป เป็นวงกลมหนึ่งหน่วย $P(a, b)$ อยู่บนเส้นรอบวงของวงกลมหนึ่งหน่วย</p> <p>a และ b เป็นจำนวนจริง</p> <p>OP คือ <u> </u> ของวงกลมหนึ่งหน่วย</p> <p>$OP = \underline{\hspace{2cm}}$ หน่วย</p> <p>$PM = b$ หน่วย และ $OM = \underline{\hspace{2cm}}$ หน่วย</p> <p>เนื่องจาก $\triangle OPM$ เป็นสามเหลี่ยมมุมฉาก</p> <p>ดังนั้น $OM^2 + MP^2 = \underline{\hspace{2cm}}$</p> <p>นั่นคือ $\underline{\hspace{2cm}} + b^2 = \underline{\hspace{2cm}}$</p>

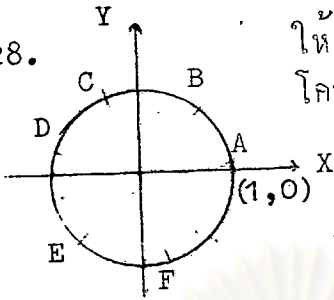
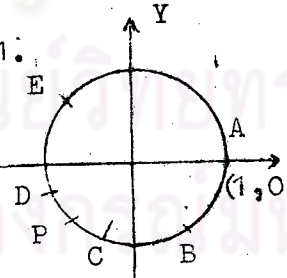
<p>รัศมี 1</p> <p>a^2 1</p> <p>OP^2 a</p>	<p>13. </p> <p>จากรูป เป็นวงกลมหนึ่งหน่วย $P(c, d)$ อยู่บนเส้นรอบวงของวงกลมหนึ่งหน่วย c และ d เป็นจำนวน _____</p> <p>$OP =$ _____ หน่วย</p> <p>$ON =$ _____ หน่วย และ $PN =$ _____ หน่วย</p> <p>เนื่องจาก $\triangle OPN$ เป็นสามเหลี่ยมมุมฉาก</p> <p>ดังนั้น $ON^2 + \underline{\hspace{1cm}} = OP^2$</p> <p>นั่นคือ $c^2 + \underline{\hspace{1cm}} = \underline{\hspace{1cm}}$</p>
<p>จริง</p> <p>1</p> <p>PN^2 d</p> <p>d^2 1</p>	<p>14. ในทำนองเดียวกัน ถ้านักเรียนกำหนดให้ P เป็นจุดใดๆ บนเส้นรอบวงของวงกลมหนึ่งหน่วย ซึ่งมีโคออร์ดิเนต เป็น (m, n) แล้วจะได้ว่า m, n เป็นจำนวนจริง และ $m^2 + n^2 = 1$ เสมอ</p> <p>ดังนั้นจะสรุปว่า (x, y) เป็นจุดบนเส้นรอบวงของวงกลมหนึ่งหน่วยเมื่อ</p> <p>ก. x, y เป็น _____</p> <p>ข. $\underline{\hspace{1cm}} + \underline{\hspace{1cm}} = 1$</p>
<p>จำนวนจริง</p> <p>x^2 y^2</p>	<p>15. เนื่องจาก $(0)^2 + (-1)^2 = 0 + 1 = \underline{\hspace{1cm}}$</p> <p>ดังนั้น $(0, -1)$ _____ บนเส้นรอบวงของวงกลมหนึ่งหน่วย (อยู่/ไม่อยู่)</p>
<p>อยู่</p> <p>1</p>	<p>16. เนื่องจาก $(\frac{1}{2})^2 + (\frac{1}{2})^2 = \underline{\hspace{1cm}} = \underline{\hspace{1cm}}$</p> <p>ดังนั้น $(\frac{1}{2})^2 + (\frac{1}{2})^2 \underline{\hspace{1cm}} 1$ (\neq)</p> <p>นั่นคือจุด $(\frac{1}{2}, \frac{1}{2})$ _____ บนเส้นรอบวงของวงกลมหนึ่งหน่วย (อยู่/ไม่อยู่)</p>

$\frac{1}{4} + \frac{1}{4} = \frac{1}{2}$ ไม่อยู่	17. $(\frac{\sqrt{3}}{2}, \frac{1}{2}), (1,1), (-1,1), (-1,0)$ จากจุดโคออร์ดิเนตดังกล่าวข้างต้น จุดใดบ้างอยู่บนเส้นรอบวงของวงกลมหนึ่งหน่วย $\frac{\sqrt{3}}{2} + \frac{1}{2} = 1$ จุดใดบ้างไม่อยู่บนเส้นรอบวงของวงกลมหนึ่งหน่วย
$(\frac{\sqrt{3}}{2}, \frac{1}{2}), (-1,0)$ $(1,1), (-1,1)$	18. ถ้าจุด (x,x) อยู่บนเส้นรอบวงของวงกลมหนึ่งหน่วยแล้ว จะหาค่าของ x ได้โดยวิธีการดังนี้ เนื่องจาก $\frac{x}{1} + \frac{x}{1} = 1$ $\frac{x^2}{1} = 1$ $\frac{x^2}{1} = 1$ $x = 1$
$\frac{x^2}{1} + \frac{x^2}{1} = 1$ $\frac{1}{2} + \frac{1}{2} = 1$	19. ถ้าจุด $(y,2y)$ อยู่บนเส้นรอบวงของวงกลมหนึ่งหน่วยแล้ว จะหาค่าของ y ได้โดยวิธีการดังนี้ เนื่องจาก $\frac{y}{1} + \frac{2y}{1} = 1$ $\frac{y^2}{1} + \frac{4y^2}{1} = 1$ $\frac{5y^2}{1} = 1$ $y = \frac{1}{\sqrt{5}}$
$\frac{y^2}{1} + \frac{(2y)^2}{4y^2} = 1$ $\frac{y^2}{1} + \frac{1}{1} = 1$ $\frac{1}{5} + \frac{1}{5} = 1$	20. ถ้า x,y เป็นจำนวนจริง แล้ว เรียก (x,y) ว่า <u>คู่ค่าคัมของจำนวนจริง</u> แต่โคออร์ดิเนตของจุดบนเส้นรอบวงของวงกลมหนึ่งหน่วย อยู่ในรูป (a,b) เมื่อ a,b เป็น $\frac{1}{\sqrt{5}}$ ดังนั้นโคออร์ดิเนตของจุดบนเส้นรอบวงของวงกลมหนึ่งหน่วย เป็น $(\frac{1}{\sqrt{5}}, \frac{1}{\sqrt{5}})$ ของจำนวนจริง

<p>จำนวนจริง คู่ลำดับ</p>	<p>21. ให้ \mathbb{R} แทนเซตของจำนวนจริง ให้ x, y เป็นจำนวนจริง x เป็นจำนวนจริง เขียนแทนด้วย $x \in \mathbb{R}$ y เป็นจำนวนจริง เขียนแทนด้วย _____ ดังนั้น (x, y) เป็น _____ เขียนแทนด้วย $(x, y) \in \mathbb{R} \times \mathbb{R}$</p>
<p>$\mathbb{Y} \times \mathbb{R}$ คู่ลำดับของจำนวน จริง</p>	<p>22. นั่นคือ ถ้า (x, y) เป็นจุดบนเส้นรอบวงของวงกลมหนึ่งหน่วย แล้วจะไควา ก. (x, y) เป็นคู่ลำดับของจำนวนจริง เขียนแทน ด้วย $(x, y) \in$ _____ ข. $x^2 + y^2 =$ _____</p>
<p>$\mathbb{R} \times \mathbb{R}$ 1</p>	<p>23. ดังนั้นจะสรุปได้ว่า เซตของจุดโคออร์ดิเนตบนเส้นรอบวง ของวงกลมหนึ่งหน่วยคือ เซตของจุด (x, y) ซึ่ง (x, y) \in _____ และ _____ + _____ = _____</p>
<p>$\mathbb{R} \times \mathbb{R} \mid x^2 + y^2 = 1$</p>	<p>24. เซตของจุด (x, y) ซึ่ง $(x, y) \in \mathbb{R} \times \mathbb{R}$ และ $x^2 + y^2 = 1$ เขียนแทนด้วยความสัมพันธ์ $\{ (x, y) \in \mathbb{R} \times \mathbb{R} \mid x^2 + y^2 = 1 \}$ ดังนั้นเซตของจุดโคออร์ดิเนตบนเส้นรอบวงของวงกลมหนึ่ง หน่วยคือความสัมพันธ์ $\{ (x, y) \in$ _____ \mid _____ + _____ = _____ $\}$</p>
<p>$\mathbb{R} \times \mathbb{R} \mid x^2 + y^2 = 1$</p>	<p>25. ความสัมพันธ์ $\{ (x, y) \in \mathbb{R} \times \mathbb{R} \mid x^2 + y^2 = 1 \}$ เรียกว่า วงกลมหนึ่งหน่วย ดังนั้นวงกลมหนึ่งหน่วยคือความสัมพันธ์ _____</p>

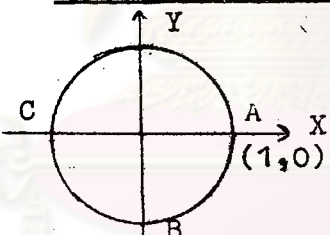
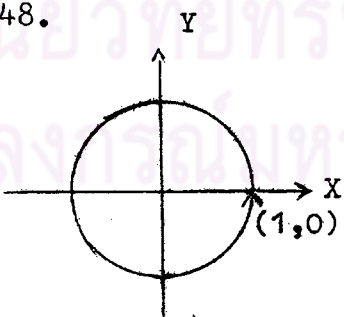
$\{(x,y) \in \mathbb{R} \times \mathbb{R} \mid x^2 + y^2 = 1\}$	<p>26. ดังนั้นลักษณะที่สำคัญของวงกลมหนึ่งหน่วยที่กล่าวมาแล้วทั้งหมดคือ</p> <p>ก. มีจุดศูนย์กลางที่จุดโคออร์ดิเนต _____ และมีรัศมียาว _____ หน่วย</p> <p>ข. เส้นรอบวงยาว _____ หน่วย</p> <p>ค. ตัดแกน x ที่จุดโคออร์ดิเนต _____ และ _____</p> <p>ง. ตัดแกน y ที่จุดโคออร์ดิเนต _____ และ _____</p> <p>จ. มี _____ เป็นแกนสมมาตร</p> <p>ฉ. วงกลมหนึ่งหน่วยคือความสัมพัทธ์ _____</p>
<p>1</p> <p>(0,0)</p> <p>2π</p> <p>(1,0) (-1,0)</p> <p>(0,1) (0,-1)</p> <p>แกน x, แกน y</p> $\{(x,y) \in \mathbb{R} \times \mathbb{R} \mid x^2 + y^2 = 1\}$	
<p>2. การแทนจำนวนจริงด้วยความยาวของส่วนโค้งของวงกลมหนึ่งหน่วย</p>	
	<p>27. ในการวัดความยาวของส่วนโค้งของวงกลมหนึ่งหน่วย ถ้าวัดทวนเข็มนาฬิกา แล้วความยาวของส่วนโค้งเป็นบวก และในทางกลับกันถ้าวัดตามเข็มนาฬิกา แล้วความยาวของส่วนโค้งเป็นลบ</p> <p>นั่นคือความยาวของ \widehat{AB} เป็นบวก เพราะวัดทวนเข็มนาฬิกา</p> <p>ความยาวของ \widehat{BA} เป็น _____ เพราะวัด _____ เข็มนาฬิกา (บวก/ลบ) (ทวน/ตาม)</p> <p>วัดความยาวของ \widehat{BCD} เป็น _____ เพราะ _____ (บวก/ลบ)</p> <p>วัด _____ เข็มนาฬิกา (ทวน/ตาม)</p>



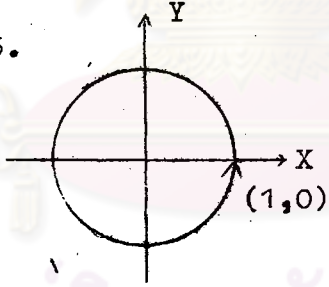
<p>ตาม ทวน</p>	<p>28. </p>	<p>ให้ $\widehat{AB}=\widehat{BC}=\widehat{CD}=\widehat{DE}=\widehat{EF}= 1$ หน่วย โคออร์ดิเนตของ A คือ _____</p> <p>$\widehat{ABC} =$ _____ หน่วย $\widehat{ABCD} =$ _____ หน่วย $\widehat{ABCDE} =$ _____ หน่วย $\widehat{ABCDEF} =$ _____ หน่วย</p>
<p>(1,0) 2 3 4 5</p>	<p>29. จากกรอบที่ 28 จำนวนจริง 1, 2, 3, 4 และ 5 เป็นจำนวนจริง _____ (บวก/ลบ) การวัดส่วนโค้งของวงกลมหนึ่งหน่วยจากจุด (1,0) ให้ส่วน โค้งยาว 1 หน่วย, 2 หน่วย, 3 หน่วย, 4 หน่วย และ 5 หน่วย จะต้องวัด _____ เหนือนาฬิกา (ทวน/ตาม)</p>	
<p>ทวน</p>	<p>30. นั่นคือ ถ้า ๑, เป็นจำนวนจริงบวก แล้วการวัดส่วนโค้งของ วงกลมหนึ่งหน่วยจากจุด (1,0) ให้ส่วนโค้งยาว ๑ หน่วย จะตองวัด _____ เหนือนาฬิกา (ทวน/ตาม)</p>	
<p>ทวน</p>	<p>31. </p>	<p>ให้ $\widehat{AB}=\widehat{BC}=\widehat{CD}=\widehat{DE}=\widehat{EP} = -1$ หน่วย โคออร์ดิเนตของ A คือ _____</p> <p>$\widehat{ABC} =$ _____ หน่วย $\widehat{ABCP} =$ _____ หน่วย $\widehat{ABCPD} =$ _____ หน่วย</p>
<p>-2 (1,0) -2.5 -3</p>	<p>32. จากกรอบที่ 31 จำนวนจริง -2, -2.5 และ -3 เป็นจำนวนจริง _____ (บวก/ลบ) การวัดส่วนโค้งของวงกลมหนึ่งหน่วยจากจุด (1,0) ให้ส่วน โค้งยาว -2 หน่วย, -2.5 หน่วย และ -3 หน่วย จะตอง วัด _____ เหนือนาฬิกา (ทวน/ตาม)</p>	

<p>ลบ การวัดส่วนโค้ง ตาม (1,0) - 10.5</p>	<p>37. นั่นคือจะสรุปได้ว่า ก. การแทนจำนวนจริงบวก θ ด้วยความยาวของส่วนโค้งของวงกลมหนึ่งหน่วยคือ _____ ของวงกลมหนึ่งหน่วย _____ เส้นนาฬิกา จากจุด _____ ในส่วนโค้งยาว _____ (ทวน/ตาม) หน่วย ข. การแทนจำนวนจริงลบ $-\theta$ ด้วยความยาวของส่วนโค้งของวงกลมหนึ่งหน่วยคือ _____ ของวงกลมหนึ่งหน่วย _____ เส้นนาฬิกา จากจุด _____ ในส่วนโค้งยาว _____ (ทวน/ตาม) หน่วย</p>
<p>การวัดส่วนโค้ง ทวน (1,0) θ การวัดส่วนโค้ง ตาม (1,0) $-\theta$</p>	<p>38. เนื่องจากเส้นรอบวงของวงกลมหนึ่งหน่วยยาว 2π หน่วย ดังนั้นส่วนโค้งของวงกลมหนึ่งหน่วย ซึ่งวัดทวนเส้นนาฬิกา จากจุด (1,0) ครบ 1 รอบพอดียาว _____ หน่วย และส่วนโค้งของวงกลมหนึ่งหน่วย ซึ่งวัดตามเส้นนาฬิกา จากจุด (1,0) ครบ 1 รอบพอดียาว _____ หน่วย</p>
<p>2π -2π</p>	<p>39. ดังนั้นถ้า $\theta = 2\pi$ แล้วจะต้องแทน θ ด้วยส่วนโค้งของวงกลมหนึ่งหน่วยยาวเท่ากับ _____ รอบ และ $\theta = -2\pi$ แล้วจะต้องแทน θ ด้วยส่วนโค้งของวงกลมหนึ่งหน่วยยาวเท่ากับ _____ รอบ</p>
<p>1 1</p>	<p>40. เนื่องจาก $\theta = 2\pi$ หมายถึง $\theta = 2\pi$ หรือ $\theta = -2\pi$ นั่นคือจะสรุปได้ว่า ถ้า $\theta = 2\pi$ แล้วจะต้องแทน θ ด้วยส่วนโค้งของวงกลมหนึ่งหน่วยยาวเท่ากับ _____ รอบ</p>
<p>1</p>	<p>41. ดังนั้นถ้า $\theta < 2\pi$ แล้วจะต้องแทน θ ด้วยส่วนโค้งของวงกลมหนึ่งหน่วยยาว _____ กว่า 1 รอบ และถ้า $\theta > 2\pi$ (มาก/น้อย) แล้วจะต้องแทน θ ด้วยส่วนโค้งของวงกลมหนึ่งหน่วยยาว _____ กว่า 1 รอบ (มาก/น้อย)</p>

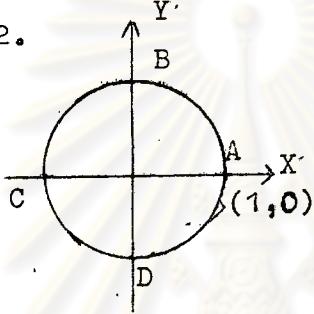
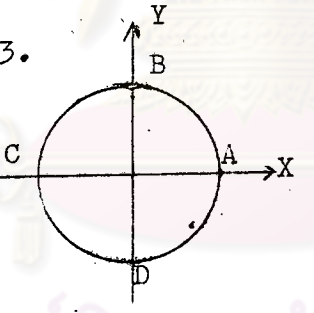
<p>น้อย มากกว่า</p>	<p>42. เนื่องจาก $\pi \approx 3.1416$ (อ่านว่า π มีค่าประมาณ 3.1416) ดังนั้น $2\pi \approx$ _____ นั่นคือจะสรุปได้ว่า _____ ก. ถ้า $e = 6.2832$ แล้วจะต้องแทน e ด้วยส่วนโค้งของวงกลมหนึ่งหน่วยยาว _____ 1 รอบ (เท่ากับ/มากกว่า/น้อยกว่า) ข. ถ้า $e < 6.2832$ แล้วจะต้องแทน e ด้วยส่วนโค้งของวงกลมหนึ่งหน่วยยาว _____ 1 รอบ (เท่ากับ/มากกว่า/น้อยกว่า) ค. ถ้า $e > 6.2832$ แล้วจะต้องแทน e ด้วยส่วนโค้งของวงกลมหนึ่งหน่วยยาว _____ 1 รอบ (เท่ากับ/มากกว่า/น้อยกว่า)</p>
<p>6.2832 เท่ากับ น้อยกว่า มากกว่า</p>	<p>43. เนื่องจาก $-3\pi = 3\pi$ และ $3\pi > 2\pi$ ดังนั้น -3π _____ 2π (= / > / <) นั่นคือ -3π จะต้องแทนด้วยส่วนโค้งของวงกลมหนึ่งหน่วยยาว _____ 1 รอบ (เท่ากับ/มากกว่า/น้อยกว่า)</p>
<p>> มากกว่า</p>	<p>44. เนื่องจาก $- \pi =$ _____ ดังนั้น $- \pi$ _____ 2π (= / > / <) นั่นคือ $-\pi$ จะต้องแทนด้วยส่วนโค้งของวงกลมหนึ่งหน่วยยาว _____ 1 รอบ (เท่ากับ/มากกว่า/น้อยกว่า)</p>
<p>π < น้อยกว่า</p>	<p>45. เนื่องจาก $5 =$ _____ ดังนั้น 5 _____ 6.2832 (= / > / <) นั่นคือ 5 จะต้องแทนด้วยส่วนโค้งของวงกลมหนึ่งหน่วยยาว _____ 1 รอบ (เท่ากับ/มากกว่า/น้อยกว่า)</p>

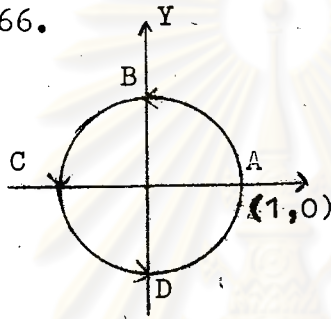
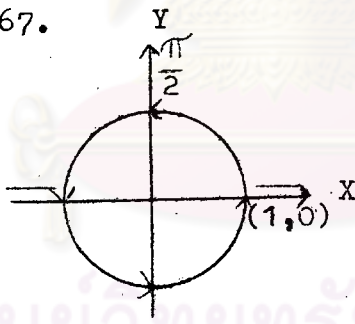
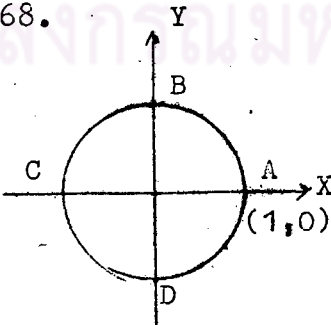
<p>5 < น้อยกว่า</p>	<p>46. $7, -6, 4\pi, -9, -2\pi, \frac{3\pi}{2}$ จากจำนวนจริงดังกล่าวข้างต้น จำนวนจริงใดบางจะต้องแทนควยส่วนโค้งของวงกลมหนึ่งหน่วย ยาวเท่ากับ 1 รอบ _____ จำนวนจริงใดบางจะต้องแทนควยส่วนโค้งของวงกลมหนึ่งหน่วย ยาวน้อยกว่า 1 รอบ _____ จำนวนจริงใดบางจะต้องแทนควยส่วนโค้งของวงกลมหนึ่งหน่วย ยาวมากกว่า 1 รอบ _____</p>
<p>-2π $-6, \frac{3\pi}{2}$ $7, 4\pi, -9$</p>	<p>47. เมื่อแทนจำนวนจริง \ominus ด้วยความยาวของส่วนโค้งของวงกลม หนึ่งหน่วย จะตองวัดส่วนโค้งของวงกลมหนึ่งหน่วยจากจุด $(1,0)$ ให้ส่วนโค้งยาว \ominus หน่วย จุดปลายของส่วนโค้งที่ยาว \ominus หน่วย เรียกว่า <u>จุดปลาย-</u> <u>ความยาวส่วนโค้งของ \ominus</u></p>  <p>$\widehat{ABC} = -3.1416$ หน่วย ดังนั้น C คือจุดปลายความ ยาวส่วนโค้งของ _____</p>
<p>-3.1416</p>	<p>48.</p>  <p>ถ้าแทน $1(2\pi) = 2\pi$ ด้วย ความยาวของส่วนโค้งของวง กลมหนึ่งหน่วยแล้ว จะตอง วัดส่วนโค้งของวงกลมหนึ่ง หน่วย ทวนเข็มนาฬิกา จากจุด _____ ให้ส่วนโค้ง ยาว _____ หน่วย หรือ เท่ากับ _____ รอบ ดังนั้นจุดปลายความยาวส่วนโค้งของ $1(2\pi)$ คือ _____</p>

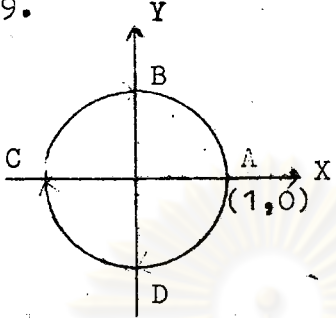
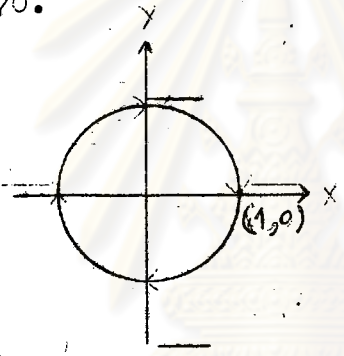
<p>(1,0) 2π 1 (1,0)</p>	<p>49. ในทำนองเดียวกัน ถ้าแทน $2(2\pi)$ ด้วยความยาวของส่วนโค้งของวงกลมหนึ่งหน่วยแล้วจะตองวัดส่วนโค้งของวงกลมหนึ่งหน่วยที่เริ่มนาฬิกาจากจุด (1,0) ให้ส่วนโค้งยาวเท่ากับ _____ รอบ และจุดปลายความยาวส่วนโค้งของ $2(2\pi)$ คือ _____ ถ้าแทน $3(2\pi)$ ด้วยความยาวของส่วนโค้งของวงกลมหนึ่งหน่วยแล้วจะตองวัดส่วนโค้งของวงกลมหนึ่งหน่วยที่เริ่มนาฬิกาจากจุด (1,0) ให้ส่วนโค้งยาวเท่ากับ _____ รอบ และจุดปลายความยาวส่วนโค้งของ $3(2\pi)$ คือ _____ ฯลฯ</p>
<p>2 (1,0) 3 (1,0)</p>	<p>50. นั่นคือจะสรุปได้ว่า ถ้าแทน $n(2\pi)$ เมื่อ n เป็นจำนวนเต็มบวก ด้วยความยาวของส่วนโค้งของวงกลมหนึ่งหน่วยแล้วจะตองวัดส่วนโค้งของวงกลมหนึ่งหน่วยที่เริ่มนาฬิกา จากจุด (1,0) ให้ส่วนโค้งยาวเท่ากับ _____ รอบ และจุดปลายความยาวส่วนโค้งของ $n(2\pi)$ คือ _____</p>
<p>n (1,0)</p>	<p>51. ให้ e เป็นจำนวนจริงบวก จำนวนจริง $n(2\pi)$ เมื่อ n เป็นจำนวนเต็มบวก เป็นจำนวนจริง _____ (บวก/ลบ) ดังนั้น $n(2\pi) + e$ เป็นจำนวนจริง _____ (บวก/ลบ)</p>
<p>บวก บวก</p>	<p>52. ให้ e เป็นจำนวนจริงบวก ดังนั้นการแทนจำนวนจริง $n(2\pi) + e$ เมื่อ n เป็นจำนวนเต็มบวกด้วยความยาวของส่วนโค้งของวงกลมหนึ่งหน่วยคือการวัดส่วนโค้งของวงกลมหนึ่งหน่วยที่เริ่มนาฬิกาจากจุด (1,0) ให้ส่วนโค้งยาว $n(2\pi)$ หน่วย แล้ววัดต่อไปอีก _____ หน่วย แต่จุดปลายความยาวส่วนโค้งของ $n(2\pi)$ คือ _____ นั่นคือจุดปลายความยาวส่วนโค้งของ e และ $n(2\pi) + e$ _____ จุดเดียวกัน (เป็น/ไม่เป็น)</p>

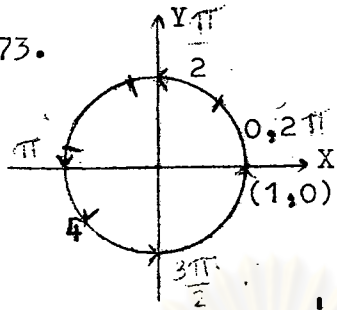
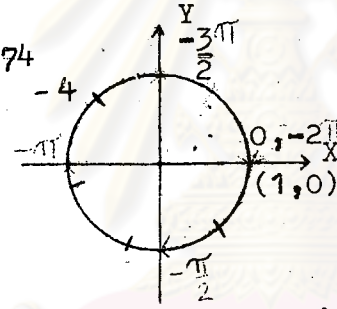
<p>θ (1,0) เป็น</p>	<p>53. นั่นคือจะสรุปได้ว่า ถ้า θ เป็นจำนวนจริงบวก แล้วจำนวนจริงที่มีจุดปลายความยาวส่วนโค้งเป็นจุดเดียวกับกับ θ เมื่อแทนควยความยาวของส่วนโค้งของวงกลมหนึ่งหน่วย คือจำนวนจริง n () + _____ เมื่อ n เป็นจำนวน _____</p>
<p>2π θ เต็มบวก</p>	<p>54. เนื่องจาก 5 เป็นจำนวนจริงบวก ดังนั้นจำนวนจริงที่มีจุดปลายความยาวส่วนโค้งเป็นจุดเดียวกับกับ 5 เมื่อแทนควยความยาวของส่วนโค้งของวงกลมหนึ่งหน่วย คือ</p> <p>1 $(2\pi) + 5 = 2\pi + 5$ 2 $(2\pi) + 5 =$ _____ 3 $(2\pi) +$ _____ = _____ _____</p> <p> ฯลฯ</p>
<p>$4\pi + 5$ 5 $6\pi + 5$ 4 $(2\pi) + 5$ $8\pi + 5$</p>	<p>55. </p> <p>ถ้าแทน 1 $(-2\pi) = -2\pi$ ด้วยความยาวของส่วนโค้งของวงกลมหนึ่งหน่วย แล้วจะต้องวัดส่วนโค้งของวงกลมหนึ่งหน่วย _____ เติมนาฬิกา จากจุด _____ (ทวน/ตาม) ให้ส่วนโค้งยาวเท่ากับ _____ รอบ ดังนั้นจุดปลายความยาวส่วนโค้งของ 1 (-2π) คือ _____</p>
<p>ตาม (1,0) 1 (1,0)</p>	<p>56. นั่นคือจะสรุปได้ว่า ถ้าแทน $n(-2\pi)$ เมื่อ n เป็นจำนวนเต็มบวก ด้วยความยาวของส่วนโค้งของวงกลมหนึ่งหน่วย แล้วจะต้องวัดส่วนโค้งของวงกลมหนึ่งหน่วย _____ เติมนาฬิกา จากจุด _____ ให้ส่วน _____ (ทวน/ตาม) โค้งยาวเท่ากับ _____ รอบ และจุดปลายความยาวส่วนโค้งของ $n(-2\pi)$ คือ _____</p>

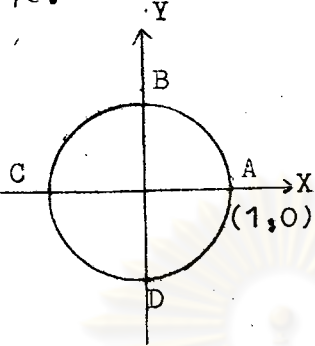
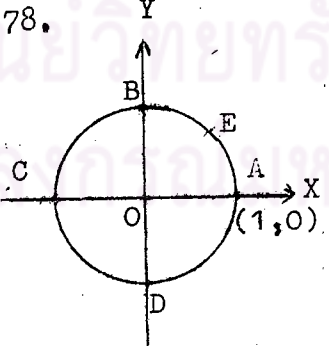
<p>ตาม $(1,0)$ n $(1,0)$</p>	<p>57. ให้ θ เป็นจำนวนจริงลบ จำนวนจริง $n(-2\pi)$ เมื่อ n เป็นจำนวนเต็มบวก เป็น จำนวนจริง _____ (บวก/ลบ) ดังนั้น $n(-2\pi) + \theta$ เป็นจำนวนจริง _____ (บวก/ลบ)</p>
<p>ลบ ลบ</p>	<p>58. ให้ θ เป็นจำนวนจริงลบ ดังนั้นการแทนจำนวนจริง $n(-2\pi) + \theta$ เมื่อ n เป็นจำนวน เต็มบวก หมายความว่าความยาวของส่วนโค้งของวงกลมหนึ่งหน่วยคือ การวัดส่วนโค้งของวงกลมหนึ่งหน่วย _____ เติมนาทีจาก (ทวน/ตาม) จุด $(1,0)$ ให้ส่วนโค้งยาว $n(-2\pi)$ หน่วย แล้ววัดต่อไป อีก _____ หน่วย แต่จุดปลายความยาวส่วนโค้งของ $n(-2\pi)$ คือ _____ นั่นคือจุดปลายความยาวส่วนโค้งของ θ และ $n(-2\pi) + \theta$ _____ จุดเดียวกัน (เป็น/ไม่เป็น)</p>
<p>ตาม $(1,0)$ θ เป็น</p>	<p>59. นั่นคือจะสรุปได้ว่า ถ้า θ เป็นจำนวนจริงลบ แล้วจำนวนจริงที่มีจุดปลายความยาว ส่วนโค้งเป็นจุดเดียวกับ θ เมื่อแทนความยาวของส่วน โค้งของวงกลมหนึ่งหน่วยคือ $n(\underline{\quad}) + \underline{\quad}$ เมื่อ n เป็น จำนวน _____</p>
<p>-2π θ เต็มบวก</p>	<p>60. เนื่องจาก $-\frac{\pi}{4}$ เป็นจำนวนจริงลบ ดังนั้นจำนวนจริงที่มีจุดปลายความยาวส่วนโค้งเป็นจุดเดียวกับ กับ $-\frac{\pi}{4}$ เมื่อแทนความยาวของส่วนโค้งของวงกลมหนึ่ง หน่วยคือ</p> $1 (-2\pi) + \left(-\frac{\pi}{4}\right) = -2\pi - \frac{\pi}{4}$ $2 (-2\pi) + \left(-\frac{\pi}{4}\right) = \underline{\hspace{2cm}}$ $3 (-2\pi) + \underline{\hspace{2cm}} = \underline{-2\pi - \frac{\pi}{4}}$ $= \underline{\hspace{2cm}}$ <p> ฯลฯ</p>

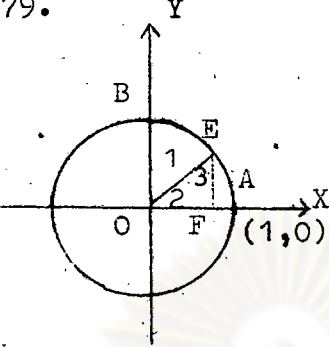
$-4\pi - \frac{\pi}{4}$ $\left(-\frac{\pi}{4}\right)$ $4 \left(-2\pi\right) + \left(-\frac{\pi}{4}\right)$ $-8\pi - \frac{\pi}{4}$	<p>61. $-3\pi - \frac{\pi}{6}$, $-7\pi - \frac{\pi}{6}$, $-12\pi - \frac{\pi}{6}$</p> <p>จากจำนวนจริงดังกล่าวข้างบน</p> <p>จำนวนจริงใดบ้างที่มีจุดปลายความยาวส่วนโค้งเป็นจุดเดียวกันกับ $-\frac{\pi}{6}$ เมื่อแทนควยความยาวของส่วนโค้งของวงกลมหนึ่งหน่วย _____</p>
$-12\pi - \frac{\pi}{6}$	<p>62.</p>  <p>เนื่องจาก \widehat{AC} คือเส้น _____ ของวงกลมหนึ่งหน่วย</p> <p>ดังนั้น \widehat{AC} จะแบ่งเส้นรอบวงของวงกลมหนึ่งหน่วยออกเป็น 2 ส่วนเท่าๆ กัน ยาว ส่วนละ $\frac{1}{2} (\quad) = \quad$ หน่วย</p> <p>นั่นคือ $\widehat{ABC} = \widehat{CDA} = \quad$ หน่วย</p>
<p>ผ่าศูนย์กลาง</p> 2π π π	<p>63.</p>  <p>เนื่องจากแกน y เป็นแกนสมมาตรของวงกลมหนึ่งหน่วย</p> <p>ดังนั้นถ้าพิ้ววงกลมหนึ่งหน่วยตามแนวแกน y แล้วจุด A จะทับจุด _____</p> <p>นั่นคือ B เป็นจุดกึ่งกลางของ \widehat{AC}</p> <p>และ B เป็นจุดกึ่งกลางของ \widehat{CDA}</p>
<p>C</p> <p>BC</p> <p>DA</p>	<p>64. จากกรอบที่ 63</p> <p>เนื่องจาก $\widehat{ABC} = \widehat{CDA} = \pi$ หน่วย</p> <p>ดังนั้น B จะแบ่ง \widehat{ABC} ออกเป็น 2 ส่วนเท่าๆ กัน ยาวส่วนละ $\frac{1}{2} (\quad) = \quad$ หน่วย</p> <p>และ D จะแบ่ง \widehat{CDA} ออกเป็น 2 ส่วนเท่าๆ กัน ยาวส่วนละ $\frac{1}{2} (\quad) = \quad$ หน่วย</p> <p>นั่นคือ $\widehat{AB} = \widehat{BC} = \widehat{CD} = \widehat{DA} = \quad$ หน่วย</p>

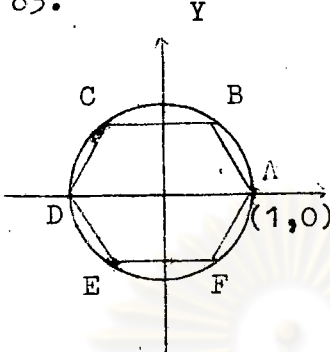
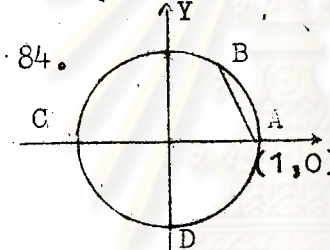
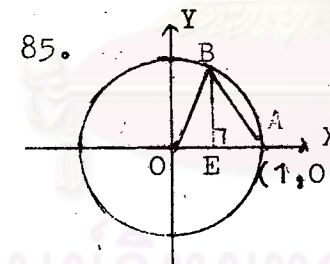
π π 2π 2π	<p>65. จากกรอบที่ 63, นั่นคือจะสรุปได้ว่า</p> $\widehat{AB} = \underline{\hspace{2cm}} \text{ หน่วย}$ $\widehat{ABC} = \underline{\hspace{2cm}} \text{ หน่วย}$ $\widehat{ABCD} = \widehat{ABC} + \underline{\hspace{2cm}} = \pi + \underline{\hspace{2cm}} = \underline{\hspace{2cm}} \text{ หน่วย}$
π 2π π 2π 3π 2π	<p>66. จากรูป จะสรุปได้ว่า</p> <p>B คือจุดปลายความยาวส่วนโค้งของจำนวนจริง $\underline{\hspace{2cm}}$</p> <p>C คือจุดปลายความยาวส่วนโค้งของจำนวนจริง $\underline{\hspace{2cm}}$</p> <p>D คือจุดปลายความยาวส่วนโค้งของจำนวนจริง $\underline{\hspace{2cm}}$</p> 
π 2π 3π 2π	<p>67. จากรูป เป็นการแสดงการแทนจำนวนจริง $\frac{\pi}{2}, \pi, \frac{3\pi}{2}$ และ 2π ด้วยความยาวของส่วนโค้งของวงกลมหนึ่งหน่วย</p> <p>ให้นักเรียนเขียนจำนวนจริง $\pi, \frac{3\pi}{2}$ และ 2π ที่จุดปลายความยาวส่วนโค้งของแต่ละจำนวนจริง</p> 
π 2π $\frac{3\pi}{2}$	<p>68. เนื่องจาก $\widehat{AB} = \widehat{BC} = \widehat{CD} = \widehat{DA} = \frac{\pi}{2}$ หน่วย และการวัด $\widehat{BA}, \widehat{CB}, \widehat{AD}, \widehat{DC}$ เป็นการวัด $\underline{\hspace{2cm}}$ เข็มนาฬิกา (ทวน/ตาม)</p> <p>ดังนั้น $\widehat{BA} = \widehat{CB} = \widehat{DC} = \widehat{AD} = \underline{\hspace{2cm}}$ หน่วย</p> <p>นั่นคือ $\widehat{AD} = \underline{\hspace{2cm}}$ หน่วย</p> <p>$\widehat{ADC} = \underline{\hspace{2cm}}$ หน่วย</p> <p>$\widehat{ADCB} = \underline{\hspace{2cm}}$ หน่วย</p> 

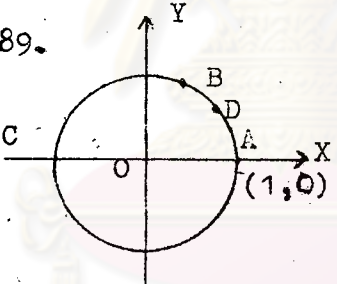
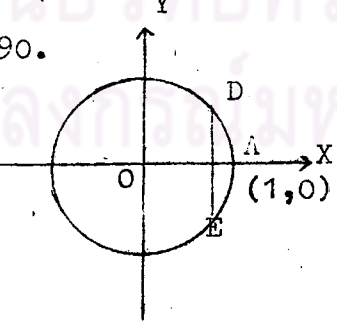
<p>ตาม</p> <p>$-\frac{\pi}{2}$</p> <p>$-\pi$</p> <p>$-\frac{3\pi}{2}$</p>	<p>69.</p> 	<p>จากรูป จะสรุปได้ว่า</p> <p>D คือจุดปลายความยาวส่วนโค้งของจำนวนจริง _____</p> <p>C คือจุดปลายความยาวส่วนโค้งของจำนวนจริง _____</p> <p>B คือจุดปลายความยาวส่วนโค้งของจำนวนจริง _____</p>
<p>$-\frac{\pi}{2}$</p> <p>$-\pi$</p> <p>$-\frac{3\pi}{2}$</p>	<p>70.</p> 	<p>จากรูป เป็นการแสดงการแทนจำนวนจริง $-\frac{\pi}{2}, -\pi, -\frac{3\pi}{2}$ และ -2π ด้วยความยาวของส่วนโค้งของวงกลมหนึ่งหน่วย</p> <p>ให้นักเรียนเขียนจำนวนจริง $-\frac{\pi}{2}, -\pi, -\frac{3\pi}{2}$ และ -2π ที่จุดปลายความยาวส่วนโค้งของแต่ละจำนวนจริง</p>
<p>$-\frac{3\pi}{2}$</p> <p>$-\pi$</p> <p>$-\frac{\pi}{2}$</p> <p>-2π</p>	<p>71. เนื่องจาก $\pi \approx 3.1416$</p> <p>ดังนั้น $\frac{\pi}{2} \approx$ _____</p> <p>$\frac{3\pi}{2} \approx$ _____</p> <p>$2\pi \approx$ _____</p>	
<p>1.5708</p> <p>4.7124</p> <p>6.2832</p>		<p>72. ถ้าแทนจำนวนจริง 0 ด้วยความยาวของส่วนโค้งของวงกลมหนึ่งหน่วย แล้วจะตองวัดส่วนโค้งของวงกลมหนึ่งหน่วยจากจุด _____ ให้ส่วนโค้งยาว _____ หน่วย</p> <p>นั่นคือจุดปลายความยาวส่วนโค้งของ 0 คือ _____</p>

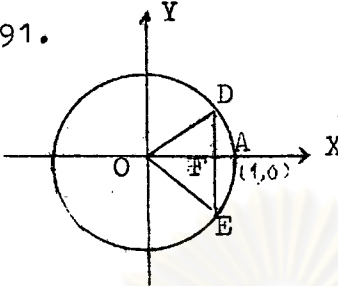
<p>(1,0) 0 (1,0)</p>	<p>73.</p>  <p>จุดปลายความยาวส่วนโค้งของ 4 อยู่ระหว่างจุดปลายความยาวส่วนโค้งของจำนวนจริง _____ และ _____ นั่นคือค่าแทน 4 ค่ายความยาวของส่วนโค้งของวงกลมหนึ่งหน่วย แล้วจุดปลายความยาวส่วนโค้งของ 4 อยู่ในควอดรันต์ที่ _____</p>	<p>การแทน 4 ค่ายความยาวของส่วนโค้งของวงกลมหนึ่งหน่วย คือการวัดส่วนโค้งของวงกลมหนึ่งหน่วย _____ (ทวน/ตาม) เข็มนาฬิกา จากจุด _____ ให้ส่วนโค้งยาว _____ หน่วย</p>
<p>ทวน (1,0) 4 π $\frac{3\pi}{2}$ 3</p>	<p>74.</p>  <p>จุดปลายความยาวส่วนโค้งของ -4 อยู่ระหว่างจุดปลายความยาวส่วนโค้งของจำนวนจริง _____ และ _____ นั่นคือค่าแทน -4 ค่ายความยาวของส่วนโค้งของวงกลมหนึ่งหน่วย แล้วจุดปลายความยาวส่วนโค้งของ -4 อยู่ในควอดรันต์ที่ _____</p>	<p>การแทน -4 ค่ายความยาวของส่วนโค้งของวงกลมหนึ่งหน่วย คือการวัดส่วนโค้งของวงกลมหนึ่งหน่วย _____ (ทวน/ตาม) เข็มนาฬิกา จากจุด _____ ให้ส่วนโค้งยาว _____ หน่วย</p>
<p>ตาม (1,0) -4 -π $-\frac{3\pi}{2}$ 2</p>	<p>75. $-\frac{3\pi}{4}, 6, 7, \frac{4\pi}{3}, -5$ เมื่อแทนจำนวนจริงดังกล่าวข้างต้น ค่ายความยาวของส่วนโค้งของวงกลมหนึ่งหน่วย จุดปลายความยาวส่วนโค้งของจำนวนจริงใดที่</p> <p>ก. อยู่ในควอดรันต์ที่ 1. ไคแก่ _____ ข. อยู่ในควอดรันต์ที่ 2. ไคแก่ _____ ค. อยู่ในควอดรันต์ที่ 3. ไคแก่ _____ ง. อยู่ในควอดรันต์ที่ 4. ไคแก่ _____</p>	

<p>7, -5 ไม่มี $-\frac{3\pi}{4}, \frac{4\pi}{3}$ 6</p>	<p>76. จุดปลายความยาวส่วนโค้งของ 0 คือจุด A</p>  <p> " " $\frac{\pi}{2}$ " _____ " " π " _____ " " $\frac{3\pi}{2}$ " _____ " " 2π " _____ โคออร์ดิเนตของจุด A คือ (1,0) " B " _____ " C " _____ " D " _____ </p>
<p>B C D A (0,1) (-1,0) (0,-1)</p>	<p>77. นั่นคือจะสรุปได้ว่า ถ้าแทน $0, \frac{\pi}{2}, \pi, \frac{3\pi}{2}$ และ 2π ด้วยความยาวของส่วนโค้ง ของวงกลมหนึ่งหน่วยแล้ว โคออร์ดิเนตของจุดปลายความยาวส่วนโค้งของ 0 คือ _____ " " " $\frac{\pi}{2}$ " _____ " " " π " _____ " " " $\frac{3\pi}{2}$ " _____ " " " 2π " _____</p>
<p>(1,0) (0,1) (-1,0) (0,-1) (1,0)</p>	<p>78. E เป็นจุดกึ่งกลางของ \widehat{AB} $\widehat{AB} =$ _____ หน่วย ดังนั้น $\widehat{AE} = \frac{1}{2} \widehat{AB}$ $= \frac{1}{2} (\quad)$ $=$ _____ หน่วย นั่นคือ E คือจุดปลายความยาวส่วน โค้งของจำนวนจริง _____</p> 

<p>$\frac{\pi}{2}$</p> <p>$\frac{\pi}{4}$</p> <p>$\frac{\pi}{4}$</p> <p>$\frac{\pi}{4}$</p>	<p>79.</p>  <p>E เป็นจุดปลายความยาวส่วนโค้งของ $\frac{\pi}{4}$</p> <p>$\widehat{AE} = \widehat{EB}$ (= / ≠) ดังนั้น $\hat{1} = \hat{2}$ (= / ≠)</p> <p>เนื่องจาก FE ขนานกับแกน Y ทำให้ $\hat{1} = \hat{3}$ (= / ≠)</p> <p>ดังนั้น $\hat{2} = \hat{3}$ (= / ≠)</p> <p>นั่นคือ $\triangle OEF =$ สามเหลี่ยม (เป็น/ไม่เป็น) หน้าจั่วและ $OF =$ _____</p>
<p>=</p> <p>=</p> <p>=</p> <p>เป็น</p> <p>FE</p>	<p>80. จากกรอบที่ 79</p> <p>โคออร์ดิเนตของ E คือ (OF, FE)</p> <p>เนื่องจาก (OF, FE) อยู่บนเส้นรอบวงของวงกลมหนึ่งหน่วย</p> <p>ดังนั้น $OF^2 + FE^2 =$ _____</p> <p>$OF^2 + OF^2 =$ _____ $(OF = FE)$</p> <p>$2(OF^2) =$ _____</p> <p>$OF =$ _____</p> <p>$OF =$ _____</p>
<p>1</p> <p>1</p> <p>1</p> <p>$\frac{1}{2}$</p> <p>$\frac{1}{2}$</p> <p>$\pm \frac{1}{\sqrt{2}}$</p>	<p>81. จากกรอบที่ 80</p> <p>เนื่องจากจุด E เป็นจุดในควอดรันต์ที่ 1</p> <p>ดังนั้น OF และ EF มีเครื่องหมาย _____ (บวก/ลบ)</p> <p>นั่นคือ $OF = FE =$ _____ หน่วย</p> <p>และโคออร์ดิเนตของ E คือ _____</p>
<p>$\frac{1}{\sqrt{2}}$ บวก</p> <p>$(\frac{1}{\sqrt{2}}, \frac{1}{\sqrt{2}})$</p>	<p>82. นั่นคือจะสรุปได้ว่า</p> <p>ถ้าแทน $\frac{\pi}{4}$ ด้วยความยาวของส่วนโค้งของวงกลมหนึ่งหน่วยแล้วจุดปลายความยาวส่วนโค้งของ $\frac{\pi}{4}$ มีโคออร์ดิเนตเป็น _____</p>

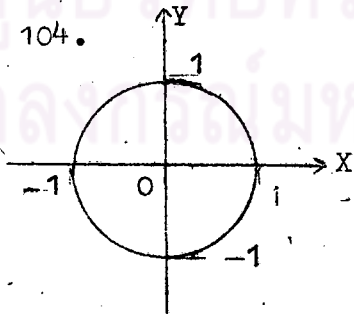
<p>$(\frac{1}{\sqrt{2}}, \frac{1}{\sqrt{2}})$</p>	<p>83.</p> 	<p>ให้ cords $AB=BC=CD=DE=EF=1$ หน่วย จากทฤษฎีบทพีทาโกรัสจะได้อา กาคords AB, BC, CD, DE และ $EF=1$ หน่วย แล้ว $FA = 1$ หน่วยด้วย ดังนั้นรูป $ABCDEF$ เป็นรูป _____ เหลี่ยมด้านเท่า และเส้นรอบวงของวงกลมหนึ่งหน่วย ถูกแบ่งออกเป็น _____ ส่วนเท่า ๆ กัน นั่นคือ $AB = \frac{1}{6}$ (_____) หน่วย = _____ หน่วย</p>
<p>6 6 2π $\frac{\pi}{3}$</p>	<p>84.</p> 	<p>B เป็นจุดปลายความยาวส่วนโค้งของ $\frac{\pi}{3}$ นั่นคือ $AB =$ _____ หน่วย และ $AB =$ _____ หน่วย</p>
<p>$\frac{\pi}{3}$ 1</p>	<p>85.</p> 	<p>B เป็นจุดปลายความยาวส่วนโค้งของ $\frac{\pi}{3}$ $OA=OB=AB=$ _____ หน่วย ดังนั้น $\triangle AOB$ _____ สามเหลี่ยมด้าน (เป็น/ไม่เป็น) เท่าและ $OE=EA=$ _____ หน่วย</p>
<p>1 เป็น $\frac{1}{2}$</p>	<p>86. จากกรอบที่ 85 โคออร์ดิเนตของ B คือ (OE, EB) เนื่องจากจุด (OE, EB) อยู่บนเส้นรอบวงของวงกลมหนึ่ง หน่วยดังนั้น $OE^2 + EB^2 =$ _____ $\frac{1}{4} + EB^2 =$ _____ ($OE = \frac{1}{2}$ หน่วย) $EB^2 =$ _____ นั่นคือ $EB =$ _____ หน่วย</p>	

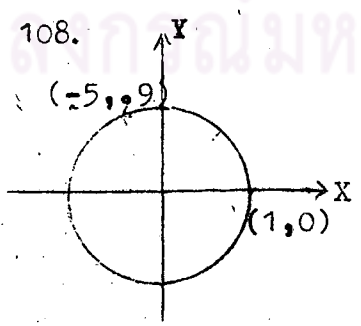
<p>1 1 3 4 3 1</p>	<p>87. จากกรอบที่ 86 เนื่องจากจุด B เป็นจุดในควอดรันต์ที่ _____ ดังนั้น OE และ EB มีเครื่องหมาย _____ (บวก/ลบ) นั่นคือ EB = _____ หน่วย และ OE = _____ หน่วย และโคออร์ดิเนตของ B คือ _____</p>
<p>1 บวก $\frac{\sqrt{3}}{2}$ $(\frac{1}{2}, \frac{\sqrt{3}}{2})$ 1</p>	<p>88. นั่นคือจะสรุปได้ว่า ถ้าแทน $\frac{\pi}{3}$ ด้วยความยาวของส่วนโค้งของวงกลมหนึ่งหน่วย แล้วจุดปลายความยาวส่วนโค้งของ $\frac{\pi}{3}$ มีโคออร์ดิเนตเป็น _____</p>
<p>$(\frac{1}{2}, \frac{\sqrt{3}}{2})$</p>	<p>89.  <p>$\widehat{ADB} = \frac{\pi}{3}$ หน่วย D เป็นจุดกึ่งกลางของ \widehat{ADB} ดังนั้น $AD = \frac{1}{2} \widehat{ADB}$ $= \frac{1}{2} (\quad)$ $=$ _____ หน่วย นั่นคือ D คือจุดปลายความยาวส่วนโค้งของจำนวนจริง _____</p> </p>
<p>$\frac{\pi}{2}$ $\frac{\pi}{6}$ $\frac{\pi}{6}$</p>	<p>90.  <p>D เป็นจุดปลายความยาวส่วนโค้งของ $\frac{\pi}{6}$ ดังนั้น $AD =$ _____ หน่วย ถ้าพิวงกลมหนึ่งหน่วยในรูปตามแนวแกน X แล้วจุด D จะทับจุด _____ ดังนั้น $EA = AD =$ _____ หน่วย $\widehat{EAD} =$ _____ หน่วย และ $DE =$ _____ หน่วย</p> </p>

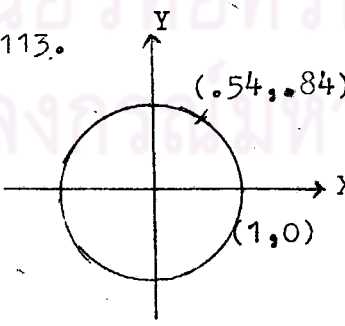
$\frac{\pi}{6}$ $\frac{\pi}{6}$ $\frac{\pi}{3}$ E 1	91.  <p>D เป็นจุดปลายความยาวส่วนโค้งของ $\frac{\pi}{6}$ $DO=OE=DE=$ _____ หน่วย ดังนั้น $\angle DOE$ _____ สามเหลี่ยมด้าน (เป็น/ไม่เป็น) เท่า และ $FD=FE=$ _____ หน่วย</p>
เป็น 1 $\frac{1}{2}$	92. จากกรอบที่ 91 โคออร์ดิเนตของ D คือ (OF, FD) เนื่องจากจุด (OF, FD) อยู่บนเส้นรอบวงของวงกลมหนึ่งหน่วย ดังนั้น $OF^2 + FD^2 =$ _____ $OF^2 + \frac{1}{4} =$ _____ ($FD = \frac{1}{2}$ หน่วย) นั่นคือ $OF^2 =$ _____ $OF =$ _____ หน่วย
1 1 $\frac{3}{4}$ $\frac{\sqrt{3}}{2}$	93. จากกรอบที่ 92 เนื่องจากจุด D เป็นจุดในควอดรันต์ที่ _____ ดังนั้น OF และ ED มีเครื่องหมาย _____ (บวก/ลบ) นั่นคือ $OF =$ _____ หน่วย และ $FD =$ _____ หน่วย และโคออร์ดิเนตของ D คือ _____
1 บวก $\frac{1}{2}$ $(\frac{\sqrt{3}}{2}, \frac{1}{2})$	94. นั่นคือจะสรุปได้ว่า ถ้าแทน $\frac{\pi}{6}$ ความยาวของส่วนโค้งของวงกลมหนึ่งหน่วย แล้วจุดปลายความยาวส่วนโค้งของ $\frac{\pi}{6}$ มีโคออร์ดิเนตเป็น _____

$\left(\frac{\sqrt{2}}{2}, \frac{1}{2}\right)$	<p>95. ค้างนั้นถ้าแทน $\frac{\pi}{4}$, $\frac{\pi}{3}$ และ $\frac{\pi}{6}$ ด้วยความยาวของส่วนโค้งของวงกลมหนึ่งหน่วยแล้ว โคออร์ดิเนตของจุดปลายความยาวส่วนโค้งของ $\frac{\pi}{4}$ คือ _____ " " " " _____ " " " " _____</p>
$\left(\frac{1}{2}, \frac{1}{2}\right)$ $\left(\frac{1}{2}, \frac{\sqrt{3}}{2}\right)$ $\left(\frac{\sqrt{3}}{2}, \frac{1}{2}\right)$	
<p>3. พังค์ชันซายน์ และ พังค์ชันโคซายน์</p>	
	<p>96. ในการแทนจำนวนจริงด้วยความยาวของส่วนโค้งของวงกลมหนึ่งหน่วยทุกครั้ง จะสังเกตเห็นได้ว่า จุดปลายความยาวส่วนโค้งของจำนวนจริงหนึ่ง ๆ มีจุดเดียวเสมอ ค้างนั้นถ้าแทนจำนวนจริง θ_1 และ θ_2 ด้วยความยาวของส่วนโค้งของวงกลมหนึ่งหน่วย ทำให้โคออร์ดิเนตของจุดปลายความยาวส่วนโค้งของ θ_1 และ θ_2 เป็น (x_1, y_1) และ (x_2, y_2) ตามลำดับ และ $\theta_1 = \theta_2$ แล้วจะสรุปได้ว่า _____ = _____</p>
(x_1, y_1) (x_2, y_2)	<p>97. เนื่องจากถ้า $(x_1, y_1) = (x_2, y_2)$ แล้ว $x_1 = x_2$ และ $y_1 = y_2$ ค้างนั้นถ้าแทนจำนวนจริง θ_1 และ θ_2 ด้วยความยาวของส่วนโค้งของวงกลมหนึ่งหน่วย ทำให้โคออร์ดิเนตของจุดปลายความยาวส่วนโค้งของ θ_1 และ θ_2 เป็น (x_1, y_1) และ (x_2, y_2) ตามลำดับ และ $\theta_1 = \theta_2$ แล้ว $x_1 =$ _____ และ $y_1 =$ _____</p>

x_2 y_2	<p>98. ให้ θ_1 และ θ_2 เป็นจำนวนจริง และเมื่อแทน θ_1 และ θ_2 ด้วยความยาวของส่วนโค้งของวงกลมหนึ่งหน่วย แล้วโคออร์ดิเนตของจุดปลายความยาวส่วนโค้งของ θ_1 และ θ_2 คือ (x_1, y_1) และ (x_2, y_2) ตามลำดับ</p> <p><u>พิจารณาคู่ลำดับ</u> (θ_1, x_1) และ (θ_2, x_2) ถ้า $\theta_1 = \theta_2$ แล้ว x_1 <u> </u> x_2 (=/\neq)</p> <p><u>พิจารณาคู่ลำดับ</u> (θ_1, y_1) และ (θ_2, y_2) ถ้า $\theta_1 = \theta_2$ แล้ว y_1 <u> </u> y_2 (=/\neq)</p>
$=$ $=$	<p>99. ดังนั้น ถ้า θ เป็นจำนวนจริงใด ๆ และเมื่อแทน θ ด้วยความยาวของส่วนโค้งของวงกลมหนึ่งหน่วย จุดปลายความยาวส่วนโค้งของ θ มีโคออร์ดิเนต เป็น (x, y) แล้วจะได้อะไร</p> <p>ห้ตของคู่ลำดับ (θ, y) <u> </u> ฟังก์ชัน (เป็น/ไม่เป็น)</p> <p>ห้ตของคู่ลำดับ (θ, x) <u> </u> ฟังก์ชัน (เป็น/ไม่เป็น)</p>
เป็น เป็น	<p>100. จากกรุปที่ 99</p> <p>ฟังก์ชันซึ่งเป็นห้ตของคู่ลำดับ (θ, y) เรียกว่า sine (อ่านว่าฟังก์ชันซายน์)</p> <p>ฟังก์ชันซึ่งเป็นห้ตของคู่ลำดับ (θ, x) เรียกว่า cosine (อ่านว่าฟังก์ชันโกซายน์)</p> <p>ดังนั้น sine คือห้ตของคู่ลำดับ <u> </u></p> <p>และ cosine คือห้ตของคู่ลำดับ <u> </u></p>

(θ, y) (θ, x)	<p>101. นั่นคือจะสรุปได้ว่า ถ้า θ เป็นจำนวนจริงใดๆ และเมื่อแทน θ ด้วยความยาว ของส่วนโค้งของวงกลมหนึ่งหน่วย ทำให้จุดปลายความยาว ส่วนโค้งของ θ มีโคออร์ดิเนตเป็น (x, y) แล้ว</p> <p>sine คือ _____ cosine คือ _____</p>
เซ้ตของคู่ลำดับ (θ, y) เซ้ตของคู่ลำดับ (θ, x)	<p>102. ให้ sine คือเซ้ตของคู่ลำดับ (θ, y) cosine คือเซ้ตของคู่ลำดับ (θ, x) นั่นคือ θ เป็น _____ (x, y) เป็น _____ ของจุดปลายความยาวส่วน โค้งของ θ เมื่อแทน θ ด้วยความยาวของส่วนโค้งของวง กลมหนึ่งหน่วย</p>
จำนวนจริง โคออร์ดิเนต	<p>103. ถ้า sine คือเซ้ตของคู่ลำดับ (θ, y) และ cosine คือเซ้ตของคู่ลำดับ (θ, x) แล้วโคไซน์ของ sine และ cosine คือเซ้ตของ _____ ดังนั้นโคไซน์ของ sine และ cosine คือเซ้ตของจำนวน _____</p>
θ จริง	<p>104. </p> <p>จากรูป เป็นวงกลมหนึ่งหน่วย ให้ (x, y) เป็นโคออร์ดิเนตใดๆ บนเส้นรอบวงของวงกลมหนึ่งหน่วย x เป็นจำนวนจริงที่มีค่าระหว่าง _____ ถึง _____ y เป็นจำนวนจริงที่มีค่าระหว่าง _____ ถึง _____</p> <p>นั่นคือจะสรุปได้ว่า ถ้า (x, y) เป็นจุดโคออร์ดิเนตบนเส้น รอบวงของวงกลมหนึ่งหน่วย แล้วทั้ง x และ y เป็นจำนวน จริงที่มีค่าระหว่าง _____ ถึง _____</p>

<p>1 -1</p> <p>1 -1</p> <p>1 -1</p>	<p>105. ถ้า sine คือเซตของคู่ลำดับ (θ, y) และ cosine คือเซตของคู่ลำดับ (θ, x) แล้ว</p> <p>เรนจ์ของ sine คือเซตของ _____</p> <p>เรนจ์ของ cosine คือเซตของ _____</p> <p>(x, y) _____ บนเส้นรอบวงของวงกลมหนึ่งหน่วย (อยู่/ไม่อยู่)</p> <p>ดังนั้นเรนจ์ของ sine และ cosine คือจำนวนจริงที่มีค่าระหว่าง _____ ถึง _____</p>
<p>อยู่</p> <p>1 -1</p> <p> y</p> <p> x</p>	<p>106. นั่นคือจะสรุปได้ว่า</p> <p>ก. โดเมนของ sine และ cosine คือ _____</p> <p>ข. เรนจ์ของ sine และ cosine คือ _____</p>
<p>เซตของจำนวนจริง</p> <p>จำนวนจริงที่มีค่า</p> <p>ระหว่าง 1 ถึง -1</p>	<p>107. ถ้า (θ, y) อยู่ใน sine เขียนแทนด้วย $\sin \theta = y$ หรือเขียนสั้น ๆ ว่า $\sin \theta = y$ (อ่านว่าไซน์ของจำนวนจริง θ เท่ากับ y)</p> <p>ถ้า (θ, x) อยู่ใน cosine เขียนแทนด้วย $\cos \theta = \underline{\hspace{2cm}}$ หรือเขียนสั้น ๆ ว่า $\cos \theta = x$ (อ่านว่าคอสของจำนวนจริง θ เท่ากับ x)</p>
<p>x</p>	<p>108.</p>  <p>ถ้าแทน 2 ด้วยความยาวของส่วนโค้งของวงกลมหนึ่งหน่วย แล้ว</p> <p>โคออร์ดิเนตของจุดปลายความยาวส่วนโค้งของ 2 คือ $(-5, .9)$</p> <p>ดังนั้น $(2, .9)$ อยู่ใน _____ (sine/cosine)</p> <p>และ $(2, -.5)$ อยู่ใน _____ (sine/cosine)</p>

sine cosine	109. นั่นคือ $\sin 2 = \underline{\hspace{2cm}}$ $\cos 2 = \underline{\hspace{2cm}}$
.9 -.5	110. นั่นคือจะสรุปได้ว่า ถ้าแทนจำนวนจริง θ ด้วยความยาวของส่วนโค้งของวงกลม หนึ่งหน่วย ทำให้โคออร์ดิเนตของจุดปลายความยาวส่วนโค้ง ของ θ คือ (x,y) แล้ว $\sin \theta = \underline{\hspace{2cm}}$ $\cos \theta = \underline{\hspace{2cm}}$
y x	111. ให้ θ เป็นจำนวนจริงใด ๆ การหาค่า $\sin \theta$ และ $\cos \theta$ ทำได้ดังนี้คือ ก. แทน θ ด้วยความยาวของส่วนโค้งของวงกลม <u> </u> ข. หา <u> </u> ของจุดปลายความยาวส่วนโค้งของ θ
หนึ่งหน่วย โคออร์ดิเนต	112. การหา $\sin 1$ และ $\cos 1$ ทำได้ดังนี้คือ ก. แทน 1 ด้วยความยาวของส่วนโค้งของ <u> </u> ข. หา <u> </u> ของจุดปลายความยาวส่วนโค้งของ 1
วงกลมหนึ่งหน่วย โคออร์ดิเนต	113.  เมื่อแทน 1 ด้วยความยาวของส่วน โค้งของวงกลมหนึ่งหน่วยแล้วโคออร์ ดิเนตของจุดปลายความยาวส่วนโค้ง ของ 1 คือ $(.54, .84)$ ดังนั้น $\sin 1 = \underline{\hspace{2cm}}$ $\cos 1 = \underline{\hspace{2cm}}$

.84 .54	<p>114. เนื่องจาก เรนจ์ของ sine และ cosine คือจำนวนจริงที่มีค่าระหว่าง 1 ถึง -1 ดังนั้นค่าของ $\sin \theta$ และ $\cos \theta$ เมื่อ θ เป็นจำนวนจริงใด ๆ จะมีการระหว่าง ___ ถึง ___</p>
1 -1	<p>115. ถ้าแทนจำนวนจริง α และ θ ด้วยความยาวของส่วนโค้งของวงกลมหนึ่งหน่วย และโคออร์ดิเนตของจุดปลายความยาวส่วนโค้งของ α และ θ คือ (x,y) แล้ว</p> $\sin \theta = \sin \alpha = \underline{\hspace{2cm}}$ $\cos \theta = \cos \alpha = \underline{\hspace{2cm}}$
y x	<p>116. นั่นคือจะสรุปได้ว่า ถ้าแทนจำนวนจริง α และ θ ด้วยความยาวของส่วนโค้งของวงกลมหนึ่งหน่วย ทำให้จุดปลายความยาวส่วนโค้งของ α และ θ เป็นจุดเดียวกันแล้ว</p> $\sin \theta \underline{\hspace{1cm}} \sin \alpha$ <p style="text-align: center;">(=/#)</p> $\cos \theta \underline{\hspace{1cm}} \cos \alpha$ <p style="text-align: center;">(=/#)</p>
= =	<p>117. เมื่อแทน 5 และ $2\pi + 5$ ด้วยความยาวของส่วนโค้งของวงกลมหนึ่งหน่วย แล้วจุดปลายความยาวส่วนโค้งของ 5 และ $2\pi + 5$ เป็นจุดเดียวกัน</p> <p>ดังนั้น $\sin 5 = \underline{\hspace{2cm}} (2\pi + 5)$ (sin/cos)</p> <p>$\cos 5 = \underline{\hspace{2cm}} (2\pi + 5)$ (sin/cos)</p>

<p>sin</p> <p>cos</p>	<p>118. เมื่อแทน $-\frac{\pi}{5}$ และ $-4\pi - \frac{\pi}{5}$ ด้วยความยาวของส่วนโค้งของวงกลมหนึ่งหน่วย แล้วจุดปลายความยาวส่วนโค้งของ $-\frac{\pi}{5}$ และ $-4\pi - \frac{\pi}{5}$ เป็นจุดเดียวกัน</p> <p>ดังนั้น $\sin\left(-\frac{\pi}{5}\right) = \frac{\quad}{\quad} \left(-4\pi - \frac{\pi}{5}\right)$</p> <p>(sin/cos)</p> <p>• $\cos\left(-\frac{\pi}{5}\right) = \frac{\quad}{\quad} \left(-4\pi - \frac{\pi}{5}\right)$</p> <p>(sin/cos)</p>
<p>sin</p> <p>cos</p>	<p>119. ให้ θ เป็นจำนวนจริง</p> <p>เมื่อแทน θ ด้วยความยาวของส่วนโค้งของวงกลมหนึ่งหน่วย แล้วจุดปลายความยาวส่วนโค้งของ θ อยู่ในควอดรันต์ที่ 1</p> <p>(x, y) เป็นโคออร์ดิเนตของจุดปลายความยาวส่วนโค้งของ θ ดังนั้น x มีเครื่องหมาย \quad และ y มี</p> <p>(บวก/ลบ)</p> <p>เครื่องหมาย \quad</p> <p>(บวก/ลบ)</p> <p>แต่ $\sin \theta = \frac{\quad}{\quad}$ และ $\cos \theta = \frac{\quad}{\quad}$</p> <p>นั่นคือ $\sin \theta$ มีเครื่องหมาย \quad และ $\cos \theta$</p> <p>(บวก/ลบ)</p> <p>มีเครื่องหมาย \quad</p> <p>(บวก/ลบ)</p>
<p>บวก บวก</p> <p>y x</p> <p>• บวก บวก</p>	<p>120. จากกรอบที่ 119</p> <p>ถ้าจุดปลายความยาวส่วนโค้ง θ อยู่ในควอดรันต์ที่ 2</p> <p>ดังนั้น x มีเครื่องหมาย \quad และ y มีเครื่องหมาย</p> <p>(บวก/ลบ)</p> <p>\quad</p> <p>(บวก/ลบ)</p> <p>นั่นคือ $\sin \theta$ มีเครื่องหมาย \quad และ $\cos \theta$</p> <p>(บวก/ลบ)</p> <p>มีเครื่องหมาย \quad</p> <p>(บวก/ลบ)</p>

บวก บวก บวก ลบ ลบ ลบ ลบ บวก	124. เนื่องจากเมื่อแทน -5.4 ความยาวของส่วนโค้งของวงกลมหนึ่งหน่วย แล้วจุดปลายความยาวส่วนโค้งของ -5.4 อยู่ในควอดรันตที่ 1 ดังนั้น $\sin(-5.4)$ มีเครื่องหมาย _____ $\cos(-5.4)$ มีเครื่องหมาย _____
บวก บวก	125. เนื่องจากเมื่อแทน $\frac{4\pi}{3}$ ความยาวของส่วนโค้งของวงกลมหนึ่งหน่วย แล้วจุดปลายความยาวส่วนโค้งของ $\frac{4\pi}{3}$ อยู่ในควอดรันตที่ _____ ดังนั้น $\sin \frac{4\pi}{3} =$ _____ $\cos \frac{4\pi}{3} =$ _____
3 ลบ ลบ	126. เนื่องจากเมื่อแทน 2.1 ความยาวของส่วนโค้งของวงกลมหนึ่งหน่วย แล้วจุดปลายความยาวส่วนโค้งของ 2.1 อยู่ในควอดรันตที่ _____ ดังนั้น $\sin 2.1$ มีเครื่องหมาย _____ $\cos 2.1$ มีเครื่องหมาย _____
2 บวก ลบ	127. $\cos^2 \theta$ หมายถึง $(\cos \theta)^2$ หรือ $(\cos \theta)(\cos \theta)$ กล่าวคือ $\cos^2 5 = (\cos 5)^2 = (\cos 5)(\cos 5)$ ดังนั้น $\cos^2 \frac{\pi}{5} =$ _____ = _____

$(\cos \frac{\pi}{5})^2$ $(\cos \frac{2\pi}{5})(\cos \frac{\pi}{5})$	<p>128. $\cos^2 \theta$ หมายถึงค่า cosine ของจำนวนจริง θ^2 กล่าวคือ $\cos^2 5 = \cos^2 25$ ดังนั้น $\cos^2(-6) = \underline{\hspace{2cm}}$</p>
$\cos 36$	<p>129. ในทำนองเดียวกัน $\sin^2 \theta$ หมายถึง $(\sin \theta)^2$ หรือ $(\sin \theta)(\sin \theta)$ กล่าวคือ $\sin^2 7 = (\sin 7)^2 = (\sin 7)(\sin 7)$ ดังนั้น $\sin^2(-\frac{\pi}{12}) = \underline{\hspace{2cm}} = \underline{\hspace{2cm}}$</p>
$(\sin(-\frac{\pi}{12}))^2$ $(\sin(-\frac{2\pi}{12}))$ $(\sin(-\frac{\pi}{12}))$	<p>130. $\sin^2 \theta$ หมายถึงค่า sine ของจำนวนจริง θ^2 กล่าวคือ $\sin^2 8 = \sin^2 64$ ดังนั้น $\sin^2(-12) = \underline{\hspace{2cm}}$</p>
$\sin 144$	<p>131. ให้ θ เป็นจำนวนจริงใด ๆ เมื่อแทน θ ด้วยความยาวของส่วนโค้งของวงกลมหนึ่งหน่วย แล้วโคออร์ดิเนตของจุดปลายความยาวส่วนโค้งของ θ คือ (x, y) ดังนั้น $\sin \theta = \underline{\hspace{2cm}}$ และ $\cos \theta = \underline{\hspace{2cm}}$ แต่ (x, y) เป็นจุดบนเส้นรอบวงของวงกลมหนึ่งหน่วย ดังนั้น $x^2 + y^2 = \underline{\hspace{2cm}}$ นั่นคือ $(\cos \theta)^2 + (\sin \theta)^2 = \underline{\hspace{2cm}}$</p>
y x 1 1	<p>132. ให้ θ เป็นจำนวนจริงใด ๆ นั่นคือจะสรุปได้ว่า $\cos^2 \theta + \sin^2 \theta = \underline{\hspace{2cm}}$</p>

1	<p>133. ถ้า $\sin \alpha = 1$ ให้นักเรียนหาว่า $\cos \alpha = ?$ เนื่องจาก $\cos^2 \alpha + \sin^2 \alpha = 1$ ดังนั้น $\cos^2 \alpha + (\underline{\quad})^2 = 1$ $\cos^2 \alpha = \underline{\quad}$ นั่นคือ $\cos \alpha = \underline{\quad}$</p>
1 0 0	<p>134. ถ้า $\cos \frac{\pi}{3} = 0.5$ ให้นักเรียนหาว่า $\sin \frac{\pi}{3} = ?$ เนื่องจาก $\cos^2 \frac{\pi}{3} + \sin^2 \frac{\pi}{3} = 1$ ดังนั้น $(\underline{\quad})^2 + \sin^2 \frac{\pi}{3} = 1$ $\sin^2 \frac{\pi}{3} = \underline{\quad}$ $\sin \frac{\pi}{3} = \underline{\quad}$ $= \pm .8660$</p>
.5 •75 $\pm \sqrt{.75}$	<p>135. จากกรอบที่ 134 เมื่อแทน $\frac{\pi}{3}$ ความยาวของส่วนโค้งของวงกลมหนึ่งหน่วย แล้วจุดปลายความยาวส่วนโค้งของ $\frac{\pi}{3}$ อยู่ในควอดรันตที่ $\underline{\quad}$ ดังนั้น $\sin \frac{\pi}{3}$ มีเครื่องหมาย = $\underline{\quad}$ (บวก/ลบ) นั่นคือ $\sin \frac{\pi}{3} = \underline{\quad}$</p>



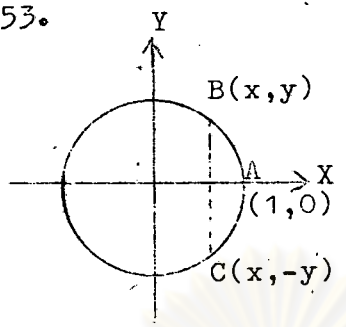
<p style="text-align: center;">1</p> <p style="text-align: center;">บวก</p> <p style="text-align: center;">.8660</p>	<p>136. ถ้า $\sin \frac{3\pi}{4} = \frac{1}{\sqrt{2}}$ ให้นักเรียนหาว่า $\cos \frac{3\pi}{4} = ?$</p> <p>เนื่องจาก _____ + _____ = 1</p> <p>ดังนั้น _____ + _____ = 1</p> <p>_____ + _____ = 1</p> <p>_____ = _____</p> <p>$\cos \frac{3\pi}{4} =$ _____</p> <p>แต่ $\cos \frac{3\pi}{4}$ มีเครื่องหมาย _____</p> <p>(บวก/ลบ)</p> <p>นั่นคือ $\cos \frac{3\pi}{4} =$ _____</p>
<p>$\cos^2 \frac{3\pi}{4} - \sin^2 \frac{3\pi}{4}$</p> <p>$\cos^2 \frac{3\pi}{4} - \left(\frac{1}{\sqrt{2}}\right)^2$</p> <p>$\cos^2 \frac{3\pi}{4} - \frac{1}{2}$</p> <p>$\cos^2 \frac{3\pi}{4} - \frac{1}{2}$</p> <p>$\frac{1}{2} - \frac{1}{2}$</p> <p>ลบ</p> <p>$-\frac{1}{2}$</p>	<p style="text-align: center;">ศูนย์วิทยทรัพยากร ศาลากลางมทววิทยาลัย</p>

<p>4. การใช้วงกลมหนึ่งหน่วยหาค่าฟังก์ชันไซน์ และฟังก์ชันโคไซน์ของจำนวนจริง $0, \frac{\pi}{6}, \frac{\pi}{4}, \frac{\pi}{3}, \frac{\pi}{2}, \frac{3\pi}{2}$ และ 2π</p>	
	<p>137. ถ้าแทน 5 ด้วยความยาวของส่วนโค้งของวงกลมหนึ่งหน่วย แล้วจุดปลายความยาวส่วนโค้งของ 5 มีโคออร์ดิเนตเป็น $(.96, -.28)$</p> <p>ดังนั้น $\sin 5 = \underline{\hspace{2cm}}$</p> <p>$\cos 5 = \underline{\hspace{2cm}}$</p>
<p>$-.28$ $.96$</p>	<p>138. ถ้าแทน 0 ด้วยความยาวของส่วนโค้งของวงกลมหนึ่งหน่วย แล้วโคออร์ดิเนตของจุดปลายความยาวส่วนโค้งของ 0 คือ</p> <p>ดังนั้น $\sin 0 = \underline{\hspace{2cm}}$</p> <p>$\cos 0 = \underline{\hspace{2cm}}$</p>
<p>$(1, 0)$ 0 1</p>	<p>139. ถ้าแทน $\frac{\pi}{2}$ ด้วยความยาวของส่วนโค้งของวงกลมหนึ่งหน่วย แล้วโคออร์ดิเนตของจุดปลายความยาวส่วนโค้งของ $\frac{\pi}{2}$ คือ</p> <p>ดังนั้น $\sin \frac{\pi}{2} = \underline{\hspace{2cm}}$</p> <p>$\cos \frac{\pi}{2} = \underline{\hspace{2cm}}$</p>
<p>$(0, 1)$ 1 0</p>	<p>140. ถ้าแทน π ด้วยความยาวของส่วนโค้งของวงกลมหนึ่งหน่วย แล้วโคออร์ดิเนตของจุดปลายความยาวส่วนโค้งของ π คือ</p> <p>ดังนั้น $\sin \pi = \underline{\hspace{2cm}}$</p> <p>$\cos \pi = \underline{\hspace{2cm}}$</p>
<p>$(-1, 0)$ 0 -1</p>	<p>141. ถ้าแทน $\frac{3\pi}{2}$ ด้วยความยาวของส่วนโค้งของวงกลมหนึ่งหน่วย แล้วโคออร์ดิเนตของจุดปลายความยาวส่วนโค้งของ $\frac{3\pi}{2}$ คือ</p> <p>ดังนั้น $\sin \frac{3\pi}{2} = \underline{\hspace{2cm}}$</p> <p>$\cos \frac{3\pi}{2} = \underline{\hspace{2cm}}$</p>

$(0, -1)$ -1 0	<p>142. ถ้าแทน 2π ด้วยความยาวของส่วนโค้งของวงกลมหนึ่งหน่วย แล้ว โคออร์ดิเนตของจุดปลายความยาวส่วนโค้งของ 2π คือ _____</p> <p>ดังนั้น $\sin 2\pi = \underline{\hspace{2cm}}$</p> <p>$\cos 2\pi = \underline{\hspace{2cm}}$</p>
$(1, 0)$ 0 1	<p>143. นั่นคือจะสรุปค่าฟังก์ชันไซน์ และฟังก์ชันโคไซน์ ของจำนวนจริง $0, \frac{\pi}{2}, \pi, \frac{3\pi}{2}$ และ 2π ได้คือ</p> <p>$\sin 0 = \underline{\hspace{2cm}}$ และ $\cos 0 = \underline{\hspace{2cm}}$</p> <p>$\sin \frac{\pi}{2} = \underline{\hspace{2cm}}$ และ $\cos \frac{\pi}{2} = \underline{\hspace{2cm}}$</p> <p>$\sin \pi = \underline{\hspace{2cm}}$ และ $\cos \pi = \underline{\hspace{2cm}}$</p> <p>$\sin \frac{3\pi}{2} = \underline{\hspace{2cm}}$ และ $\cos \frac{3\pi}{2} = \underline{\hspace{2cm}}$</p> <p>$\sin 2\pi = \underline{\hspace{2cm}}$ และ $\cos 2\pi = \underline{\hspace{2cm}}$</p>
0 1 1 0 0 -1 -1 0 0 1	<p>144. ถ้าแทน $\frac{\pi}{4}$ ด้วยความยาวของส่วนโค้งของวงกลมหนึ่งหน่วย แล้ว โคออร์ดิเนตของจุดปลายความยาวส่วนโค้งของ $\frac{\pi}{4}$ คือ _____</p> <p>ดังนั้น $\sin \frac{\pi}{4} = \underline{\hspace{2cm}}$</p> <p>$\cos \frac{\pi}{4} = \underline{\hspace{2cm}}$</p>
$(\frac{1}{\sqrt{2}}, \frac{1}{\sqrt{2}})$ $\frac{1}{\sqrt{2}}$ $\frac{1}{\sqrt{2}}$	<p>145. ถ้าแทน $\frac{\pi}{3}$ ด้วยความยาวของส่วนโค้งของวงกลมหนึ่งหน่วย แล้ว โคออร์ดิเนตของจุดปลายความยาวส่วนโค้งของ $\frac{\pi}{3}$ คือ _____</p> <p>ดังนั้น $\sin \frac{\pi}{3} = \underline{\hspace{2cm}}$</p> <p>$\cos \frac{\pi}{3} = \underline{\hspace{2cm}}$</p>

$(\frac{1}{2}, \frac{\sqrt{3}}{2})$ $\frac{\sqrt{3}}{2}$ $\frac{1}{2}$	<p>146. ถ้าแทน $\frac{\pi}{6}$ ด้วยความยาวของส่วนโค้งของวงกลมหนึ่งหน่วย แล้ว โคออร์ดิเนตของจุดปลายความยาวส่วนโค้งของ $\frac{\pi}{6}$ คือ _____</p> <p>ดังนั้น $\sin \frac{\pi}{6} = \underline{\hspace{2cm}}$</p> <p>$\cos \frac{\pi}{6} = \underline{\hspace{2cm}}$</p>
$(\frac{\sqrt{3}}{2}, \frac{1}{2})$ $\frac{1}{2}$ $\frac{\sqrt{3}}{2}$	<p>147. นั่นคือจะสรุปค่าฟังก์ชันซายและฟังก์ชันโคซายนของจำนวนจริง $\frac{\pi}{4}, \frac{\pi}{3}$ และ $\frac{\pi}{6}$ ได้คือ</p> <p>$\sin \frac{\pi}{4} = \underline{\hspace{2cm}}$ และ $\cos \frac{\pi}{4} = \underline{\hspace{2cm}}$</p> <p>$\sin \frac{\pi}{3} = \underline{\hspace{2cm}}$ และ $\cos \frac{\pi}{3} = \underline{\hspace{2cm}}$</p> <p>$\sin \frac{\pi}{6} = \underline{\hspace{2cm}}$ และ $\cos \frac{\pi}{6} = \underline{\hspace{2cm}}$</p>
$\frac{1}{\sqrt{2}}$ $\frac{1}{\sqrt{2}}$ $\frac{\sqrt{3}}{2}$ $\frac{1}{2}$ $\frac{1}{2}$ $\frac{\sqrt{3}}{2}$	<p>148. $\sin 0 \cdot \cos \frac{3\pi}{2} - \sin \frac{\pi}{6} \cos \frac{\pi}{3} = \underline{\hspace{2cm}}$</p> <p>$\hspace{10cm} = \underline{\hspace{2cm}}$</p> <p>$\hspace{10cm} = \underline{\hspace{2cm}}$</p>
$0 \cdot 0 - \frac{1}{2} \cdot \frac{1}{2}$ $0 - \frac{1}{4}$ $-\frac{1}{4}$	<p>149. $\sin^2 \frac{\pi}{4} \cos \frac{\pi}{3} + \sin 2\pi \cos \frac{\pi}{6} = \underline{\hspace{2cm}}$</p> <p>$\hspace{10cm} = \underline{\hspace{2cm}}$</p> <p>$\hspace{10cm} = \underline{\hspace{2cm}}$</p>

$\left(\frac{1}{\sqrt{2}}\right)^2 \cdot \frac{1}{2} + 0 \cdot \frac{\sqrt{3}}{2}$ $\frac{1}{4} + 0$ $\frac{1}{4}$	<p>150. $\sin \pi \cos \frac{3\pi}{2} + \cos^2 \frac{\pi}{4} \cos \pi =$ _____</p> <p>$=$ _____</p> <p>$=$ _____</p>
$00 + \left(\frac{1}{\sqrt{2}}\right)^2 \cdot (-1)$ $0 - \frac{1}{2}$ $-\frac{1}{2}$	
<p>5. การแสดงค่าฟังก์ชันไซน์ และฟังก์ชันโคไซน์ของจำนวนจริงใด ๆ ในเทอมของค่าของฟังก์ชันของจำนวนจริงตั้งแต่ 0 ถึง $\frac{\pi}{2}$</p>	
<p>151.</p>	<p>เนื่องจากแกน x เป็นแกนสมมาตรของวงกลมหนึ่งหน่วย ดังนั้นถ้าตัดวงกลมหนึ่งหน่วยในรูปตามแนวแกน x แล้วจุด B จะทับจุด _____ นั่นคือ $AB =$ _____ $BE =$ _____ และ $BD =$ _____</p>
<p>C</p> <p>CA</p> <p>EC</p> <p>CF</p>	<p>152.</p> <p>จากรูปโคออร์ดิเนตของ B คือ (x,y) ดังนั้น $DB = x$ หน่วย และ $BE =$ _____ หน่วย นั่นคือ $CF =$ _____ หน่วย $EC =$ _____ หน่วย และโคออร์ดิเนตของ C คือ _____</p>

<p>y x -y (x, -y)</p>	<p>153. </p> <p>ให้ θ เป็นจำนวนจริงบวกใด ๆ B เป็นจุดบนความยาวส่วนโค้งของ θ $\widehat{AB} = \underline{\hspace{2cm}}$ หน่วย $\widehat{AB} \neq \widehat{CA}$ ดังนั้น $\widehat{AC} = \underline{\hspace{2cm}}$ หน่วย นั่นคือ C เป็นจุดปลายความยาวส่วนโค้งของ $\underline{\hspace{2cm}}$</p>
<p>θ = -θ -θ</p>	<p>154. จากกรอบที่ 153 ดังนั้น $\sin \theta = \underline{\hspace{2cm}}$ และ $\cos \theta = \underline{\hspace{2cm}}$ $\sin(-\theta) = \underline{\hspace{2cm}}$ และ $\cos(-\theta) = \underline{\hspace{2cm}}$ นั่นคือ $\sin(-\theta) = \frac{\sin \theta / -\sin \theta}{(\sin \theta / -\sin \theta)}$ $= \frac{\cos \theta / -\cos \theta}{(\cos \theta / -\cos \theta)}$</p>
<p>y x -y x -sin θ cos θ</p>	<p>155. นั่นคือจะสรุปได้ว่า ถ้า θ เป็นจำนวนจริงบวก แล้ว $-\theta$ เป็น $\underline{\hspace{2cm}}$ และ $\sin(-\theta) = \underline{\hspace{2cm}}$ $\cos(-\theta) = \underline{\hspace{2cm}}$</p>
<p>จำนวนจริงลบ -sin θ 'cos θ'</p>	<p>156. $\sin(-5) = \underline{\hspace{2cm}}$ $\cos(-5) = \underline{\hspace{2cm}}$ $\sin(-\frac{\pi}{10}) = \underline{\hspace{2cm}}$ $\cos(-\frac{\pi}{10}) = \underline{\hspace{2cm}}$</p>

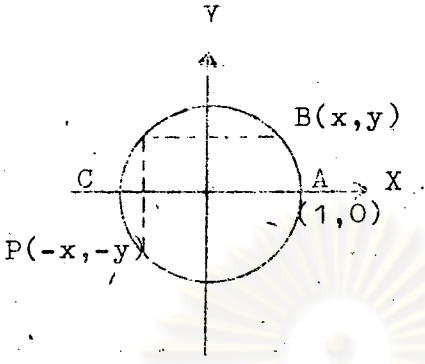
$-\sin 5$ $\cos 5$ $-\sin \frac{\pi}{10}$ $\cos \frac{\pi}{10}$	<p>157. ให้นักเรียนหาค่า $\sin(-\frac{\pi}{4})$ และ $\cos(-\frac{\pi}{4})$</p> $\sin(-\frac{\pi}{4}) = -\sin \frac{\pi}{4} = -\frac{1}{\sqrt{2}}$ $\cos(-\frac{\pi}{4}) = \cos \frac{\pi}{4} = \underline{\hspace{2cm}}$
$\frac{1}{\sqrt{2}}$	<p>158. ให้นักเรียนหาค่า $\sin(-\frac{\pi}{3})$, $\cos(-\frac{\pi}{6})$, $\sin(-\pi)$ และ $\cos(-2\pi)$</p> $\sin(-\frac{\pi}{3}) = \underline{\hspace{2cm}}$ $\cos(-\frac{\pi}{6}) = \underline{\hspace{2cm}}$ $\sin(-\pi) = \underline{\hspace{2cm}}$ $\cos(-2\pi) = \underline{\hspace{2cm}}$
$-\sin \frac{\pi}{3} = -\frac{\sqrt{3}}{2}$ $\cos \frac{\pi}{6} = \frac{\sqrt{3}}{2}$ $-\sin \pi = 0$ $\cos 2\pi = 1$	<p>159. ถ้า θ เป็นจำนวนบวก ซึ่ง $\theta > 2\pi$ แล้ว</p> <p>$\theta = n(2\pi) + \alpha$ เมื่อ n เป็นจำนวนเต็มบวก และ $0 \leq \alpha < 2\pi$</p> <p>เช่น $5\pi = 2(2\pi) + \pi$</p> <p>ดังนั้น $9\pi = \underline{\hspace{1cm}}(2\pi) + \underline{\hspace{1cm}}$</p> $\frac{5\pi}{2} = \underline{\hspace{1cm}}(2\pi) + \underline{\hspace{1cm}}$ $\frac{25\pi}{4} = \underline{\hspace{1cm}}(2\pi) + \underline{\hspace{1cm}}$
$4 \quad \pi$ $1 \quad 2\pi$ $3 \quad 3\pi$ $4 \quad 4\pi$	<p>160. ให้ $\theta = n(2\pi) + \alpha$ เมื่อ n เป็นจำนวนเต็มบวก และ $0 \leq \alpha < 2\pi$</p> <p>ถ้าแทน $n(2\pi) + \alpha$ และ α ด้วยความยาวของส่วนโค้งของวงกลมหนึ่งหน่วย แล้วจุดปลายความยาวส่วนโค้งของ $n(2\pi) + \alpha$ และ α <u> </u> จุดเดียวกัน (เป็น/ไม่เป็น)</p> <p>ดังนั้นจุดปลายความยาวส่วนโค้งของ θ และ α <u> </u> จุดเดียวกัน (เป็น/ไม่เป็น)</p> <p>นั่นคือ $\sin \theta$ <u> </u> $\sin \alpha$ และ $\cos \theta$ <u> </u> $\cos \alpha$ ($=/\neq$)</p>

<p>เป็น เป็น = =</p>	<p>161. นั่นคือจะสรุปได้ว่า ถ้า θ เป็นจำนวนจริงซึ่ง $\theta > 2\pi$ แล้ว ก. $\theta = n(2\pi) + \alpha$ เมื่อ n เป็น _____ และ _____ $\ll \alpha \ll$ _____ ข. $\sin \theta =$ _____ $\cos \theta =$ _____</p>
<p>จำนวนเต็มบวก $0 < 2\pi$ $\sin \alpha$ $\cos \alpha$</p>	<p>162. ให้นักเรียนหาค่า $\sin 5\pi$ และ $\cos 5\pi$ เนื่องจาก $5\pi > 2\pi$ ดังนั้น $5\pi = 2(2\pi) + \pi$ นั่นคือ $\sin 5\pi = \sin \pi = 0$ $\cos 5\pi =$ _____ = _____</p>
<p>$\cos \pi = -1$</p>	<p>163. ให้นักเรียนหาค่า $\sin \frac{7\pi}{3}$ และ $\cos \frac{7\pi}{3}$ เนื่องจาก $\frac{7\pi}{3} > 2\pi$ ดังนั้น $\frac{7\pi}{3} =$ _____ $(2\pi) +$ _____ นั่นคือ $\sin \frac{7\pi}{3} =$ _____ = _____ $\cos \frac{7\pi}{3} =$ _____ = _____</p>
<p>$\sin \frac{\pi}{3} = \frac{\sqrt{3}}{2}$ $\cos \frac{\pi}{3} = \frac{1}{2}$</p>	<p>164. ให้นักเรียนหาค่า $\sin \frac{25\pi}{6}$ และ $\cos \frac{25\pi}{6}$ เนื่องจาก _____ ดังนั้น _____ นั่นคือ _____ _____</p>

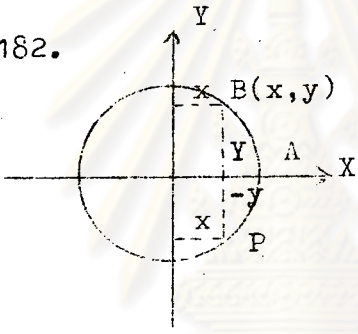
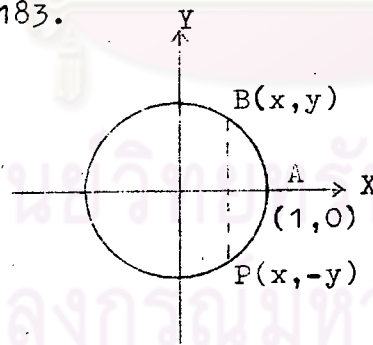
$\frac{25\pi}{6} > 2\pi$ $\frac{25\pi}{6} = 2(2\pi) + \frac{\pi}{6}$ $\sin \frac{25\pi}{6} = \sin \frac{\pi}{6} = \frac{1}{2}$ $\cos \frac{25\pi}{6} = \cos \frac{\pi}{6} = \frac{\sqrt{3}}{2}$	<p>165.</p>	<p>ถ้าพิวงกลมหนึ่งหน่วยในรูปตามแกน Y แล้วจุด P จะทับจุด _____</p> <p>นั่นคือ $\widehat{AB} =$ _____</p> <p>$PF =$ _____</p> <p>และ $PR =$ _____</p>
<p>B PC FB BE</p>	<p>166. จากกรอบที่ 165</p> <p>โคออร์ดิเนตของ B คือ (x,y)</p> <p>ดังนั้น $FB = x$ หน่วย และ $BE =$ _____ หน่วย</p> <p>นั่นคือ $PF =$ _____ หน่วย , $PR =$ _____ หน่วย</p> <p>และโคออร์ดิเนตของ P คือ _____</p>	
<p>\bar{y} -x \bar{y} (-x,y)</p>	<p>167.</p>	<p>ให้ θ เป็นจำนวนจริงบวกซึ่ง $0 < 2\pi$ และเมื่อแทน θ ด้วยความยาวของส่วนโค้งของวงกลมหนึ่งหน่วยแล้วจุดปลายความยาวส่วนโค้งของ θ อยู่ในควอดรันต์ที่ 2</p> <p>P เป็นจุดปลายความยาวส่วนโค้งของ θ</p> <p>$\widehat{ABP} =$ _____ หน่วย</p> <p>$\widehat{ABPC} =$ _____ หน่วย</p> <p>ดังนั้น $PC =$ _____ หน่วย</p> <p>นั่นคือ $\widehat{AB} =$ _____ หน่วย</p>
<p>θ π $\pi - \theta$ $\pi - \theta$</p>	<p>168. จากกรอบที่ 167</p> <p>การวัดส่วนโค้ง AB เป็นการวัด _____ เชนมาติกา (ทวน/ตาม)</p> <p>ดังนั้น $\pi - \theta$ เป็นจำนวนจริง _____ (บวก/ลบ)</p> <p>ซึ่ง $\pi - \theta > 0$ และ $\pi - \theta < \frac{\pi}{2}$</p> <p>นั่นคือ $0 < \pi - \theta < \frac{\pi}{2}$</p>	

<p>หวน บวก > < < <</p>	<p>169. จากกรอบที่ 167</p> <p>P คือจุดปลายความยาวส่วนโค้งของจำนวนจริง θ</p> <p>B คือจุดปลายความยาวส่วนโค้งของจำนวนจริง _____</p> <p>ดังนั้น $\sin \theta = \underline{\hspace{2cm}}$ และ $\cos \theta = \underline{\hspace{2cm}}$</p> <p>$\sin(\pi - \theta) = \underline{\hspace{2cm}}$ และ $\cos(\pi - \theta) = \underline{\hspace{2cm}}$</p> <p>นั่นคือ $\sin \theta = \frac{\sin(\pi - \theta)}{(-\sin(\pi - \theta))}$</p> <p>$\cos \theta = \frac{\cos(\pi - \theta)}{(-\cos(\pi - \theta))}$</p>
<p>y $\pi - \theta$ -x</p> <p>y x</p> <p>$\sin(\pi - \theta)$</p> <p>$-\cos(\pi - \theta)$</p>	<p>170. นั่นคือจะสรุปได้ว่า</p> <p>ถ้า θ เป็นจำนวนจริงบวก ซึ่ง $0 < 2\pi$ และเมื่อแทน θ ด้วยความยาวของส่วนโค้งของวงกลมหนึ่งหน่วย ทำให้จุดปลายความยาวส่วนโค้ง θ อยู่ในควอดรันต์ที่ 2 แล้ว</p> <p>ก. $0 \frac{\pi - \theta}{(>/<)} - \frac{\pi}{2} \frac{\pi}{2}$</p> <p>ข. $\sin \theta = \underline{\hspace{2cm}}$</p> <p>$\cos \theta = \underline{\hspace{2cm}}$</p>
<p>< <</p> <p>$\sin(\pi - \theta)$</p> <p>$-\cos(\pi - \theta)$</p>	<p>171. การเขียนค่าฟังก์ชันไซน์ และฟังก์ชันโคไซน์ของจำนวนจริง 3 ให้อยู่ในรูปค่าของฟังก์ชันไซน์และฟังก์ชันโคไซน์ของจำนวนจริงตั้งแต่ 0 ถึง $\frac{\pi}{2}$ มีวิธีทำดังนี้คือ</p> <p>เนื่องจากเมื่อแทน 3 ด้วยความยาวของส่วนโค้งของวงกลมหนึ่งหน่วย แล้วจุดปลายความยาวส่วนโค้งของ 3 อยู่ในควอดรันต์ที่ 2</p> <p>ดังนั้น $0 \frac{\pi - 3}{(>/<)} - 3 \frac{\pi}{2} \frac{\pi}{2}$</p> <p>นั่นคือ $\sin 3 = \underline{\hspace{2cm}}$</p> <p>$\cos 3 = \underline{\hspace{2cm}}$</p>

<p>< <</p> <p>$\sin(\pi - 3)$</p> <p>$-\cos(\pi - 3)$</p>	<p>172. ให้นักเรียนหาค่าของ $\sin \frac{3\pi}{4}$ และ $\cos \frac{3\pi}{4}$</p> <p>เนื่องจากเมื่อแทน $\frac{3\pi}{4}$ ความยาวของส่วนโค้งของวงกลมหนึ่งหน่วยแล้ว จุดปลายความยาวส่วนโค้งของ $\frac{3\pi}{4}$ อยู่ในควอดรันต์ที่ 2</p> <p>ดังนั้น $0 < \frac{\pi - \frac{3\pi}{4}}{(\pi/2)} < \frac{\pi}{2}$</p> <p>นั่นคือ $\sin \frac{3\pi}{4} = \sin(\pi - \frac{3\pi}{4}) = \sin \frac{\pi}{4} = \frac{1}{\sqrt{2}}$</p> <p>$\cos \frac{3\pi}{4} = \underline{\hspace{2cm}} = \underline{\hspace{2cm}} = \underline{\hspace{2cm}}$</p>
<p>< <</p> <p>$-\cos(\pi - \frac{3\pi}{4})$</p> <p>$-\cos \frac{\pi}{4} = -\frac{1}{2}$</p>	<p>173. ให้นักเรียนหาค่าของ $\sin \frac{2\pi}{3}$ และ $\cos \frac{2\pi}{3}$</p> <p>เนื่องจากเมื่อแทน $\frac{2\pi}{3}$ ความยาวของส่วนโค้งของวงกลมหนึ่งหน่วยแล้ว จุดปลายความยาวส่วนโค้งของ $\frac{2\pi}{3}$ อยู่ในควอดรันต์ที่ _____</p> <p>ดังนั้น $0 < \underline{\hspace{2cm}} < \frac{\pi}{2}$</p> <p>นั่นคือ $\sin \frac{2\pi}{3} = \underline{\hspace{2cm}}$</p> <p>$\cos \frac{2\pi}{3} = \underline{\hspace{2cm}}$</p>
<p>2</p> <p>$\pi - \frac{2\pi}{3}$</p> <p>$\sin(\pi - \frac{2\pi}{3}) =$</p> <p>$\sin \frac{\pi}{3} = \frac{\sqrt{3}}{2}$</p> <p>$-\cos(\pi - \frac{2\pi}{3}) =$</p> <p>$-\cos \frac{\pi}{3} = -\frac{1}{2}$</p>	<p>174.</p> <p>เนื่องจากแกน X และแกน Y เป็นแกนสมมาตรของวงกลมหนึ่งหน่วย</p> <p>ดังนั้น $\widehat{AB} = \widehat{\hspace{1cm}} = \widehat{\hspace{1cm}}$</p> <p>แต่โคออร์ดิเนตของ B คือ (x, y)</p> <p>นั่นคือโคออร์ดิเนตของ P คือ _____</p>

<p>DC CP (-x, -y)</p>	<p>175.</p> 	<p>ให้ θ เป็นจำนวนจริงบวก ซึ่ง $0 < \theta < 2\pi$ และเมื่อแทน θ ด้วยความยาวของ ส่วนโค้งของวงกลมหนึ่งหน่วย แล้ว จุดปลายความยาวส่วนโค้งของ θ อยู่ในควอดรันต์ที่ 3 P เป็นจุดปลายความยาวส่วนโค้ง ของ θ</p> <p>ABCP = _____ หน่วย ACB = _____ หน่วย ดังนั้น CP = _____ หน่วย นั่นคือ AB = _____ หน่วย</p>
<p>θ π $\theta - \pi$ $\theta - \pi$</p>	<p>176. จากกรอบที่ 175 การวัดส่วนโค้ง AB เป็นกัรวัด _____ เช็มนาฬิกา (ทวน/ตาม) ดังนั้น $\theta - \pi$ เป็นจำนวนจริง _____ (บวก/ลบ) ซึ่ง $\theta - \pi$ $\frac{0}{(>/<)}$ $\theta - \pi$ $\frac{\pi}{(>/<)^2}$ นั่นคือ $\frac{0}{(>/<)}$ $\theta - \pi$ $\frac{\pi}{(>/<)^2}$</p>	
<p>ทวน บวก > < < <</p>	<p>177. จากกรอบที่ 175 P คือจุดปลายความยาวส่วนโค้งของจำนวนจริง θ B คือจุดปลายความยาวส่วนโค้งของจำนวนจริง _____ ดังนั้น $\sin \theta =$ _____ และ $\cos \theta =$ _____ $\sin(\theta - \pi) =$ _____ และ $\cos(\theta - \pi) =$ _____ นั่นคือ $\sin \theta = \frac{(\sin(\theta - \pi)) / -\sin(\theta - \pi)}$ $\cos = \frac{(\cos(\theta - \pi)) / -\cos(\theta - \pi)}$</p>	

$\theta - \pi$ $-y \quad -x$ $y \quad x$ $-\sin(\theta - \pi)$ $-\cos(\theta - \pi)$	<p>178. นั่นคือจะสรุปได้ว่า</p> <p>ถ้า θ เป็นจำนวนจริงบวก ซึ่ง $\theta < 2\pi$ และเมื่อแทน θ ด้วยความยาวของส่วนโค้งของวงกลมหนึ่งหน่วย ทำให้จุดปลายความยาวส่วนโค้งของ θ อยู่ในควอดรันต์ที่ 3 แล้ว</p> <p>ก. $0 < \theta - \pi < \frac{\pi}{2}$</p> <p>ข. $\sin \theta = \underline{\hspace{2cm}}$</p> <p>$\cos \theta = \underline{\hspace{2cm}}$</p>
$< <$ $-\sin(\theta - \pi)$ $-\cos(\theta - \pi)$	<p>179. การเขียนค่าฟังก์ชันไซน์และฟังก์ชันโคไซน์ของจำนวนจริง 4 ให้อยู่ในรูปค่าของฟังก์ชันไซน์และฟังก์ชันโคไซน์ของจำนวนจริงตั้งแต่ 0 ถึง $\frac{\pi}{2}$ มีวิธีทำดังนี้คือ</p> <p>เนื่องจากเมื่อแทน 4 ด้วยความยาวของส่วนโค้งของวงกลมหนึ่งหน่วย แล้วจุดปลายความยาวส่วนโค้งของ 4 อยู่ในควอดรันต์ที่ 3</p> <p>ดังนั้น $0 < 4 - \pi < \frac{\pi}{2}$</p> <p>นั่นคือ $\sin 4 = \underline{\hspace{2cm}}$</p> <p>$\cos 4 = \underline{\hspace{2cm}}$</p>
$< <$ $-\sin(4 - \pi)$ $-\cos(4 - \pi)$	<p>180. ให้นักเรียนหาค่าของ $\sin \frac{5\pi}{4}$ และ $\cos \frac{5\pi}{4}$</p> <p>เนื่องจากเมื่อแทน $\frac{5\pi}{4}$ ด้วยความยาวของส่วนโค้งของวงกลมหนึ่งหน่วย แล้วจุดปลายความยาวส่วนโค้งของ $\frac{5\pi}{4}$ อยู่ในควอดรันต์ที่ 3</p> <p>ดังนั้น $0 < \frac{5\pi}{4} - \pi < \frac{\pi}{2}$</p> <p>นั่นคือ $\sin \frac{5\pi}{4} = -\sin(\frac{5\pi}{4} - \pi) = -\sin \frac{\pi}{4} = -\frac{1}{\sqrt{2}}$</p> <p>$\cos \frac{5\pi}{4} = \underline{\hspace{2cm}} = \underline{\hspace{2cm}} = \underline{\hspace{2cm}}$</p>

$\begin{aligned} &< < \\ &-\cos\left(\frac{5\pi}{4} - \pi\right) \\ &-\cos \frac{\pi}{4} \\ &-\frac{1}{2} \end{aligned}$	<p>181. ให้นักเรียนหาค่าของ $\sin \frac{7\pi}{6}$ และ $\cos \frac{7\pi}{6}$ เนื่องจากเมื่อแทน $\frac{7\pi}{6}$ ด้วยความยาวของส่วนโค้งของวงกลมหนึ่งหน่วย แล้วจุดปลายความยาวส่วนโค้งของ $\frac{7\pi}{6}$ อยู่ในควอดรันต์ที่ _____</p> <p>ดังนั้น $0 < \underline{\hspace{2cm}} < \frac{\pi}{2}$</p> <p>นั่นคือ $\sin \frac{7\pi}{6} = \underline{\hspace{2cm}}$</p> <p>$\cos \frac{7\pi}{6} = \underline{\hspace{2cm}}$</p>
$\begin{aligned} &3 \cdot \\ &\frac{7\pi}{6} - \pi \\ &-\sin\left(\frac{7\pi}{6} - \pi\right) \\ &= -\sin \frac{\pi}{6} \\ &= -\frac{1}{2} \\ &-\cos\left(\frac{7\pi}{6} - \pi\right) \\ &= -\cos \frac{\pi}{6} = -\frac{\sqrt{3}}{2} \end{aligned}$	<p>182. </p> <p>เนื่องจากแกน X เป็นแกนสมมาตรของวงกลมหนึ่งหน่วย ดังนั้น $\widehat{AB} = \underline{\hspace{2cm}}$</p> <p>แต่โคออร์ดิเนตของ B คือ (x, y) นั่นคือ โคออร์ดิเนตของ P คือ _____</p>
<p>PA (x, -y)</p>	<p>183. </p> <p>ให้ θ เป็นจำนวนจริงบวก ซึ่ง $0 < \theta < 2\pi$ และเมื่อแทน θ ด้วยความยาวของส่วนโค้งของวงกลมหนึ่งหน่วย แล้วจุดปลายความยาวส่วนโค้งของ θ อยู่ในควอดรันต์ที่ 4</p> <p>P คือจุดปลายความยาวส่วนโค้งของ θ</p> <p>$\widehat{ABP} = \underline{\hspace{2cm}}$ หน่วย</p> <p>$\widehat{ABPA} = \underline{\hspace{2cm}}$ หน่วย</p> <p>ดังนั้น $\widehat{PA} = \underline{\hspace{2cm}}$ หน่วย</p> <p>นั่นคือ $\widehat{AB} = \underline{\hspace{2cm}}$ หน่วย</p>

θ $2\pi - \theta$ $2\pi - \theta$	<p>184. จากกรอบที่ 183</p> <p>การวัดส่วนโค้ง AB เป็นการวัด <u> </u> เข็มนาฬิกา (ทวน/ตาม)</p> <p>ดังนั้น $2\pi - \theta$ เป็นจำนวนจริง <u> </u> (บวก/ลบ)</p> <p>ซึ่ง $2\pi - \theta \frac{0}{(>/<)}$ และ $2\pi - \theta \frac{\pi}{2}$</p> <p>นั่นคือ $0 \frac{2\pi - \theta}{(>/<)} \frac{\pi}{2}$</p>
<p>ทวน</p> <p>บวก</p> <p>> <</p> <p>< <</p>	<p>185. จากกรอบที่ 183</p> <p>P คือจุดปลายความยาวส่วนโค้งของจำนวนจริง θ</p> <p>B คือจุดปลายความยาวส่วนโค้งของจำนวนจริง <u> </u></p> <p>ดังนั้น $\sin \theta = \underline{\hspace{2cm}}$ และ $\cos \theta = \underline{\hspace{2cm}}$</p> <p>$\sin(2\pi - \theta) = \underline{\hspace{2cm}}$ และ $\cos(2\pi - \theta) = \underline{\hspace{2cm}}$</p> <p>นั่นคือ $\sin \theta = \frac{\hspace{2cm}}{(\sin(2\pi - \theta)/-\sin(2\pi - \theta))}$</p> <p>$\cos \theta = \frac{\hspace{2cm}}{(\cos(2\pi - \theta)/-\cos(2\pi - \theta))}$</p>
$2\pi - \theta$ <p>-y x</p> <p>y x</p> <p>$-\sin(2\pi - \theta)$</p> <p>$\cos(2\pi - \theta)$</p>	<p>186. นั่นคือจะสรุปได้ว่า</p> <p>ถ้า θ เป็นจำนวนจริงบวก ซึ่ง $\theta < 2\pi$ และเมื่อแทน θ ด้วยความยาวของส่วนโค้งของวงกลมหนึ่งหน่วย ทำให้จุดปลายความยาวส่วนโค้งของ θ อยู่ในควอดรันต์ที่ 4 แล้ว</p> <p>ก. $0 \frac{2\pi - \theta}{(>/<)} \frac{\pi}{2}$</p> <p>ข. $\sin \theta = \underline{\hspace{2cm}}$</p> <p>$\cos \theta = \underline{\hspace{2cm}}$</p>

$\begin{aligned} &< &< \\ &-\sin(2\pi - \theta) \\ &\cos(2\pi - \theta) \end{aligned}$	<p>187. การเขียนค่าฟังก์ชันตรีโกณมิติของจำนวนจริง $\frac{15\pi}{8}$ ให้อยู่ในรูปค่าของฟังก์ชันตรีโกณมิติของจำนวนจริงตั้งแต่ 0 ถึง $\frac{\pi}{2}$ มีวิธีทำดังนี้คือ</p> <p>เนื่องจากเมื่อแทน $\frac{15\pi}{8}$ ด้วยความยาวของส่วนโค้งของวงกลมหนึ่งหน่วย แล้วจุดปลายความยาวส่วนโค้งของ $\frac{15\pi}{8}$ อยู่ในควอดรันต์ที่ 4</p> <p>ดังนั้น $0 < \frac{2\pi - \frac{15\pi}{8}}{(\text{>/<})} < \frac{\pi}{2}$</p> <p>นั่นคือ $\sin \frac{15\pi}{8} = \underline{\hspace{2cm}}$</p> <p>$\cos \frac{15\pi}{8} = \underline{\hspace{2cm}}$</p>
$\begin{aligned} &-\sin(2\pi - \frac{15\pi}{8}) \\ &\cos(2\pi - \frac{15\pi}{8}) \end{aligned}$	<p>188. ให้นักเรียนหาค่าของ $\sin \frac{7\pi}{4}$ และ $\cos \frac{7\pi}{4}$</p> <p>เนื่องจากเมื่อแทน $\frac{7\pi}{4}$ ด้วยความยาวของส่วนโค้งของวงกลมหนึ่งหน่วย แล้วจุดปลายความยาวส่วนโค้งของ $\frac{7\pi}{4}$ อยู่ในควอดรันต์ที่ 4</p> <p>ดังนั้น $0 > \frac{2\pi - \frac{7\pi}{4}}{(\text{>/<})} > \frac{\pi}{2}$</p> <p>นั่นคือ $\sin \frac{7\pi}{4} = -\sin(2\pi - \frac{7\pi}{4}) = -\sin \frac{\pi}{4} = -\frac{1}{\sqrt{2}}$</p> <p>$\cos \frac{7\pi}{4} = \underline{\hspace{2cm}} = \underline{\hspace{2cm}} = \underline{\hspace{2cm}}$</p>
$\begin{aligned} &< &< \\ &\cos(2\pi - \frac{7\pi}{4}) \\ &\cos \frac{\pi}{4} = \frac{1}{\sqrt{2}} \end{aligned}$	<p>189. ให้นักเรียนหาค่าของ $\sin \frac{5\pi}{3}$ และ $\cos \frac{5\pi}{3}$</p> <p>เนื่องจากเมื่อแทน $\frac{5\pi}{3}$ ด้วยความยาวของส่วนโค้งของวงกลมหนึ่งหน่วยแล้ว จุดปลายความยาวส่วนโค้งของ $\frac{5\pi}{3}$ อยู่ในควอดรันต์ที่</p> <p>ดังนั้น $0 < \underline{\hspace{2cm}} < \frac{\pi}{2}$</p> <p>นั่นคือ $\sin \frac{5\pi}{3} = \underline{\hspace{2cm}}$</p> <p>$\cos \frac{5\pi}{3} = \underline{\hspace{2cm}}$</p>

4 $2\pi - \frac{5\pi}{3}$ $-\sin\left(2\pi - \frac{5\pi}{3}\right)$ $= -\sin \frac{\pi}{3}$ $= -\frac{\sqrt{3}}{2}$ $\cos\left(2\pi - \frac{5\pi}{3}\right)$ $= \cos \frac{\pi}{3}$ $= \frac{1}{2}$	<p>190. ให้นักเรียนเขียนค่าฟังก์ชันไซน์และโคไซน์ของจำนวนจริง -6 ให้อยู่ในรูปค่าของฟังก์ชันไซน์และโคไซน์ของจำนวน จริงตั้งแต่ 0 ถึง $\frac{\pi}{2}$</p> $\sin(-6) = \underline{\hspace{2cm}}$ $\cos(-6) = \underline{\hspace{2cm}}$ <p>และเนื่องจากเมื่อแทน 6 ด้วยความยาวของส่วนโค้งของวง กลมหนึ่งหน่วยแล้ว จุดปลายความยาวส่วนโค้งของ 6 อยู่ใน ควอดรันต์ที่ $\underline{\hspace{2cm}}$</p> <p>ดังนั้น $\sin 6 = \underline{\hspace{2cm}}$</p> $\cos 6 = \underline{\hspace{2cm}}$
$-\sin 6$ $\cos 6$ 4 $-\sin(2\pi - 6)$ $\cos(2\pi - 6)$	<p>191. จากกรอบที่ 190 นั่นคือจะได้ว่า</p> $\sin(-6) = \frac{(\sin(2\pi - 6)/-\sin(2\pi - 6))}{\hspace{2cm}}$ $\cos(-6) = \frac{(\cos(2\pi - 6)/-\cos(2\pi - 6))}{\hspace{2cm}}$
$\sin(2\pi - 6)$ $\cos(2\pi - 6)$	<p>192. ให้นักเรียนหาค่าของ $\sin \frac{11\pi}{6}$, $\cos \frac{4\pi}{3}$ และ $\cos \frac{5\pi}{6}$</p> $\sin \frac{11\pi}{6} = \underline{\hspace{2cm}}$ $\cos \frac{4\pi}{3} = \underline{\hspace{2cm}}$ $\cos \frac{5\pi}{6} = \underline{\hspace{2cm}}$

$-\sin\left(2\pi - \frac{11\pi}{6}\right) =$ $-\sin\frac{\pi}{6} = -\frac{1}{2}$ $-\cos\left(\frac{4\pi}{3} - \pi\right) =$ $-\cos\frac{\pi}{3} = -\frac{1}{2}$ $-\cos\left(\pi - \frac{5\pi}{6}\right) =$ $-\cos\frac{\pi}{6} = -\frac{\sqrt{3}}{2}$	
6. ฟังก์ชันตรีโกณมิติ	
	<p>193. ให้ θ เป็นจำนวนจริงใดๆ ถ้า $\cos \theta \neq 0$ แล้วจะสามารถหาค่าของ tangent θ ซึ่งเขียนแทนด้วย $\tan \theta$ และ secant θ ซึ่งเขียน แทนด้วย $\sec \theta$ ได้ดังนี้คือ</p> $\tan \theta = \frac{\sin \theta}{\cos \theta} \text{ และ } \sec \theta = \frac{1}{\cos \theta}$ <p>ดังนั้น ถ้า $\sin \alpha = a$ และ $\cos \alpha = b$ ซึ่ง $b \neq 0$</p> $\tan \alpha = \underline{\hspace{2cm}}, \text{ และ } \sec \alpha = \underline{\hspace{2cm}}$
$\frac{a}{b}$ $\frac{1}{b}$	<p>194. เนื่องจาก $\cos \frac{\pi}{4} = \frac{1}{\sqrt{2}}$ ดังนั้น $\cos \frac{\pi}{4} \neq 0$ นั่นคือ $\tan \frac{\pi}{4} = \frac{\sin \frac{\pi}{4}}{\cos \frac{\pi}{4}} = \underline{\hspace{2cm}}$ $\sec \frac{\pi}{4} = \underline{\hspace{2cm}} = \underline{\hspace{2cm}} = \underline{\hspace{2cm}}$</p>
\neq $\frac{1}{\cos \frac{\pi}{4}}$ $\frac{1}{\frac{1}{\sqrt{2}}}$ $\sqrt{2}$	<p>195. เนื่องจาก $\cos \frac{\pi}{2} = 0$ ดังนั้น $\tan \frac{\pi}{2}$ หาค่า $\underline{\hspace{2cm}}$ (ใด/ไม่ใด) และ $\sec \frac{\pi}{2}$ หาค่า $\underline{\hspace{2cm}}$ (ใด/ไม่ใด)</p>

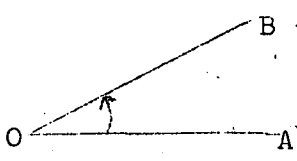
<p>ไม่ได้ ไม่ได้</p>	<p>196. ให้ θ เป็นจำนวนจริงใด ๆ ถ้า $\sin \theta \neq 0$ แล้วจะสามารถหาค่าของ cotangent θ ซึ่งเขียนแทนด้วย $\cot \theta$ หรือ $\text{cnt } \theta$ และ cosecant θ ซึ่งเขียนแทนด้วย $\text{cosec } \theta$ หรือ $\text{csc } \theta$ ได้ดังนี้คือ</p> $\cot \theta = \frac{\cos \theta}{\sin \theta} \quad \text{และ} \quad \text{cosec } \theta = \frac{1}{\sin \theta}$ <p>ดังนั้นถ้า $\sin \alpha = a$ และ $\cos \alpha = b$ ซึ่ง $a \neq 0$ แล้ว</p> $\cot \alpha = \underline{\hspace{2cm}} \quad \text{และ} \quad \text{cosec } \alpha = \underline{\hspace{2cm}}$
<p>$\frac{b}{a}$ $\frac{1}{a}$</p>	<p>197. เนื่องจาก $\sin \frac{\pi}{4} = \frac{1}{\sqrt{2}}$ ดังนั้น $\sin \frac{\pi}{4} \neq 0$ นั่นคือ $\cot \frac{\pi}{4} = \frac{\sin \frac{\pi}{4}}{\cos \frac{\pi}{4}} = \underline{\hspace{2cm}} = \underline{\hspace{2cm}}$ $\text{cosec } \frac{\pi}{4} = \underline{\hspace{2cm}} = \underline{\hspace{2cm}} = \underline{\hspace{2cm}}$</p>
<p>\neq $\frac{1}{\sqrt{2}}$ $\frac{1}{\sqrt{2}}$ 1 $\frac{1}{\sin \frac{\pi}{4}} = \frac{1}{\frac{1}{\sqrt{2}}} = \sqrt{2}$</p>	<p>198. เนื่องจาก $\sin 0 = 0$ ดังนั้น $\cot 0$ หาค่า $\underline{\hspace{2cm}}$ (ได้/ไม่ได้) $\text{cosec } 0$ หาค่า $\underline{\hspace{2cm}}$ (ได้/ไม่ได้)</p>
<p>ไม่ได้ ไม่ได้</p>	<p>199. นั่นคือเมื่อ θ เป็นจำนวนจริงใด ๆ จะสรุปได้ว่า ก. ถ้า $\cos \theta \neq 0$ แล้ว $\tan \theta = \underline{\hspace{2cm}}$ และ $\sec \theta = \underline{\hspace{2cm}}$ ข. ถ้า $\sin \theta \neq 0$ แล้ว $\cot \theta = \underline{\hspace{2cm}}$ และ $\text{cosec } \theta = \underline{\hspace{2cm}}$</p>

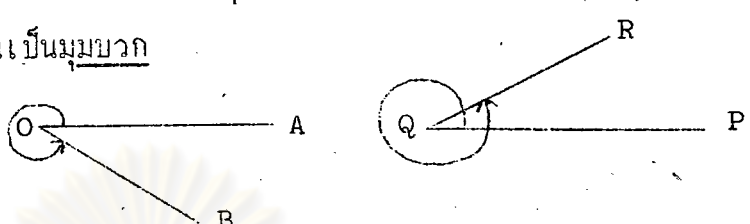

$\frac{\sin \theta}{\cos \theta} = \frac{1}{\cos \theta}$ $\frac{\cos \theta}{\sin \theta} = \frac{1}{\sin \theta}$	<p>200. เนื่องจาก $\sin \frac{\pi}{3} = \frac{\sqrt{3}}{2}$ และ $\cos \frac{\pi}{3} = \frac{1}{2}$</p> <p>ดังนั้น $\tan \frac{\pi}{3} = \frac{\sin \frac{\pi}{3}}{\cos \frac{\pi}{3}} = \frac{\frac{\sqrt{3}}{2}}{\frac{1}{2}} = \frac{\sqrt{3}}{2} \times \frac{2}{1} = \sqrt{3}$</p> <p>$\sec \frac{\pi}{3} = \underline{\hspace{1cm}} = \underline{\hspace{1cm}} = \underline{\hspace{1cm}} = \underline{\hspace{1cm}}$</p> <p>$\cot \frac{\pi}{3} = \underline{\hspace{1cm}} = \underline{\hspace{1cm}} = \underline{\hspace{1cm}} = \underline{\hspace{1cm}}$</p> <p>$\operatorname{cosec} \frac{\pi}{3} = \underline{\hspace{1cm}} = \underline{\hspace{1cm}} = \underline{\hspace{1cm}} = \underline{\hspace{1cm}}$</p>
$\frac{1}{\cos \frac{\pi}{3}} = \frac{1}{\frac{1}{2}} = 1 \times \frac{2}{1} = 2$ $\frac{\cos \frac{\pi}{3}}{\sin \frac{\pi}{3}} = \frac{\frac{1}{2}}{\frac{\sqrt{3}}{2}} = \frac{1 \times 2}{2 \times \sqrt{3}} = \frac{1}{\sqrt{3}}$ $\frac{1}{\sin \frac{\pi}{3}} = \frac{1}{\frac{\sqrt{3}}{2}} = 1 \times \frac{2}{\sqrt{3}} = \frac{2}{\sqrt{3}}$	<p>201. เนื่องจาก $\sin \frac{\pi}{6} = \frac{1}{2}$ และ $\cos \frac{\pi}{6} = \frac{\sqrt{3}}{2}$</p> <p>ดังนั้น $\tan \frac{\pi}{6} = \frac{\sin \frac{\pi}{6}}{\cos \frac{\pi}{6}} = \frac{\frac{1}{2}}{\frac{\sqrt{3}}{2}} = \frac{1}{2} \times \frac{2}{\sqrt{3}} = \frac{1}{\sqrt{3}}$</p> <p>$\sec \frac{\pi}{6} = \underline{\hspace{1cm}}$</p> <p>$\cot \frac{\pi}{6} = \underline{\hspace{1cm}}$</p> <p>$\operatorname{cosec} \frac{\pi}{6} = \underline{\hspace{1cm}}$</p>
$\frac{1}{\cos \frac{\pi}{6}} = \frac{1}{\frac{\sqrt{3}}{2}} = 1 \times \frac{2}{\sqrt{3}} = \frac{2}{\sqrt{3}}$ $\frac{\cos \frac{\pi}{6}}{\sin \frac{\pi}{6}} = \frac{\frac{\sqrt{3}}{2}}{\frac{1}{2}} = \frac{\sqrt{3}}{2} \times \frac{2}{1} = \sqrt{3}$ $\frac{1}{\sin \frac{\pi}{6}} = \frac{1}{\frac{1}{2}} = 1 \times \frac{2}{1} = 2$	<p>202. เนื่องจาก $\sin \pi = 0$ และ $\cos \pi = -1$</p> <p>ดังนั้น $\tan \pi = \frac{\sin \pi}{\cos \pi} = \frac{0}{-1} = 0$</p> <p>$\sec \pi = \underline{\hspace{1cm}}$</p> <p>$\cot \pi = \text{หาค่าไม่ได้}$</p> <p>$\operatorname{cosec} \pi = \underline{\hspace{1cm}}$</p>

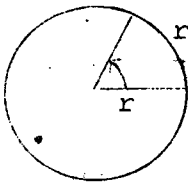


$\frac{1}{\cos \pi} = \frac{1}{-1} = -1$ <p>หาค่าไม่ได้</p>	<p>203. ให้นักเรียนหาค่าของ $\tan \frac{7\pi}{6}$, $\cot \frac{2\pi}{3}$ และ $\sec \frac{11\pi}{6}$</p> $\tan \frac{7\pi}{6} =$ <hr/> $\cot \frac{2\pi}{3} =$ <hr/> $\sec \frac{11\pi}{6} =$ <hr/>
$\frac{\sin \frac{7\pi}{6}}{\cos \frac{7\pi}{6}} = \frac{-\frac{1}{2}}{-\frac{\sqrt{3}}{2}}$ $= \frac{1}{\sqrt{3}}$ $\frac{\cos \frac{2\pi}{3}}{\sin \frac{2\pi}{3}} = \frac{-\frac{1}{2}}{\frac{\sqrt{3}}{2}}$ $= -\frac{1}{\sqrt{3}}$ $\frac{1}{\cos \frac{11\pi}{6}} = \frac{1}{\frac{\sqrt{3}}{2}} = \frac{2}{\sqrt{3}}$	<p>204.</p> $\cos \frac{\pi}{2} - \sin \frac{5\pi}{3} + \tan \frac{9\pi}{4} + \cos \frac{5\pi}{6}$ $=$ <hr/> $=$ <hr/> $=$ <hr/>
$0 - (-\frac{\sqrt{3}}{2}) + 1 - \frac{\sqrt{3}}{2}$ $0 + \frac{\sqrt{3}}{2} + 1 - \frac{\sqrt{3}}{2}$ 1	<p>205. $\sin \frac{5\pi}{6} + \tan^2 \frac{7\pi}{6} - \cos^2 \frac{3\pi}{4}$</p> $=$ <hr/> $=$ <hr/> $=$ <hr/>
$\frac{1}{2} + (\frac{1}{\sqrt{3}})^2 - (-\frac{1}{\sqrt{2}})^2$ $\frac{1}{2} + \frac{1}{3} - \frac{1}{2}$ $\frac{1}{3}$	<p>206. เนื่องจาก $\tan \theta = \frac{\sin \theta}{\cos \theta}$ และ $\cot \theta = \frac{\cos \theta}{\sin \theta}$</p> <p>ดังนั้น $\tan \theta \cdot \cot \theta = \frac{\sin \theta}{\cos \theta} \cdot \frac{\cos \theta}{\sin \theta} =$ <hr/></p>

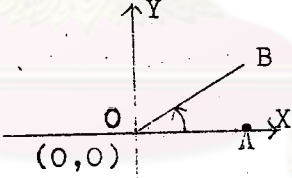
$\frac{\cos \theta}{\sin \theta} \quad 1$	<p>207. เนื่องจาก $\operatorname{cosec} \theta = \frac{1}{\sin \theta}$ และ $\sec \theta = \frac{1}{\cos \theta}$</p> <p>ดังนั้น $\sin \theta \cdot \operatorname{cosec} \theta = \sin \theta \cdot \underline{\hspace{2cm}} = \underline{\hspace{2cm}}$</p> <p>$\cos \theta \cdot \sec \theta = \cos \theta \cdot \underline{\hspace{2cm}} = \underline{\hspace{2cm}}$</p>
$\frac{1}{\sin \theta} \quad 1$ $\frac{1}{\cos \theta} \quad 1$	<p>208. ให้ $\cos \theta \neq 0$</p> <p>เนื่องจาก $\cos^2 \theta + \sin^2 \theta = 1$</p> <p>หารตลอดด้วย $\cos^2 \theta$ จะได้ว่า</p> $\frac{\cos^2 \theta}{\cos^2 \theta} + \frac{\sin^2 \theta}{\cos^2 \theta} = \frac{1}{\cos^2 \theta}$ $1 + \left(\frac{\sin \theta}{\cos \theta}\right)^2 = \left(\frac{1}{\cos \theta}\right)^2$ <p>ดังนั้น $1 + (\underline{\hspace{2cm}})^2 = (\underline{\hspace{2cm}})^2$</p>
$\tan \theta \quad \sec \theta$	<p>209. ถ้าแทน $(\tan \theta)^2$ ด้วย $\tan^2 \theta$</p> <p>และแทน $(\sec \theta)^2$ ด้วย $\sec^2 \theta$</p> <p>นั่นคือ $1 + \tan^2 \theta = \underline{\hspace{2cm}}$</p>
$\sec^2 \theta$	<p>210. ให้ $\sin \theta \neq 0$</p> <p>เนื่องจาก $\cos^2 \theta + \sin^2 \theta = 1$</p> <p>หารตลอดด้วย $\sin^2 \theta$ จะได้ว่า</p> $\frac{\cos^2 \theta}{\sin^2 \theta} + \frac{\sin^2 \theta}{\sin^2 \theta} = \frac{1}{\sin^2 \theta}$ $\left(\frac{\cos \theta}{\sin \theta}\right)^2 + 1 = \left(\frac{1}{\sin \theta}\right)^2$ <p>ดังนั้น $(\underline{\hspace{2cm}})^2 + 1 = (\underline{\hspace{2cm}})^2$</p>

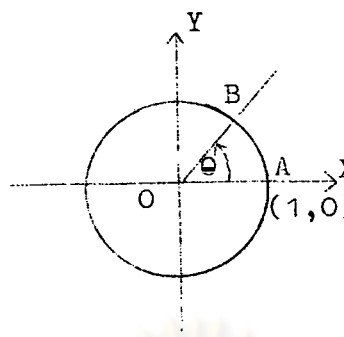
$\cot \theta \operatorname{cosec} \theta$	211. ถ้าแทน $(\cot \theta)^2$ ด้วย $\cot^2 \theta$ และแทน $(\operatorname{cosec} \theta)^2$ ด้วย $\operatorname{cosec}^2 \theta$ นั่นคือ $\cot^2 \theta + 1 = \underline{\hspace{2cm}}$
$\operatorname{cosec}^2 \theta$	212. นั่นคือ เมื่อ θ เป็นจำนวนจริงใด ๆ จะสรุปได้ว่า ก. $\tan \theta \cdot \cot \theta = \underline{\hspace{2cm}}$ ข. $\sin \theta \cdot \operatorname{cosec} \theta = \underline{\hspace{2cm}}$ ค. $\cos \theta \cdot \sec \theta = \underline{\hspace{2cm}}$ ง. $1 + \tan^2 \theta = \underline{\hspace{2cm}}$ จ. $\cot^2 \theta + 1 = \underline{\hspace{2cm}}$
$\frac{1}{\sec^2 \theta}$ $\frac{1}{\operatorname{cosec}^2 \theta}$	
7. ฟังก์ชันตรีโกณมิติของมุม	
	213. มุมในวิชาตรีโกณมิติ เกิดจากการหมุนส่วนของเส้นตรงใน แนวอน ซึ่งเรียกว่า <u>คานเริ่มต้นของมุม</u> โดยใช้จุดปลายสุด ทางซ้ายของคานเริ่มต้นของมุมเป็นจุดหมุน และมีลูกศรแสดง การหมุนด้วย เมื่อส่วนของเส้นตรงนี้หยุด ณ ที่ใดก็ตามจะทำให้ เกิดมุม เรียกส่วนของเส้นตรงนี้ว่า <u>คานสิ้นสุดของมุม</u> และ เรียกจุดหมุนว่า <u>จุดยอดของมุม</u> เช่น:- จากรูป มุม AOB  OA เรียกว่าคาน <u> </u> ของมุม O เรียกว่า <u> </u> ของมุม OB เรียกว่าคาน <u> </u> ของมุม

<p>เริ่มต้น จุดยอด สิ้นสุด</p>	<p>214. ถ้ามุมในวิชาตรีโกณมิติเกิดจากการหมุนส่วนของเส้นตรงซึ่ง เป็นด้านเริ่มต้นของมุม ในทิศทาง<u>ทวนเข็มนาฬิกา</u> มุมที่เกิดขึ้น เป็น<u>มุมบวก</u></p>  <p>มุม AOB เป็นมุม _____ เพราะหมุน _____ เข็มนาฬิกา (บวก/ลบ) (ทวน/ตาม)</p> <p>มุม PQR เป็นมุม _____ เพราะหมุน _____ เข็มนาฬิกา (บวก/ลบ) (ทวน/ตาม)</p>
<p>บวก ทวน บวก ทวน</p>	<p>215. ถ้ามุมในวิชาตรีโกณมิติเกิดจากการหมุนส่วนของเส้นตรงซึ่ง เป็นด้านเริ่มต้นของมุม ในทิศทาง<u>ตามเข็มนาฬิกา</u> มุมที่เกิดขึ้น เป็น<u>มุมลบ</u></p>  <p>มุม AOB เป็นมุม _____ เพราะหมุน _____ เข็มนาฬิกา (บวก/ลบ) (ทวน/ตาม)</p> <p>มุม PQR เป็นมุม _____ เพราะหมุน _____ เข็มนาฬิกา (บวก/ลบ) (ทวน/ตาม)</p>
<p>ลบ ตาม ลบ ตาม</p>	<p>216. หน่วยในการวัดมุมที่เคยเรียนมาแล้ว คือ องศา (°) และ จะแบ่งหน่วยองศาออกเป็นหน่วยย่อยคือ ลิปดา (') และวิลิปดา (") ใ้คั้งนี้คือ</p> <p>1° = 60'</p> <p>1' = 60"</p> <p>คั้งนั้น $\frac{1}{2}^{\circ} = \frac{1}{2} (\quad)' = \quad \quad \quad$</p> <p>$\frac{1}{3}^{\circ} = \frac{1}{3} (\quad)' = \quad \quad \quad$</p>

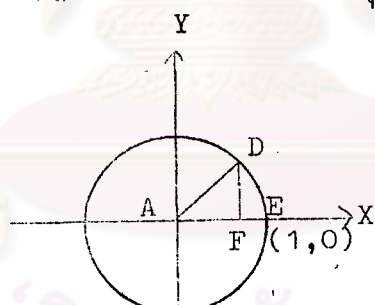
<p>60 30 60 20</p>	<p>217. $10\frac{27}{80} = 10^{\circ} + \frac{27}{80}$ $= 10^{\circ} + \frac{27}{80} (\quad)'$ $= 10^{\circ} + 20\frac{5}{16}'$ $= 10^{\circ} + 20' + \frac{5}{16}'$ $= 10^{\circ} + 20' + \frac{5}{16} (\quad)''$ $= 10^{\circ} + 20' + 15''$ นั่นคือ $10\frac{27}{80} = 10^{\circ} 20' 15''$</p>
<p>60 60</p>	<p>218. ให้นักเรียนเขียนขนาดของมุม 20.2625° เป็น องศา, ลิปดา และวิลิปดา</p> <p>$20.2625^{\circ} =$ _____ _____ _____ _____ _____ _____ _____ _____ _____ _____</p> <p>นั่นคือ $20.2625^{\circ} =$ _____</p>
<p>$20^{\circ} + .2625$ $20^{\circ} + .2625(60)$ $20^{\circ} + 15.75'$ $20^{\circ} + 15' + .75'$ $20^{\circ} + 15' + .75(60)''$ $20^{\circ} + 15' + 45''$ $20^{\circ} 15' 45''$</p>	<p>219. หน่วยในการวัดมุมที่สำคัญอีกชนิดหนึ่ง คือการวัดมุมเป็น <u>เรเดียน</u></p> <div style="display: flex; align-items: center;">  <div> <p>มุมที่มีขนาด 1 เรเดียน คือมุมที่จุดศูนย์กลางของวงกลม ซึ่งรองรับด้วยส่วนโค้งของวงกลมที่ยาวเท่ากับรัศมีของวงกลม ดังนั้นถ้าวงกลมมีรัศมียาว r หน่วยแล้วมุม 1 เรเดียนคือมุมที่ _____ ของวงกลม ซึ่งรองรับด้วยส่วนโค้งของวงกลมยาว _____ หน่วย</p> </div> </div>

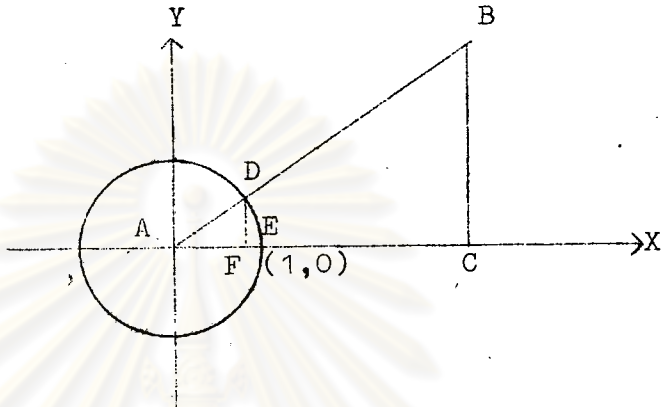
<p>จุดศูนย์กลาง r</p>	<p>220. ให้วงกลมมีรัศมียาว r หน่วย ดังนั้นเส้นรอบวงของวงกลมยาว $2\pi r$ หน่วย จากความหมายของมุม 1 เเรเดียนจะได้ว่า เส้นรอบวงยาว r หน่วย ปิดมุมที่จุดศูนย์กลาง 1 เเรเดียน ดังนั้น " $2\pi r$ " " $\frac{2\pi r}{r}$ " " " " " " " " " " " " " นั่นคือมุมรอบจุดศูนย์กลางของวงกลม = _____ เเรเดียน</p>
<p>2π 2π</p>	<p>221. เนื่องจากมุมรอบจุดศูนย์กลางของวงกลม = 360° และมุมรอบจุดศูนย์กลางของวงกลม = 2π เเรเดียน ดังนั้น $360^\circ =$ _____ เเรเดียน $180^\circ =$ _____ เเรเดียน นั่นคือ _____ เเรเดียน = 180°</p>
<p>2π π π</p>	<p>222. การเปลี่ยนมุม $\frac{1}{2}$ เเรเดียน เป็น องศา มีวิธีทำดังนี้คือ เนื่องจาก π เเรเดียน = 180 องศา ดังนั้น $\frac{1}{2}$ เเรเดียน = $\frac{1}{2} \times$ _____ องศา \approx $\frac{90}{3.1416}$ องศา $= 28.65$ องศา $= 28^\circ$ _____ นั่นคือ $\frac{1}{2}$ เเรเดียน $\approx 28^\circ$ _____</p>
<p>$\frac{180}{\pi}$ 39 39</p>	<p>223. ให้นักเรียนเปลี่ยนมุม $\frac{2\pi}{5}$ เเรเดียน เป็นองศา. เนื่องจาก _____ ดังนั้น _____ _____ _____ นั่นคือ $\frac{2\pi}{5}$ เเรเดียน = _____</p>

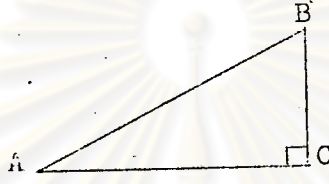
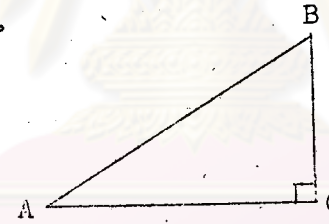
$\pi \text{ เรเดียน} = 180 \text{ องศา}$ $\frac{2\pi}{5} \text{ " } = \frac{2\pi}{5} \times \frac{180}{\pi} \text{ "}$ $= 72^\circ$ 72°	<p>224. การเปลี่ยนมุม 75° เป็น เรเดียน มีวิธีทำดังนี้คือ</p> <p>เนื่องจาก $180^\circ = \pi$ เรเดียน</p> <p>ดังนั้น $75^\circ = 75 \times \underline{\hspace{2cm}}$ เรเดียน</p> <p>$= \underline{\hspace{2cm}}$ เรเดียน</p> <p>นั่นคือ $75^\circ = \underline{\hspace{2cm}}$ เรเดียน</p>
$\frac{\pi}{180}$ $\frac{5\pi}{12}$ $\frac{5\pi}{12}$	<p>225. ให้นักเรียนเปลี่ยนมุม -60° เป็นเรเดียน</p> <p>เนื่องจาก $\underline{\hspace{2cm}}$</p> <p>ดังนั้น $\underline{\hspace{2cm}}$</p> <p>นั่นคือ $-60^\circ = \underline{\hspace{2cm}}$ เรเดียน</p>
$180^\circ = \pi \text{ เรเดียน}$ $-60^\circ = -60 \times \frac{\pi}{180} \text{ "}$ $= -\frac{\pi}{3} \text{ "}$ $-\frac{\pi}{3}$	<p>226. มุมที่อยู่ในตำแหน่งมาตรฐาน คือมุมที่จุดยอดของมุม อยู่ที่จุด $(0,0)$ และด้านเริ่มต้นของมุมตามไปตาม แกน x ทางบวก</p> <p>จากรูป</p>  <p>มุม AOB เป็นมุมในตำแหน่ง มาตรฐาน</p> <p>ดังนั้นจุดยอดของมุมคือจุด $\underline{\hspace{2cm}}$</p> <p>ด้านเริ่มต้นของมุมคือ $\underline{\hspace{2cm}}$</p> <p>ด้านสิ้นสุดของมุมคือ $\underline{\hspace{2cm}}$</p>
<p>o</p> <p>OA</p> <p>OB</p>	<p>227. เนื่องจากวงกลมหนึ่งหน่วยมีรัศมียาว 1 หน่วย ดังนั้นส่วนโค้งของวงกลมหนึ่งหน่วยที่รองรับมุมที่ จุดศูนย์กลาง 1 เรเดียน จะต้องยาว $\underline{\hspace{2cm}}$ หน่วย นั่นคือส่วนโค้งของวงกลมหนึ่งหน่วยที่รองรับมุมที่จุด ศูนย์กลาง ๑ เรเดียน จะต้องยาว $\underline{\hspace{2cm}}$ หน่วย</p>

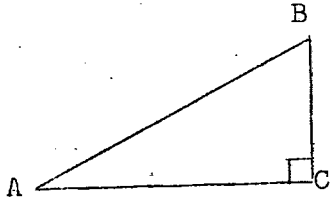
<p>1 e</p>	<p>228.</p>  <p>มุม $\angle AOB$ เป็นมุมในตำแหน่งมาตรฐาน และมุม $\angle AOB$ กาง θ เรเดียน ดังนั้น $\widehat{AB} = \underline{\hspace{2cm}}$ หน่วย</p> <p>นั่นคือ B คือจุดปลายความยาวส่วนโค้งของจำนวนจริง $\underline{\hspace{2cm}}$ และ B คือจุดที่คานสิ้นสุดของมุม $\angle AOB$ ซึ่งกาง $\underline{\hspace{2cm}}$ เรเดียน ตัดวงกลมหนึ่งหน่วย</p>
<p>e e e</p>	<p>229. นั่นคือจะสรุปได้ว่า จุดปลายความยาวส่วนโค้งของจำนวนจริง θ เมื่อแทน θ ด้วยความยาวของส่วนโค้งของวงกลมหนึ่งหน่วย $\underline{\hspace{2cm}}$ จุด (เป็น/ไม่เป็น) เดียวกันกับจุดที่คานสิ้นสุดของมุมในตำแหน่งมาตรฐาน ซึ่ง กาง θ เรเดียน ตัดวงกลมหนึ่งหน่วย</p>
<p>เป็น</p>	<p>230. เนื่องจาก ไม่ว่าจะใช้วิธีวัดมุมในตำแหน่งมาตรฐาน ให้กาง θ เรเดียน หรือวัดส่วนโค้งของวงกลมหนึ่งหน่วยให้ยาว θ หน่วย แล้วจุดที่คานสิ้นสุดของมุมตัดวงกลมหนึ่งหน่วย และ จุดปลายความยาวส่วนโค้งเป็นจุดเดียวกันเสมอ ดังนั้นฟังก์ชันตรีโกณมิติของมุมที่กาง θ เรเดียน และฟังก์ชัน ตรีโกณมิติของจำนวนจริง θ มีค่าเท่ากัน</p> <p>นั่นคือ $\sin \theta$ เรเดียน = $\sin \theta$ $\cos \theta$ เรเดียน = $\underline{\hspace{2cm}}$ $\tan \theta$ เรเดียน = $\underline{\hspace{2cm}}$ $\sec \theta$ เรเดียน = $\underline{\hspace{2cm}}$ $\cot \theta$ เรเดียน = $\underline{\hspace{2cm}}$ $\operatorname{cosec} \theta$ เรเดียน = $\underline{\hspace{2cm}}$</p>

$\cos \theta$ $\tan \theta$ $\sec \theta$ $\cot \theta$ $\operatorname{cosec} \theta$	<p>231. การหาค่าของ $\sin \frac{\pi}{4}$ เรเดียน, $\cos \frac{\pi}{4}$ เรเดียนและ $\tan \frac{\pi}{4}$ เรเดียน มีวิธีทำดังนี้คือ</p> $\sin \frac{\pi}{4} \text{ เรเดียน} = \sin \frac{\pi}{4} = \frac{1}{\sqrt{2}}$ $\cos \frac{\pi}{4} \text{ เรเดียน} = \underline{\hspace{2cm}}$ $\tan \frac{\pi}{4} \text{ เรเดียน} = \underline{\hspace{2cm}}$
$\cos \frac{\pi}{4} = \frac{1}{\sqrt{2}}$ $\tan \frac{\pi}{4} = 1$	<p>232. การหาค่าของ $\sin 60^\circ$, $\cos 60^\circ$ และ $\tan 60^\circ$ มีวิธีทำดังนี้คือ</p> <p>เนื่องจาก $60^\circ = \frac{\pi}{3}$ เรเดียน</p> <p>ดังนั้น $\sin 60^\circ = \sin \frac{\pi}{3} = \frac{\sqrt{3}}{2}$</p> $\cos 60^\circ = \underline{\hspace{2cm}}$ $\tan 60^\circ = \underline{\hspace{2cm}}$
$\cos \frac{\pi}{3} = \frac{1}{2}$ $\tan \frac{\pi}{3} = \sqrt{3}$	<p>233. ให้นักเรียนหาค่าของ $\sin 30^\circ$, $\cos 30^\circ$ และ $\tan 30^\circ$ เนื่องจาก _____</p> <p>ดังนั้น $\sin 30^\circ = \underline{\hspace{2cm}}$</p> $\cos 30^\circ = \underline{\hspace{2cm}}$ $\tan 30^\circ = \underline{\hspace{2cm}}$
$30^\circ = \frac{\pi}{6} \text{ เรเดียน}$ $\sin \frac{\pi}{6} = \frac{1}{2}$ $\cos \frac{\pi}{6} = \frac{\sqrt{3}}{2}$ $\tan \frac{\pi}{6} = \frac{1}{\sqrt{3}}$	<p>234. ให้นักเรียนหาค่าของ $\sec 135^\circ$, $\cot 120^\circ$, $\operatorname{cosec} 315^\circ$ และ $\tan 225^\circ$</p> $\sec 135^\circ = \sec \frac{3\pi}{4} = -\sqrt{2}$ $\cot 120^\circ = \underline{\hspace{2cm}}$ $\operatorname{cosec} 315^\circ = \underline{\hspace{2cm}}$ $\tan 225^\circ = \underline{\hspace{2cm}}$

$\cot \frac{2\pi}{3} = -\frac{1}{\sqrt{3}}$ $\operatorname{cosec} \left(-\frac{7\pi}{4}\right) = \sqrt{2}$ $\tan \frac{5\pi}{4} = 1$	
<p>๘. พังก์ชันตรีโกณมิติของมุมของสามเหลี่ยมมุมฉาก</p>	
	<p>235. ให้มุม A กาง θ เรเดียน ดังนั้น $\sin A = \sin \theta$ เรเดียน $=$ _____ $\cos A = \cos \theta$ เรเดียน $=$ _____</p>
$\sin \theta$ $\cos \theta$	<p>236. เนื่องจากถ้าวัดส่วนของวงกลมหนึ่งหน่วยที่วัดมุมที่จุดศูนย์กลางยาว θ หน่วย แล้วมุมที่จุดศูนย์กลางกาง θ เรเดียน จากรูป ส่วนโค้งที่วัดมุม A ยาวเท่ากับ <u>ความยาว \widehat{ED}</u> หน่วย ดังนั้นมุม A กาง _____ เรเดียน $\sin A = \sin (\text{_____})$ $\cos A = \cos (\text{_____})$</p> 
ความยาว \widehat{ED} ความยาว \widehat{ED} ความยาว \widehat{ED}	<p>237. จากกรณที่ 236 โคออร์ดิเนตของ D คือ (AF, _____) ความยาว \widehat{ED} _____ จำนวนจริง (เป็น/ไม่เป็น) ดังนั้น $\sin (\text{ความยาว } \widehat{ED}) = \frac{\text{_____}}{\text{(AF/FD)}}$ $\cos (\text{ความยาว } \widehat{ED}) = \frac{\text{_____}}{\text{(AF/FD)}}$</p>

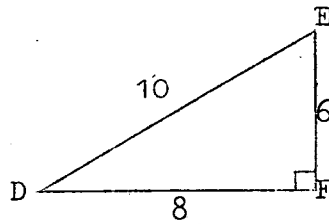
<p>FD</p> <p>เป็น</p> <p>$\frac{FD}{AF}$</p>	<p>238. จากกรอบที่ 237</p> <p>นั่นคือจะได้ว่า $\sin A = \frac{\quad}{\quad}$</p> <p>และ $\cos A = \frac{\quad}{\quad}$</p>
<p>FD</p> <p>AF</p>	<p>239.</p>  <p>ให้สามเหลี่ยมมุมฉาก ABC มีมุม C เป็นมุมฉาก และวางรูปสามเหลี่ยม ABC ให้มุม CAB เป็นมุมในตำแหน่งมาตรฐาน</p> <p>ดังนั้นส่วนโค้งของวงกลมหนึ่งหน่วยที่ปิดมุม A คือ _____</p> <p>นั่นคือ $\sin A = \frac{\quad}{\quad}$</p> <p>$\cos A = \frac{\quad}{\quad}$</p>
<p>\widehat{ED}</p> <p>DF</p> <p>AF</p>	<p>240. จากกรอบที่ 239</p> <p>เนื่องจาก $\triangle ABC$ และ $\triangle ADF$ เป็นสามเหลี่ยมคล้าย</p> <p>ดังนั้น $\frac{AD}{AB} = \frac{\quad}{\quad} = \frac{\quad}{\quad}$</p>
<p>$\frac{DF}{BC}$</p> <p>$\frac{AF}{AC}$</p>	<p>241. จากกรอบที่ 240</p> <p>พิจารณาสัดส่วน $\frac{AD}{AB} = \frac{DF}{BC}$ จะได้ว่า $\frac{BC}{AB} = \frac{\quad}{\quad}$</p> <p>และพิจารณาสัดส่วน $\frac{AD}{AB} = \frac{AF}{AC}$ จะได้ว่า $\frac{AC}{AB} = \frac{\quad}{\quad}$</p>

$\frac{DF}{AD}$ $\frac{AF}{AD}$	<p>242. จากกรอบที่ 241</p> <p>AD = _____ หน่วย</p> <p>ดังนั้น $\frac{BC}{AB} = \underline{\hspace{2cm}}$ และ $\frac{AC}{AB} = \underline{\hspace{2cm}}$</p> <p>นั่นคือ $\sin A = \underline{\hspace{2cm}}$</p> <p>และ $\cos A = \underline{\hspace{2cm}}$</p>
<p>1</p> $\frac{DF}{AF}$ $\frac{BC}{AB}$ $\frac{AC}{AB}$	<p>243.</p>  <p>นั่นคือจะสรุปได้ว่า ถ้าสามเหลี่ยมมุมฉาก ABC มีมุม C เป็นมุมฉากแล้ว</p> <p>$\sin A = \underline{\hspace{2cm}}$</p> <p>$\cos A = \underline{\hspace{2cm}}$</p>
$\frac{BC}{AB}$ $\frac{AC}{AB}$	<p>244.</p>  <p>สามเหลี่ยมมุมฉาก ABC มีมุม C เป็นมุมฉาก</p> <p>AB เรียกว่าด้านตรงข้ามมุมฉาก</p> <p><u>พิจารณามุม B</u></p> <p>AC เรียกว่าด้านตรงข้ามมุม B</p> <p>BC เรียกว่าด้านประชิดมุม B</p> <p><u>พิจารณามุม A</u></p> <p>BC เรียกว่าด้าน _____ มุม A</p> <p>AC เรียกว่าด้าน _____ มุม A</p>

<p>ตรงข้าม ประชิด</p>	<p>245.</p>  <p>ตามเหลี่ยมมุมฉาก ABC มีมุม C เป็นมุมฉาก เนื่องจาก $\sin A = \frac{BC}{AB}$ และ $\cos A = \frac{AC}{AB}$</p> <p>ดังนั้น $\sin A = \frac{\text{ด้านตรงข้ามมุม } A}{\text{ด้าน}} = \frac{\text{ด้านตรงข้ามมุม } A}{\text{ด้าน}}$ $\cos A = \frac{\text{ด้าน}}{\text{ด้าน}}$</p>
<p>ตรงข้าม ตรงข้ามมุมฉาก ประชิด ตรงข้ามมุมฉาก</p>	<p>246. จากกรอบที่ 245</p> <p>$\tan A = \frac{\sin A}{\cos A} = \frac{\text{ด้านตรงข้ามมุม } A}{\text{ด้านประชิดมุม } A}$</p> <p>$\sec A = \frac{1}{\cos A} = \underline{\hspace{2cm}}$</p> <p>$\cot A = \frac{\cos A}{\sin A} = \underline{\hspace{2cm}}$</p> <p>$\text{cosec } A = \frac{1}{\sin A} = \underline{\hspace{2cm}}$</p>
<p>ด้านตรงข้ามมุมฉาก ด้านประชิดมุม A ด้านประชิดมุม A ด้านตรงข้ามมุม A ด้านตรงข้ามมุมฉาก ด้านตรงข้ามมุม A</p>	<p>247. นั่นคือจะสรุปได้ว่า ถ้าสามเหลี่ยมมุมฉาก ABC มีมุม C เป็นมุมฉากแล้ว</p> <p>$\sin A = \underline{\hspace{2cm}}$</p> <p>$\cos A = \underline{\hspace{2cm}}$</p> <p>$\tan A = \underline{\hspace{2cm}}$</p> <p>$\sec A = \underline{\hspace{2cm}}$</p> <p>$\cot A = \underline{\hspace{2cm}}$</p> <p>$\text{cosec } A = \underline{\hspace{2cm}}$</p>

คานตรงข้ามมุม A
 คานตรงข้ามมุมฉาก
 คานประชิดมุม A
 คานตรงข้ามมุมฉาก
 คานตรงข้ามมุม A
 คานประชิดมุม A
 คานตรงข้ามมุมฉาก
 คานประชิดมุม A
 คานประชิดมุม A
 คานตรงข้ามมุม A
 คานตรงข้ามมุมฉาก
 คานตรงข้ามมุม A

248.



สามเหลี่ยมมุมฉาก DEF มีมุม F เป็นมุมฉาก

DE = 10, DF = 8 และ EF = 6

ดังนั้น $\sin D = \frac{EF}{DE} = \frac{6}{10} = \frac{3}{5}$

$\cos D =$ _____

$\tan D =$ _____

$\sec D =$ _____

$\cot D =$ _____

$\operatorname{cosec} D =$ _____

$\frac{DF}{DE} = \frac{8}{10} = \frac{4}{5}$

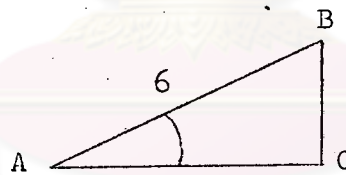
$\frac{EF}{DF} = \frac{6}{8} = \frac{3}{4}$

$\frac{DE}{DF} = \frac{10}{8} = \frac{5}{4}$

$\frac{DF}{EF} = \frac{8}{6} = \frac{4}{3}$

$\frac{DE}{EF} = \frac{10}{6} = \frac{5}{3}$

249.



สามเหลี่ยมมุมฉาก ABC มี

มุม C เป็นมุมฉาก., $\hat{A} = 30^\circ$

และ AB = 6 หน่วย ให้หาว่า

BC ยาวกี่หน่วย

เนื่องจาก $\sin A = \frac{BC}{AB} = \frac{BC}{6}$

และ $\sin A = \sin 30^\circ = \frac{1}{2}$

ดังนั้น $\frac{BC}{6} = \frac{1}{2}$

นั่นคือ BC = _____ หน่วย